

Konkur Core

✦ اقتصاد دهم - رشته انسانی ✦



MEDICAL STUS

خوبیا برمیگرده

اشتراک




مدیکال پلاس

تمام آموزش‌های مدیکال، در یک اشتراک!

اشتراک **MEDICAL PLUS** فقط شامل محصولات آموزشی زیر است

73CORE

73 CORE



- آموزش پربازده کنگور
- به جای اتلاف وقت، برو سر اصل مطلب!
- جزوات هدفمند و به‌روز
- تدریس اسکرین رکورد
- تمرکز بر تیپ تست‌های پرتکرار

جاده نهایی



- روزی فقط ۱ ساعت برای ۲۰ نهایی
- برنامه تا خود امتحانات
- جزوه کامل و به‌روز
- فیلم آموزشی متناسب با جزوه
- تمرین + نمونه سوال + آزمون

جاده نهایی

کاملاً ویرایش شده برای ۲۰ نهایی

صد فرهنگیان



- ۲۵ ساعت آموزش کامل اختصاصی فرهنگیان
- هوش + تعلیم و تربیت + دین و زندگی
- جزوه و تدریس کامل (حدود ۲۵ ساعت)
- جزوه کامل مصاحبه (۱۰۰ صفحه)
- دسترسی به گروه VIP آزمون

مزایای اشتراک مدیکال پلاس



دسترسی کامل به سه محصول برتر آموزشی



آپدیت مداوم محتوا



دسترسی دائمی و نامحدود



پشتیبانی شروع کار (ویژه اشتراک ۳ ساله)



ضمانت عودت وجه تا ۱۴ روز



با یک اشتراک، سه محصول قدرتمند آموزشی را در اختیار شماست!



@medical_stus



medicalstus.ir



خوبیا برمیگرده



طرح‌های مشاوره

۳ سطح پشتیبانی، متناسب با نیاز تو



MENTORING

برای دانش‌آموزان
خودران و مستقل



تماس
هفتگی



گزارش
شبهانه



آزمونای مبحثی
و کویزای شبهانه



بدون
برنامه‌ریزی



اگه خودت برنامه می‌ریزی و فقط به همراه مطمئن
لازم داری تا ادامه بدی و بهتر بشی، این طرح برای تونه!



TASK PLAN

برای دانش‌آموزان
نیازمند برنامه کامل



تماس
هفتگی



گزارش
شبهانه



آزمونای مبحثی
و کویزای شبهانه



برنامه‌ریزی
شخصی



اگه می‌خوای از صفر تا صد، با یه برنامه شخصی دقیق
و منظم جلو بری و هیچ چیزی رو از دست ندی!



TASK PLAN PRO

برای دانش‌آموزان
با نیاز به پشتیبانی بالا



۲ تماس
در هفته



۲ گزارش
در روز



آزمونای مبحثی
و کویزای شبهانه



برنامه‌ریزی
شخصی



اگه می‌خوای پیشترین پیگیری و همراهی رو داشته باشی
و با قدرت و تمرکز کامل به هدفت برسی!



امکان تغییر مشاور
تغییر مشاور در صورت
نیاز، سریع و راحت



امکان خروج در صورت
کم‌کاری مشاور
اگه عملکرد مشاور رضایت‌بخش
نیود، می‌تونی خارج بشی



سیستم آزمونی مداوم
با سوالات به روز
سوالات مداوم و به‌روز متناسب
با سطح و برنامه‌ات



پشتیبانی واقعی
در کنار تو هستیم
تا به هدفت برسی



با هر طرح مشاوره، اشتراک **MEDICAL PLUS** با تخفیف ویژه در دسترسه!

سوال ۸

درس اول: کسب و کار و کارآفرینی

۱ تولیدکننده‌ای در طول سال نصف تولیدات خود را به ارزش هر محصول بیست هزار تومان فروخته است. اگر تعداد محصول تولید شده ۸۰۰ واحد و هزینه تولید هر محصول ده هزار تومان باشد. پاسخ پرسش‌های زیر، به ترتیب (از راست به چپ)، کدام است؟
الف) درآمد تولیدکننده چند تومان است؟
ب) سود تولیدکننده، چقدر است؟

- ۱) ۸,۰۰۰,۰۰۰ - سود نداشته است. ۲) ۱۶,۰۰۰,۰۰۰ - زیان کرده است.
۳) ۸,۰۰۰,۰۰۰ - ۸,۰۰۰,۰۰۰ تومان ۴) ۱۶,۰۰۰,۰۰۰ - ۸,۰۰۰,۰۰۰ تومان

کنکورهای خارج از کشور - سراسری - انسانی

۲ فرض کنید تورم امسال ۳۲٪ بوده و هزینه تولید نیز به همین میزان افزایش یابد. در صورتی که تقاضا هیچ تغییری نکند و تولیدکنندگان بخواهند بدون تحمل زیان به فعالیت خود برای سال آینده ادامه دهند، کدام مورد درباره سود، درست است؟

- ۱) نرخ سود کاهش می‌یابد. ۲) نرخ سود افزایش می‌یابد.
۳) میزان رقم سود تغییر نمی‌کند. ۴) نرخ سود تغییر نمی‌کند.

سراسری - انسانی - تیرماه ۱۴۰۳

۳ با توجه به اطلاعات ارائه شده در جدول زیر، نتیجه عملکرد سالیانه یک باغدار به همراه دوازده نفر کارگر و یک مهندس کشاورزی با تولید هفت و نیم تن میوه به ارزش شش و نیم میلیارد تومان، کدام مورد است؟

۱	اجاره ماهیانه باغ	۶۰ میلیون تومان
۲	حقوق متوسط ماهیانه هر کارگر	$\frac{1}{3}$ اجاره وسایل
۳	خرید منزل مسکونی صاحب باغ	۱۰۰ میلیون تومان
۴	اجاره وسایل و ابزار مورد نیاز	۷۵ میلیون تومان
۵	خرید سم و کود مناسب	۴۰ میلیون تومان
۶	کرایه حمل و نقل محصول	۲۰ میلیون تومان
۷	حقوق ماهیانه باغدار و مهندس	۱۲۰ میلیون تومان

- ۱) ۵۰۵ میلیون تومان سود ۲) ۶۰۵ میلیون تومان سود ۳) ۵۰۵ میلیون تومان ضرر ۴) ۶۰۵ میلیون تومان ضرر

کنکورهای خارج از کشور - سراسری - انسانی

- ۴ کدام ویژگی مشترک کارآفرینان موفق در افراد کارآفرین زیر به ترتیب برجسته تر است؟
 - آقای سعیدی اشتیاق و توانایی حل مسئله را دارد.
 - خانم موسوی بسیار دلگرم و مطمئن به موفقیت اقتصادی است.
 - خانم مدنی در راه اندازی کسب و کار جدید از نظم و پایداری تحسین برانگیزی برخوردار است.
 - آقای جدیدی با شجاعت و تدبیر، پس انداز خود را برای راه اندازی فعالیت اقتصادی جدید هزینه می کند.

- ۱ تیزبین - پرانگیزه - سازمان دهنده - خوش بین
 ۲ تیزبین - پرانگیزه - خوش بین - نوآور
 ۳ پرانگیزه - خوش بین - پرانگیزه - ریسک پذیر
 ۴ پرانگیزه - خوش بین - سازمان دهنده - ریسک پذیر

کنکورهای خارج از کشور - سراسری - انسانی

- ۵ یک واحد تولید کفش با ۱۰ نیروی کار، به شرح زیر فعالیت می کند. با توجه به درآمد و هزینه های آن، سود واقعی این واحد تولیدی چقدر است؟

- الف) خرید مواد اولیه در هر ماه $\frac{1}{8}$ سرمایه فیزیکی
 ب) دستمزد ماهیانه هر کارگر ۴ میلیون تومان
 ج) هزینه آب، برق، گاز و اجاره ماهیانه، معادل ۲۵ درصد دستمزد کارگران در سال
 د) سرمایه فیزیکی (تجهیزات تولید) معادل ۸۰۰ میلیون تومان
 هـ) ماهیانه ۱۵۰۰ جفت کفش تولید و با قیمت ۶۰۰ هزار تومان فروخته می شود.
 و) هزینه فرصت (هزینه پنهان) کارفرما برای شاغل شدن در یک شرکت مهندسی، ماهیانه ۲۰ میلیون تومان است.

- ۱ ۶,۶۴۰,۰۰۰,۰۰۰ ۲ ۷,۱۲۰,۰۰۰,۰۰۰ ۳ ۶,۸۸۰,۰۰۰,۰۰۰ ۴ ۶,۴۰۰,۰۰۰,۰۰۰

سراسری - انسانی - ۱۴۰۲ تیرماه

- ۶ هر کدام از موارد زیر، به ترتیب مربوط به کدام ویژگی مشترک کارآفرینان موفق می باشند؟
 الف) ایده ها را به محصولات جدید و یا کسب و کار جدید تبدیل می کنند.
 ب) کارآفرینان واقع بین هستند اما مطمئن و دلگرم به موفقیت اقتصادی هستند.
 ج) کارآفرینان موفق، خود را با شرایط بازار وفق می دهند.
 د) نظم، پایداری، انضباط، اشتیاق و توانایی حل مسئله را دارند.

- ۱ تیزبین - خوش بین - ریسک پذیر - سازمان دهنده
 ۲ تیزبین - پرانگیزه - یادگیرنده - سازمان دهنده
 ۳ نوآور - پرانگیزه - ریسک پذیر - سازمان دهنده
 ۴ نوآور - خوش بین - یادگیرنده - پرانگیزه

سراسری - انسانی - دی ۱۴۰۱

- ۷ با توجه به اطلاعات مربوط به یک کارگاه تولیدی، نتیجه عملکرد این کارگاه در طی یک سال گذشته چگونه بوده است؟

- الف) اجاره کارگاه ۳۰ میلیون ریال در سال
 ب) خرید ماشین آلات ده برابر اجاره کارگاه
 ج) خرید ماشین فرزند مدیر کارخانه ۲۰ میلیون ریال
 د) خرید ماده اولیه دو برابر اجاره کارگاه
 هـ) درآمد حاصل از فروش محصولات ده برابر خرید مواد اولیه
 و) پرداخت حقوق ۱۵۰ میلیون ریال در سال

- ۱ ۶۰ میلیون ریال سود ۲ ۸۰ میلیون ریال سود ۳ ۶۰ میلیون ریال ضرر ۴ ۸۰ میلیون ریال ضرر

سراسری - انسانی - دی ۱۴۰۱

۸ صاحب شرکتی در طول یک سال ۵۶۰ میلیون تومان درآمد از ارائه ۷۰۰ فعالیت خدماتی به دست آورده است. اگر هزینه خدمات ارائه شده یک چهارم درآمد شرکت باشد، پاسخ پرسش‌های زیر به ترتیب از راست به چپ کدام است؟
 - سود این شرکت، چند میلیون تومان است؟
 - قیمت هر فعالیت خدماتی ارائه شده چند ریال است؟

۴ ۴۲۰ - ۸,۰۰۰,۰۰۰

۳ ۴۲ - ۸۰۰,۰۰۰

۲ ۴۲۰ - ۶,۰۰۰,۰۰۰

۱ ۴۲ - ۶,۰۰۰,۰۰۰

سراسری-انسانی-۱۴۰۴ تیرماه

سوال ۵

درس دوم : انتخاب نوع کسب و کار

۹ در فرایند سرمایه‌گذاری و چگونگی تقسیم سود و زیان شرکت‌های تعاونی، کدام مورد درست است؟
 ۱ افزایش سرمایه برای یک شرکت تعاونی مصرف و تولیدی، فقط از طریق افزایش تعداد سرمایه‌گذاران امکان‌پذیر است.
 ۲ توزیع سود احتمالی، در پایان دوره به نسبت سرمایه هر عضو است.
 ۳ هر کدام از اعضا به طور یکسان در سود و زیان آن شریک هستند.
 ۴ افزایش سرمایه فقط از طریق بانک امکان‌پذیر است.

کنکورهای خارج از کشور-سراسری-انسانی

۱۰ هر یک از موارد زیر، به ترتیب مربوط به کدام «سازمان تولید» است؟
 الف) افراد در این نوع کسب‌وکار با اقدامات جمعی، منفعت خود را بیشینه می‌کنند.
 ب) پذیرش و عمل به قوانین وضع شده برای این سازمان تولید، زمان‌بر و پرهزینه است.
 ج) بسیاری از کسب‌وکارها در ایران حتی در زمینه‌های تخصصی به این شکل اداره می‌شوند.
 د) کارآفرینی که برای تولید محصولی جدید تعدادی از دوستان خود را برای همکاری و مشارکت استخدام می‌کند.

۱ تعاونی - شرکت سهامی - شخصی - شخصی

۳ تعاونی - شرکت سهامی - شخصی - شرکت سهامی

۲ شرکت سهامی - غیرانتفاعی - تعاونی - شخصی

۴ شرکت سهامی - غیرانتفاعی - شرکت سهامی - تعاونی

سراسری-انسانی-اردیبهشت ۱۴۰۴

۱۱ کدام مورد، در ارتباط با «هویت قانونی یک شرکت تجاری» درست است؟

۱ شرکت‌ها مانند انسان‌ها نمی‌توانند با افراد یا شرکت‌های دیگر قرار داد تجاری داشته باشند.
 ۲ منظور از هویت قانونی، مربوط به هر نوع کسب‌وکار شخصی و شرکتی می‌شود.
 ۳ یک شرکت به مثابه یک انسان، دارای هویت و دارایی است.
 ۴ فقط شرکت‌های سهامی، دارای هویت قانونی هستند.

کنکورهای خارج از کشور-سراسری-انسانی

۱۲ کدام مورد به ترتیب، مربوط به ویژگی‌های هریک از کسب‌وکارهای «تعمیرکاران، تعاونی کشاورزان پنبه، شرکت سهامی و مؤسسه حمایت از کودکان» است؟

- ۱ آزادی عمل - ایجاد زنجیره توزیع - مقیاس تولید بالا - مأموریتی غیرسودآور
- ۲ کوچک مقیاس - مالیکت کامل سود - امکان افزایش سرمایه - تأمین نیازمندی‌های اعضا
- ۳ بار سنگین مسئولیت - حق رأی بر مبنای مالیکت سرمایه - تأخیر در تصمیم‌گیری - مشکل تأمین مالی
- ۴ تخصص‌گرایی - محدوده عمل ملی و بین‌المللی - قوانین پیچیده‌تر - تقسیم سود به تناسب مالیکت سرمایه

سراسری-انسانی-تیرماه ۱۴۰۳

۱۳ کدام گزینه، بیان‌گر پاسخ درست و کامل سؤالات زیر است؟
الف) به تمامی مراحل ، اطلاق می‌شود.

ب) کالاها و خدماتی را که تولید آن‌ها بدون توجه به میزان: سود، هزینه و بازار انجام می‌شود، می‌نامند.

ج) همه‌ی فعالیت‌های تولیدی در محاسبه‌ی تولید کل جامعه مورد سنجش قرار می‌گیرند، به‌جز:

- ۱ الف) کارآفرینی - ایجاد ارزش افزوده ب) محصولات تاکتیکی ج) فعالیت زنان در کارگاه‌های قالبی‌بافی
- ۲ الف) کارآفرینی - زنجیره خلق ارزش ب) محصولات حیازت شده ج) کاشت میوه و سبزیجات گلخانه‌ای
- ۳ الف) زنجیره خلق ارزش - ایجاد ارزش افزوده ب) محصولات نرم ج) فعالیت تولیدی زنان در خانه و تربیت فرزندان
- ۴ الف) ایجاد ارزش افزوده - زنجیره خلق ارزش ب) محصولات راهبردی ج) کاشت سبزیجات در منزل برای مصرف خانگی

سراسری-انسانی-۱۴۰۰

سوال ۱۵

فصل سوم : اصول انتخاب درست

۱۴ موارد زیر، به ترتیب، کدام اشتباهات رایج در تصمیم‌گیری را بیان می‌کند؟
الف) گاهی برای تأمین هزینه‌های مصرف فعلی، باید زیر بار سنگین انواع بدهی برود.
ب) وقتی دوره آموزشی بی‌کیفیتی را به دلیل پرداخت هزینه آن، تا آخر شرکت می‌کند.
ج) وقتی در زمینه‌های پرخطر، بدون آمادگی لازم سرمایه‌گذاری می‌شود.

- ۱ بی‌صبری زیاد - اثرگذاری حقه‌های فروش - اعتماد به نفس بیش از حد
- ۲ چسبیدن به وضعیت فعلی - اثرگذاری حقه‌های فروش - خودرأی بودن
- ۳ بی‌صبری زیاد - توجه به هزینه‌های هدر رفته - اعتماد به نفس بیش از حد
- ۴ چسبیدن به وضعیت فعلی - توجه به هزینه‌های هدر رفته - خودرأی بودن

سراسری-انسانی-۱۴۰۴ تیرماه

۱۵ کدام مورد درباره موضوع بهترین انتخاب با توجه به قوانین تصمیم‌گیری، درست است؟
الف) همه عوامل یا منابع تولید در اقتصاد کمیاب‌اند. (مقایسه بین هزینه‌ها و منافع)
ب) همیشه باید بین گزینه‌های انتخاب، «بده - بستان» کرد. (هزینه فرصت)
ج) فهمیدن اینکه هزینه‌ها را چطور ارزیابی کرد، تنها بخشی از گرفتن یک تصمیم خوب است. (قید بودجه)

د) دو نوع گسترده از انواع تصمیمات وجود دارد. انتخاب از میان گزینه‌های مختلف و انتخاب چه مقدار از هر چیز (مقایسه بین هزینه‌ها و منافع)

- ۱ الف - د
- ۲ الف - ج
- ۳ ب - ج
- ۴ ب - د

سراسری-انسانی-اردیبهشت ۱۴۰۴

۱۶ علی، ۲ میلیارد تومان سرمایه دارد، بین راه‌اندازی شرکت خدمات ساختمانی، سرمایه‌گذاری در سازمان بورس اوراق بهادار و بانک، می‌خواهد تصمیم‌گیری کند. اگر در سال، ۲۵۰ مشتری درخواست خدمات بکنند، (با فرض ثبات هزینه‌ها) هزینه فرصت سرمایه‌گذاری در سازمان بورس اوراق بهادار برای علی چند میلیون تومان است؟

- سود سالانه بانک ۲۰ درصد
- متوسط سود سهام اوراق بهادار ۱۵ درصد
- سود معادلاتی سهام به طور متوسط ۱۰ درصد
- قیمت خدمات ساختمانی در هر بار مراجعه مشتری، ۹۰۰ هزار تومان است

۶۲۵ (۴)

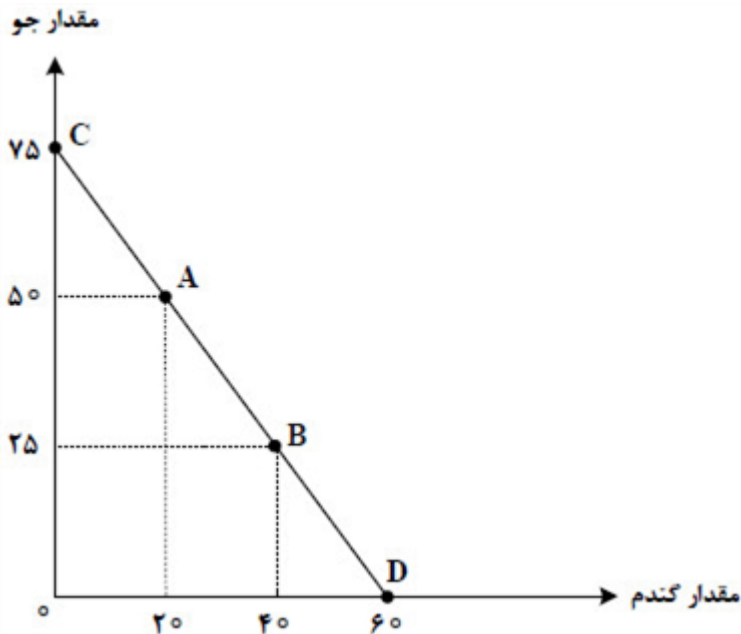
۵۰۰ (۳)

۴۰۰ (۲)

۲۲۵ (۱)

سراسری-انسانی-اردیبهشت ۱۴۰۴

۱۷ براساس اطلاعات ارائه شده، پاسخ پرسش‌های زیر، به ترتیب، کدام است؟
 - هزینه تولید دو محصول یکسان است.
 - قیمت جو، ۲۰ درصد ارزان‌تر از گندم است.
 - قیمت گندم برای هر تن ۵ میلیون تومان است.
 الف: در کدام نقطه، ارزش تولید گندم بیشتر از سایر نقاط است؟
 ب: بهترین تصمیم، براساس کدام اصل گرفته می‌شود؟



۱ - A - براساس مقایسه منافع هریک از حالت‌ها انجام می‌شود.

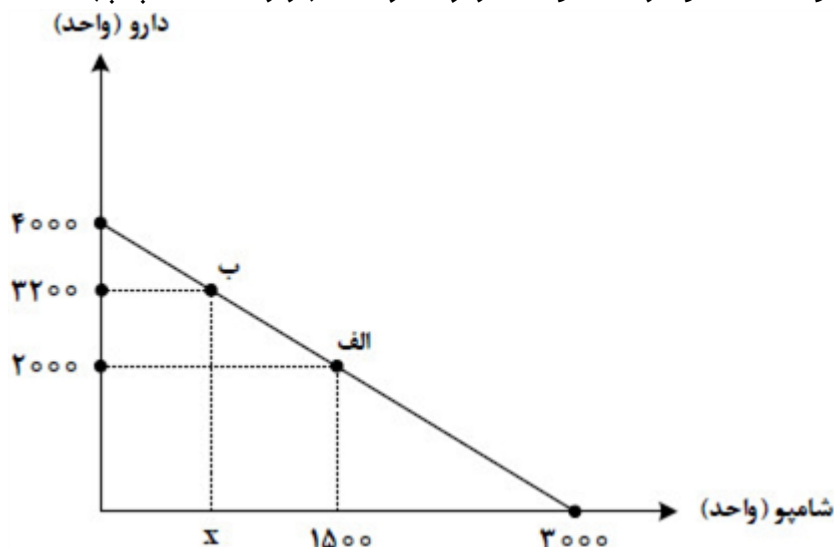
۲ - A - براساس تفاوت هزینه و درآمد که باید حداکثر باشد.

۳ - D - براساس مقایسه هزینه‌ها که باید کمترین هزینه را داشته باشد.

۴ - D - براساس هزینه فرصت که باید ارزش دومین انتخاب پایین‌تر از منافع گزینه انتخاب شده باشد.

سراسری-انسانی-۱۴۰۳ اردیبهشت

۱۸ داروخانه‌ای نیاز خود به دارو و شامپو را با مبلغی معادل هجده میلیون تومان تأمین کرده است. با توجه به نمودار قید بودجه زیر به ترتیب (از راست به چپ):



الف: هزینه فرصت داروخانه برای حرکت از نقطه ب به نقطه الف چند ریال است؟
ب: چه تعداد شامپو در نقطه ب خریداری می‌شود؟
(قیمت هر واحد دارو ۴۵۰۰ تومان و هر واحد شامپو ۶۰۰۰ تومان است.)

۴ ۶۰۰ - ۵۴۰,۰۰۰,۰۰۰

۳ ۶۰۰ - ۵۴,۰۰۰,۰۰۰

۲ ۷۵۰ - ۵۴,۰۰۰,۰۰۰

۱ ۷۵۰ - ۵۴۰,۰۰۰,۰۰۰

سراسری-انسانی-۱۴۰۳ اردیبهشت

۱۹ برای تصمیم درست و منطقی در هر کسب‌وکار، رعایت چه قوانین و اصولی الزامی است؟

۱ هزینه فرصت - هزینه‌های تولید - میزان نقدینگی

۲ هزینه‌های تولید - مزیت نسبی - میزان نقدینگی

۳ قید بودجه - مزیت نسبی - درآمد ناخالص داخلی

۴ هزینه فرصت - بی‌توجهی به هزینه‌های هدر رفته - قید بودجه

سراسری-انسانی-۱۴۰۳ اردیبهشت

۲۰ فردی با سرمایه ۳۰۰ میلیون تومان قصد دارد در یکی از موارد زیر سرمایه‌گذاری کند. با توجه به اصل هزینه فرصت، کدام مورد را انتخاب خواهد کرد و هزینه فرصت این انتخاب چند میلیون تومان است؟

- خرید و فروش وسایل ورزشی با بازدهی سالانه ۲۰ درصد

- راه‌اندازی یک کارگاه کوچک وسایل آزمایشگاهی با سود ۱۰۲ میلیون تومان در دو سال

- سپرده‌گذاری در بانک با سود سالانه ۱۸ درصد

- سرمایه‌گذاری در بازار بورس با سود ماهیانه ۷ میلیون تومان

۲ راه‌اندازی یک کارگاه کوچک - ۱۶۵

۱ سپرده‌گذاری در بانک - ۱۶۵

۴ خرید و فروش وسایل ورزشی - ۶۰

۳ سرمایه‌گذاری در بورس - ۶۰

کنکورهای خارج از کشور-سراسری-انسانی

عبارت‌های زیر به ترتیب به کدام اشتباه‌های رایج در تصمیم‌گیری اشاره دارد؟ ۲۱

- وقتی کتابی را که خریده‌ایم آن را دوست نداریم اما به خاطر پولی که داده‌ایم تا آخرش می‌خوانیم.
 - شخصی برای تکمیل نورپردازی باغچه‌ی منزل خود، زیر بار سنگین پرداخت اقساط آن می‌رود.
 - لباس‌فروشی که حاضر نیست پیشنهاد شریک خود را برای فروش از طریق شبکه‌های اجتماعی بپذیرد.

۱ بی‌توجهی به هزینه‌های دررفته - بی‌صبری زیاد - چسبیدن به وضعیت فعلی

۲ اعتماد به نفس بیش از حد - بی‌صبری زیاد - چسبیدن به وضعیت فعلی

۳ اعتماد به نفس بیش از حد - خودرأی بودن - توجه به هزینه‌های دررفته

۴ بی‌صبری زیاد - خودرأی بودن - توجه به هزینه‌های دررفته

سراسری-انسانی-۱۴۰۲ تیرماه

تصمیمات زیر به ترتیب مصداق مناسبی برای کدام اشتباه‌های رایج در تصمیم‌گیری است؟ ۲۲

- زیبا به جشن تولد دوستش دعوت شده است، همچنین برای کاهش وزن و بیماری دیابت خود تحت رژیم غذایی خاصی است اما مقداری از کیک تولد را می‌خورد.
 - مجتبی پیراهن ۴۵۰ هزار تومانی که ۵۰٪ تخفیف دارد را بر پیراهن ۱۶۵ هزار تومانی ترجیح می‌دهد.
 - پدر مریم اخیراً علی‌رغم نبود مشتری کافی برای میوه آناناس تصمیم گرفته است زمین بیشتری به این محصول اختصاص دهد.

۱ بی‌صبری زیاد - اثرگذاری حقه‌های فروش - خودرأی بودن و اعتماد به نفس زیاد

۲ بی‌صبری زیاد - عدم استفاده از معیار هزینه فرصت - چسبیدن به وضعیت فعلی

۳ اعتماد به نفس بیش از حد - صرفه‌جویی بیش از حد - چسبیدن به وضعیت فعلی

۴ اعتماد به نفس بیش از حد - توجه به هزینه‌های دررفته - خودرأی بودن و اعتماد به نفس زیاد

سراسری-انسانی-دی ۱۴۰۱

۲۳ فرض کنیم کشاورزان هریک کیلوگرم پنبه‌ی تولیدی خود را به ارزش ۵۰۰۰ ریال به کارگاه‌های ریسندگی بفروشند. کارگاه‌های ریسندگی هم این مقدار پنبه را به مقداری نخ تبدیل کرده و به ارزش ۷۰۰۰ ریال به کارگاه‌های پارچه‌بافی بفروشند. در کارگاه‌های پارچه‌بافی نخ به پارچه تبدیل شده و به ارزش ۹۵۰۰ ریال به کارگاه‌های تولید پوشاک فروخته می‌شود. در این کارگاه‌ها پارچه به پوشاک تبدیل شده و به ارزش ۱۳۰۰۰ ریال به دست مصرف‌کنندگان می‌رسد. با توجه به داده‌ها و ستاده‌ها:

الف) ارزش افزوده‌ی مرحله‌ی اول و چهارم به ترتیب از راست به چپ، کدام است؟

ب) به جز این روش چه روش‌های دیگر برای محاسبه‌ی تولید کل جامعه، وجود دارد و عناوین آن کدام است؟

ج) روشی که در آن با جمع زدن همه‌ی اجزای سهم در «روند تولید» عایدی همه‌ی بازیگران و فعالان اقتصادی داخلی یا ملی «تولید کل» محاسبه می‌شود، چه نام دارد؟ ضمناً در کدام روش محاسبه‌ی تولیدات کل، نگران اندازه‌گیری تولیدات واسطه‌ای و مواد اولیه نیستیم چرا که ارزش پولی همه‌ی آن‌ها در محاسبه‌ی کالاها و خدمات نهایی خود به خود اندازه‌گیری شده است؟

د) از نظر کارشناسان اقتصادی برای جلوگیری از اشتباه در محاسبه‌ی «تولید کل جامعه» توسل به چه اقدامی ضروری است؟

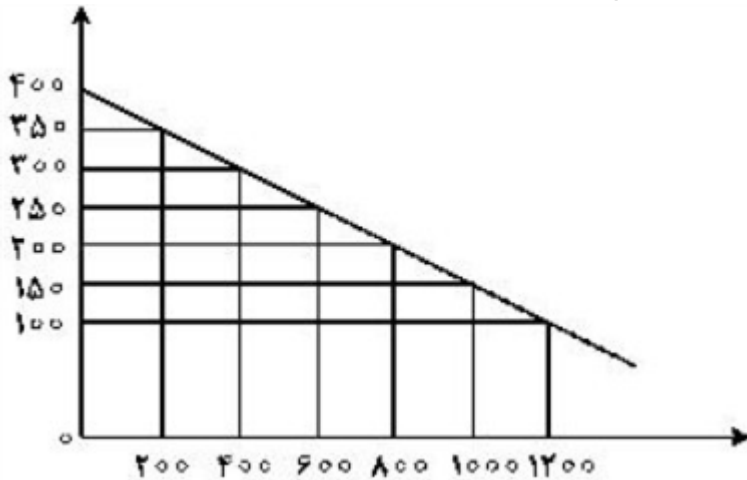
۱ الف) ۲۰۰۰ - ۲۵۰۰ ب) روش هزینه‌ای - روش تولید ج) روش درآمدی - روش هزینه‌ای د) دو روش را به کار می‌گیرند و میانگین این دو را می‌پذیرند.

۲ الف) ۵۰۰۰ - ۳۵۰۰ ب) روش هزینه‌ای - روش درآمدی ج) روش هزینه‌ای - روش درآمدی د) حداقل دو روش را به کار می‌گیرند و نتایج را با هم مقایسه می‌کنند.

۳ الف) ۳۵۰۰ - ۵۰۰۰ ب) روش درآمدی - روش هزینه‌ای ج) روش درآمدی - روش هزینه‌ای د) هر سه روش را استفاده می‌کنند و هر کدام بیش‌تر بود آن را منظور می‌دارند.

۴ الف) ۲۵۰۰ - ۲۰۰۰ ب) روش درآمدی - روش تولید ج) روش هزینه‌ای - روش درآمدی د) هر سه روش به کار گرفته می‌شود و میانگین آن‌ها به عنوان پاسخ قطعی مورد قبول قرار می‌گیرد.

۲۴ کدام گروه از مشخصات در رابطه با نمودار منحنی ترسیم شده در شکل زیر در آن درست است؟



- ۱) معنا و مفهوم آن این است که با افزایش قیمت، مقدار تقاضا کاهش و با کاهش آن مقدار تقاضا افزایش می‌یابد - رابطه بین تقاضا و قیمت یک رابطه‌ی معکوس است - این منحنی می‌تواند چگونگی رفتار اقتصادی مصرف‌کنندگان است - در این نمودار محور افقی بیان‌گر «مقدار» و محور عمودی می‌تواند «قیمت کالا» است.
- ۲) معنا و مفهوم آن این است که با افزایش قیمت، مقدار عرضه کالا افزایش و با کاهش آن کاهش می‌یابد - موقعیت منحنی از راست به چپ نزولی است - رابطه‌ی بین تقاضا و قیمت یک رابطه‌ی غیرمستقیم است - این منحنی بیان‌گر چگونگی رفتار اقتصادی «تولیدکنندگان» است.
- ۳) معنا و مفهوم آن این است که با افزایش قیمت، مقدار تقاضا کاهش و با کاهش آن مقدار تقاضا افزایش می‌یابد - رابطه بین تقاضا و قیمت یک رابطه‌ی مستقیم است - این منحنی بیان‌گر چگونگی رفتار اقتصادی «تولیدکنندگان» است - نقطه‌ی تعادل همان نقطه‌ی تقاطع «قیمت و مقدار» است.
- ۴) معنا و مفهوم آن این است که با افزایش قیمت، مقدار عرضه کالا افزایش و با کاهش آن کاهش می‌یابد - رابطه‌ی بین عرضه و قیمت یک رابطه‌ی مستقیم است - این منحنی بیان‌گر چگونگی رفتار «تولیدکنندگان» است - موقعیت منحنی از راست به چپ صعودی است.

۲۵ در یک جامعه‌ی فرضی، چنانچه کشاورزان یک کیلوگرم پنبه‌ی تولیدی خود را به ارزش ۶۵۰۰ ریال به کارگاه‌های ریسندگی بفروشند، کارگاه‌های ریسندگی نیز این مقدار پنبه را به مقداری نخ تبدیل کرده و به ارزش ۷۵۰۰ ریال به کارگاه‌های پارچه‌بافی بفروشند و در کارگاه‌های پارچه‌بافی، نخ به پارچه تبدیل شده و به مبلغ ۱۱,۰۰۰ ریال به کارگاه‌های تولید پوشاک فروخته شود و در این کارگاه‌ها پارچه به پوشاک تبدیل شده و به مبلغ ۱۹,۰۰۰ ریال به دست مصرف‌کنندگان می‌رسد. با توجه به این داده و ستاده‌ها:

الف) ارزش افزوده مرحله‌ی دوم و چهارم، کدام است؟
ب) به‌جز این روش چه روش‌های دیگری برای محاسبه‌ی تولیدات کلی وجود دارد و عناوین آن کدام است؟

ج) در کدام روش محاسبه‌ی «تولیدات کلی» نگران اندازه‌گیری «تولیدات واسطه‌ای و مواد اولیه» نیستیم چرا که ارزش پولی همه‌ی آن‌ها در محاسبه‌ی کالاها و خدمات نهایی خودبه‌خود اندازه‌گیری شده است. در ضمن روشی که در آن با جمع زدن همه‌ی اجزای سهم در روند تولید، عایدی همه‌ی بازگیران و فعالان اقتصادی داخلی یا ملی، «تولید کل» محاسبه شود، چه نام دارد؟

د) اقتصاددانان چه روشی را جهت اجتناب از اشتباه در محاسبه‌ی تولید کل ارائه می‌کنند؟

۱ الف) ۸۰۰۰ - ۱۰۰۰ (ب) روش هزینه‌ای - روش تولید (ج) روش درآمدی - روش هزینه‌ای (د) دو روش را به کار می‌گیرند و میانگین آن‌ها را منظور می‌دارند.

۲ الف) ۳۵۰۰ - ۶۵۰۰ (ب) روش درآمدی - روش تولید (ج) روش هزینه‌ای - روش درآمدی (د) هر سه روش را به کار می‌گیرند و میانگین آن‌ها را منظور می‌دارند.

۳ الف) ۸۰۰۰ - ۱۰۰۰ (ب) روش درآمدی - روش هزینه‌ای (ج) روش هزینه‌ای (د) حداقل دو روش را به کار می‌گیرند و نتایج را با هم مقایسه می‌کنند.

۴ الف) ۳۵۰۰ - ۶۵۰۰ (ب) روش هزینه‌ای - روش درآمدی (ج) روش درآمدی - روش هزینه‌ای (د) هر سه روش مورد استفاده قرار می‌گیرد، هر کدام بیش‌تر بود آن منظور می‌شود.

سراسری-انسانی-۱۴۰۰

۲۶ پاسخ درست و کامل پرسش‌های زیر در کدام گزینه مطرح شده است؟

الف) همه‌ی گزینه‌ها بیان‌گر مفهوم کالاها‌ی سرمایه‌ای است، به‌جز:

ب) از نظر اقتصاددانان، معنا و مفهوم اصطلاح «کمیابی» کدام است؟

ج) کدام گزینه، به‌ترتیب بیان‌گر: نمونه کالاها‌ی ضروری - نمونه کالاها‌ی سرمایه‌ای - نمونه کالاها‌ی لوکس و تجملی است.

۱ الف) در فرایند «تولید» خدمات آن‌ها مورد استفاده می‌گیرد. (ب) منابع و امکانات موجود امکان مصارف متعدد دارند - با روش‌های مختلفی می‌توان از منابع و امکانات در دسترس استفاده کرد. (ج) دارو - مسکن - ماشین‌آلات

۲ الف) شامل ابزار تولید و تجهیزاتی است که به وسیله‌ی بنگاه‌های تولیدی به کار گرفته می‌شود. (ب) منابع و امکانات و ثروت‌های طبیعی محدود است - روش‌های استفاده از منابع و امکانات متنوع است. (ج) نمک - پوشاک - داروهای ویتامینه

۳ الف) در طول زمان بادوام هستند و تولیدکننده به وسیله‌ی آن‌ها ارزش افزوده ایجاد می‌کند. (ب) انسان در بهره‌برداری هم‌زمان از منابع و امکانات محدودیت دارد - منابع و ثروت‌های طبیعی کاربردهای گوناگون دارند (ج) نمک - فرش‌های گران‌قیمت - ابزار تولید

۴ الف) با تبدیل به «عوامل تولید» به فرایند تولید کمک می‌کند. (ب) انسان در بهره‌برداری از منابع و امکانات موجود محدودیت دارد - منابع و امکانات موجود محدود است. (ج) دارو - یخچال در مغازه‌ی بستنی‌فروشی - لوستر نورافشان

سراسری-انسانی-۱۴۰۰

- ۲۷) کدام گزینه، دربرگیرنده‌ی پاسخ درست و کامل پرسش‌های زیر است؟
- الف) یکی از شرایط محاسبه و منظور فعالیت‌های تولیدی در حسابداری ملی عبارتست از: تولید در محدوده مکانی معینی صورت گیرد. کدام مورد در ارتباط مستقیم با آن نیست؟
- ب) «.....» موجب می‌شود که هر کشور به تولید آن دسته از کالاها و خدماتی بپردازد که منابع طبیعی، سرمایه، نیروی انسانی و تجربه و معلومات فنی متناسب با آن‌را در اختیار دارد.
- ج) مبادرت به استفاده از کدام‌یک از منابع درآمد دولت ممکن است تورم‌زا باشد و آن‌چه زمانی است؟
- ۱) الف) تولید داخلی ب) تجارت بین‌المللی ج) استقراض - چنان‌چه از بانک جهانی باشد.
 - ۲) الف) تولید خالص ب) تخصص بین‌المللی ج) انتشار اسکناس جدید - اقتصاد در حالت اشتغال کامل باشد.
 - ۳) الف) تولید ملی ب) تجارت خارجی ج) مالیات بر تجارت خارجی - در صورتی‌که بر کالاهای اساسی و حیاتی تعلق یابد.
 - ۴) الف) درآمد ملی ب) تکنولوژی مدرن ج) سود حاصل از سرمایه‌گذاری‌های دولتی - چنان‌چه این سرمایه‌گذاری‌ها از نوع زیربنایی و اجتماعی باشد.

کنکورهای خارج از کشور - سراسری - انسانی

- ۲۸) کدام گزینه، دربردارنده‌ی پاسخ درست و کامل سؤالات زیر است؟
- الف) در نوع اول تولید یعنی «.....» انسان با اختیار داشتن منابع طبیعی، هم‌چنین با کار خود و استفاده از ابزار و منابع طبیعی را به تولید می‌رساند. سه نمونه از این نوع تولید کدام است؟
- ب) چنان‌چه فردی به رغم تغییر زیاد قیمت کالا در بازار، مصرف آن‌را تغییر ندهد آن کالا «.....» ولی اگر با کوچک‌ترین تغییر در قیمت مصرف کالایی را تغییر دهد به آن کالا «.....» می‌گویند.
- ج) از نظر اقتصاددانان، لحاظ اصل «فایده - هزینه» در چه محاسبه‌ای مدنظر است؟
- ۱) الف) احیاء = زراعت، باغبانی، پرورش ماهی ب) ضروری - تجملی ج) هزینه‌ی فرصت
 - ۲) الف) حیات = زراعت، باغبانی، استفاده از معادن ب) واسطه‌ای - تکمیلی ج) هزینه‌ی نهایی
 - ۳) الف) احیاء = بهره‌برداری از علف مراتع، چوب جنگل‌ها - معادن ب) تجملی - ضروری ج) هزینه‌ی متغیر
 - ۴) الف) حیات = باغبانی، استفاده از چوب جنگل‌ها - پرورش ماهی ب) مصرفی نهایی - سرمایه‌ای ج) هزینه‌ی ثابت

کنکورهای خارج از کشور - سراسری - انسانی

سوال ۱۱

درس چهارم : مرز امکانات تولید

- ۲۹) با توجه به الگوی مرز امکانات تولید، کدام مورد درست است؟
- الف) وقتی تولید در کشوری ناکارا باشد، با تولید بیشتر از یک کالا، شرایط بدتر شدن تولید کالای دیگر فراهم می‌شود.
- ب) هنگامی‌که کشوری روی مرز کارایی قرار دارد، بهتر شدن وضعیت تولید یک کالا، مستلزم بدتر شدن وضع تولید کالای دیگر می‌شود.
- ج) زمانی که در یک کشور بیش از یک کالا تولید شود، هزینه فرصت افزایش تولید یک کالا نشان داده می‌شود.
- د) با استفاده از تمام فرصت‌ها و منابع موجود کشور، می‌توان به فراتر از مرز امکانات تولید دست پیدا کرد.

۴) ب - د

۳) ب - ج

۲) الف - ج

۱) الف - ب

کنکورهای خارج از کشور - سراسری - انسانی

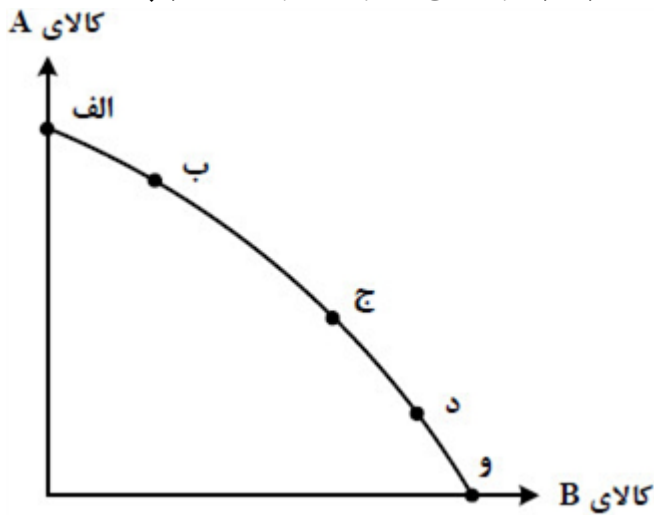
۳۰ کدام مورد درباره «مرز امکانات تولید» درست است؟

- ۱ - بده - بستان دو گروه از محصولات را نشان می‌دهد.
- ۲ - حداقل تولید با منابع و امکانات موجود را نشان می‌دهد.
- ۳ - تمام انتخاب‌های تولیدکننده را از ابتدا تا انتها بیان می‌کند.
- ۴ - به ما نشان می‌دهد از هر کدام از عوامل تولید چقدر باید استفاده شود.

سراسری-انسانی-۱۴۰۴ تیرماه

۳۱ با توجه به منحنی مرز امکانات تولید، پاسخ پرسش‌های زیر به ترتیب، کدام است؟
الف) اگر حرکت بر روی منحنی به سمت راست و با شیب منفی باشد، تولید کالای A، چه تغییری خواهد داشت؟

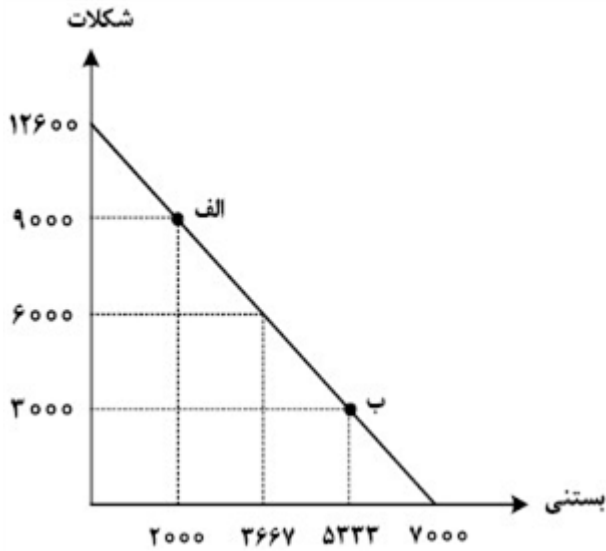
ب) افزایش منابع و مواد اولیه جدید که سبب تولید بیشتر هر دو کالای A و B شود، بیانگر چیست؟



- ۱ - ثابت می‌ماند - استفاده کارا از مواد اولیه جدید
- ۲ - کاهش می‌یابد - رشد اقتصادی و انتقال مرز امکانات
- ۳ - افزایش می‌یابد - توسعه ظرفیت‌های تولید
- ۴ - افزایش می‌یابد - استفاده کارا از منابع

کنکورهای خارج از کشور-سراسری-انسانی

تولیدکننده‌ای به دلیل سفارش مشتریان، تولید خود را از نقطه الف به نقطه ب جابه‌جا نمود. در شرایط جدید، کدام مورد هزینه فرصت را به درستی نشان می‌دهد؟ (قیمت هر واحد شکلات ۲۵۰۰ تومان و قیمت هر عدد بستنی ۴۵۰۰ تومان است.)

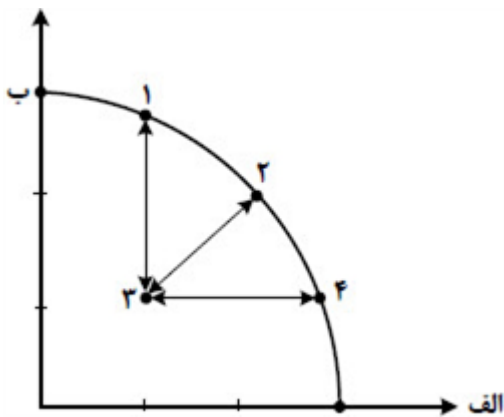


- ۱ هزینه فرصت انتخاب جدید، برابر ۲۱ میلیون تومان است.
- ۲ هزینه فرصت انتخاب جدید، برابر ۱۵ میلیون تومان است.
- ۳ مابه‌التفاوت هزینه فرصت انتخاب قبل و انتخاب جدید ۱۷ میلیون تومان است.
- ۴ مابه‌التفاوت هزینه فرصت انتخاب قبل و انتخاب جدید ۱۲ میلیون تومان است.

سراسری-انسانی-تیرماه ۱۴۰۳

کدام مورد، به‌ترتیب در رابطه با نقاط مشخص شده در الگوی مرز امکانات تولید، درست است؟

- الف: تغییر مکان از نقطه ۳ به نقطه ۴
- ب: تغییر وضعیت از نقطه ۴ به نقطه ۱
- ج: تغییر مکان از نقطه ۲ به نقطه ۳



- ۱ نیازی به انتقال منابع از تولید یک کالا به تولید کالای دیگر نیست - متحمل هزینه فرصت می‌شود - ناکارایی منابع تولید
- ۲ رکود اقتصادی سبب این تغییر وضعیت شده است - عوامل و منابع تولیدی در حالت کارا هستند - کارایی منابع تولید
- ۳ نیازی به انتقال منابع از تولید یک کالا به تولید کالای دیگر نیست - عوامل و منابع تولیدی در حالت کارا هستند - کارایی منابع تولید
- ۴ باید منابع تولید یک کالا به تولید کالای دیگر منتقل شود - متحمل هزینه فرصت می‌شود - ناکارایی منابع تولید

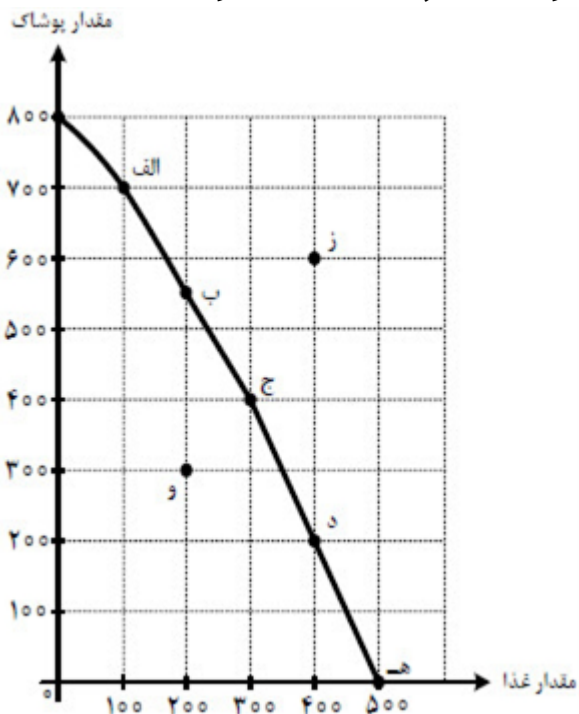
سراسری-انسانی-۱۴۰۳/اردیبهشت

۳۴ کدام مورد دربارهٔ مرز امکانات تولید، نادرست است؟

- ۱ هرگاه تولید یک شرکت ناکارا باشد، برای تولید بیشتر یک کالا، باید از تولید کالاهای دیگر کاسته شود.
- ۲ آنچه یک شرکت تولیدی با استفاده از منابع موجود می‌تواند تولید کند و یا نمی‌تواند را نشان می‌دهد.
- ۳ محاسبه هزینه فرصت یک شرکت، هنگامی‌که بیش از یک کالا را تولید می‌کند، ممکن می‌باشد.
- ۴ در صورتی‌که تولید کارا باشد، هر نوع بده - بستان در فضای تولید دو کالا را نشان می‌دهد.

سراسری-انسانی-۱۴۰۳ اردیبهشت

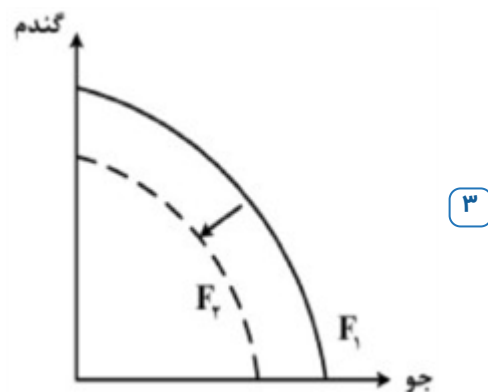
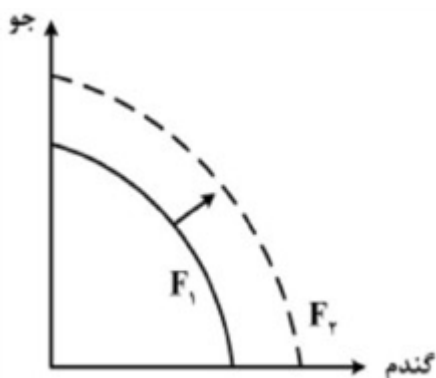
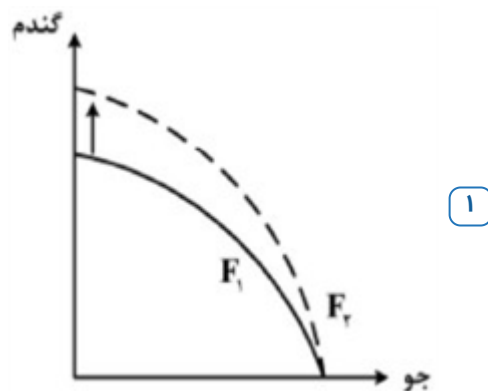
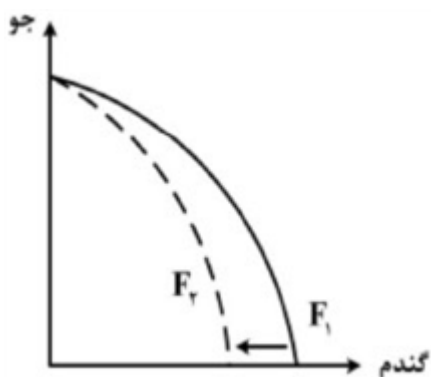
۳۵ نمودار مقابل، منحنی مرز امکانات تولید کشوری را نشان می‌دهد. هر کدام از شرایط زیر به کدام یک از موارد «انتقال مرز امکانات تولید، جابه‌جا شدن روی منحنی مرز امکانات یا بدون تغییر» اشاره می‌کند؟
 - خط تولید با پدیده بیکاری دوره‌ای مواجه شده است.
 - یک فناوری جدید منابع موجود برای تولید هر دو محصول را افزایش داده است.
 - افزایش تقاضا برای غذا سبب شده است منابع به سمت تولید بیشتر غذا هدایت شود.



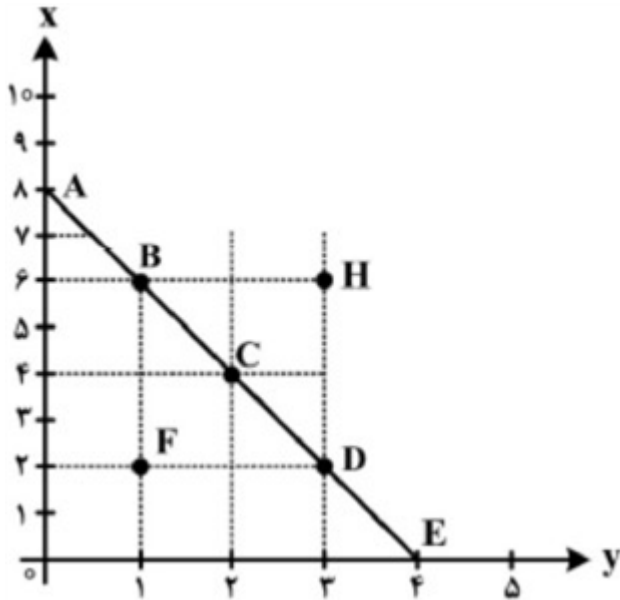
- | | |
|-------------------------------------|-------------------------------------|
| ۱ انتقال - انتقال - جابه‌جا شدن | ۲ انتقال - جابه‌جا شدن - انتقال |
| ۳ بدون تغییر - جابه‌جا شدن - انتقال | ۴ بدون تغییر - انتقال - جابه‌جا شدن |

کنکورهای خارج از کشور-سراسری-انسانی

۳۶ پژوهشگران مرکز تحقیقات ژنتیک ایران اعلام کردند: «نوع جدیدی از بذر گندم و جو تولید و به بازار عرضه کردند که تعداد محصول در هر خوشه را از ۱۰ عدد به ۳۰ عدد افزایش می‌دهد.» با توجه به رابطه رشد و پیشرفت علمی و اقتصادی و تأثیر آن بر منحنی امکانات تولید، کدام شکل صحیح است؟



۳۷) مرز امکانات بودجه (قید بودجه) خانواده‌ای برای خرید دو گروه کالا (X) و خدمات (y) به شکل مقابل ترسیم شده است. اگر قیمت کالا معادل ۵ واحد پولی ($P(x) = 5$) و قیمت خدمات معادل ۱۰ واحد ($P(y) = 10$) باشد، با توجه به نقاط روی خط قید بودجه، کدام مورد درست نیست؟



- ۱) قید بودجه برای این خانواده با هر ترکیبی از X و y، یکسان است.
- ۲) برای به دست آوردن یک واحد y بیشتر، باید یک واحد X از دست بدهد.
- ۳) برای به دست آوردن یک واحد بیشتر از X مستلزم از دست دادن y بیشتر است.
- ۴) حرکت از بالا به پایین خط بودجه (A, B, C, D و E) به معنی از دست دادن کالای X است.

سراسری-انسانی-۱۴۰۲ تیرماه

۳۸) با توجه به الگوی مرز امکانات تولید، کدام مورد درک بهتری در استفاده از منابع کمیاب ارائه می‌دهد؟

- ۱) تولید در خارج از مرز امکانات، قابل دستیابی است به شرط آن‌که منابع کمیاب موجود با مدیریت صحیح به تولید کالا اختصاص یابد.
- ۲) تولید کالا باید درون مرز امکانات تولید، انجام پذیرد به شرط آن‌که منابع کمیاب موجود با مدیریت صحیح به تولید کالا اختصاص یابد.
- ۳) یک تولیدکننده بهتر است بر روی مرز امکانات، تولید کند و هر نقطه روی آن نشان می‌دهد که منابع کمیاب بین تولید دو کالای موردنظر تقسیم شده است.
- ۴) یک تولیدکننده بهتر است درون مرز امکانات، تولید کند و هر نقطه در این محدوده نشان می‌دهد که منابع کمیاب بین تولید دو کالای موردنظر تقسیم شده است.

سراسری-انسانی-دی ۱۴۰۱

۳۹) پاسخ پرسش‌های الف و ب کدام است؟

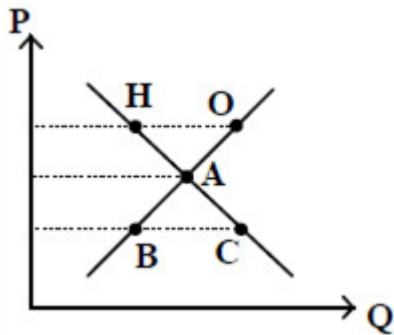
الف- کدام مورد، به‌ترتیب به نمونه‌ای از کالای «ضروری»، «سرمایه‌ای» و «تجملی» اشاره دارد؟
ب- عوامل مولد انسانی، کدام است؟

- ۱) الف: دارو، تراکتور، نورافشان ب: مدیر، نیروی کار، متخصص
- ۲) الف: دارو، مسکن، ماشین‌آلات ب: کارفرما، نیروی کار، متخصص
- ۳) الف: دارو، تراکتور، نورافشان ب: کارفرما، نیروی کار، مدیر، سرمایه انسانی
- ۴) الف: نمک، پوشاک، داروهای ویتامینه ب: مدیر، نیروی کار، متخصص، سرمایه فیزیکی

کنکورهای خارج از کشور-سراسری-انسانی

درس پنجم: بازار چیست و چگونه عمل می کند؟ سوال ۲۱

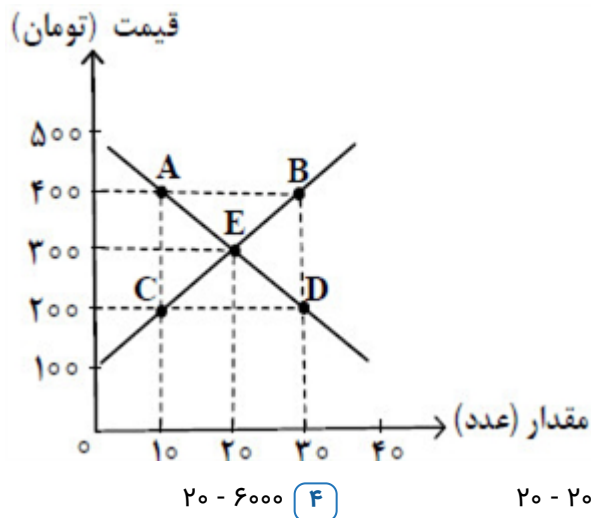
۴۰ با توجه به نمودار عرضه و تقاضای مقابل، کدام پیش‌بینی درست است؟



- ۱ در محدوده نقاط BC قیمت کالا افزایش می‌یابد.
- ۲ در محدوده نقاط HO قیمت کالا افزایش می‌یابد.
- ۳ رفتار تقاضاکنندگان در نقاط HO موجب کمبود کالا می‌شود.
- ۴ رفتار تقاضاکنندگان در نقاط BC موجب کاهش قیمت می‌شود.

کنکورهای خارج از کشور - سراسری - انسانی

۴۱ با توجه به نمودار، پاسخ درست پرسش‌های زیر، به ترتیب کدام است؟
الف) تغییر درآمد فروشندگان در نقطه B نسبت به نقطه تعادل چند تومان است؟
ب) مازاد تقاضا در نقطه D نسبت به نقطه C چقدر است؟



۲۰ - ۶۰۰۰ ۴

۲۰ - ۲۰۰۰ ۳

۱۰ - ۶۰۰۰ ۲

۱۰ - ۲۰۰۰ ۱

سراسری - انسانی - اردیبهشت ۱۴۰۴

۴۲ کدام مورد درباره تأثیرگذاری بر قیمت بازار برای یک شهر کوچک که فقط یک فروشگاه مواد پروتئینی دارد، درست است؟

- ۱ فروشنده، پذیرنده قیمت است.
- ۲ خریداران، پذیرنده قیمت هستند.
- ۳ هم خریداران و هم فروشنده، پذیرنده قیمت هستند.
- ۴ خریداران و فروشنده به تنهایی در شکل‌گیری قیمت تأثیرگذار نیستند.

سراسری - انسانی - اردیبهشت ۱۴۰۴

۴۳ کدام مورد در ارتباط با کالاهای مکمل، درست است؟

- ۱ با افزایش قیمت مرغ، تقاضا برای ماهی افزایش می‌یابد.
- ۲ با افزایش قیمت لوازم اصلی موتور اتومبیل، تقاضا برای اتومبیل افزایش می‌یابد.
- ۳ هرگاه قیمت بنزین افزایش یابد، تقاضا برای تردد با اتومبیل شخصی، کاهش می‌یابد.
- ۴ هرگاه تقاضا برای فرش دستبافت افزایش یابد، قیمت فرش ماشینی کاهش می‌یابد.

کنکورهای خارج از کشور - سراسری - انسانی

۴۴ کدام مورد، تفسیر اقتصاددانان نسبت به دو گزاره زیر است؟

- با آنکه درآمد مصرف‌کنندگان تغییر نکرده است، با افزایش قیمت، تقاضا برای آن افزایش می‌یابد.
- با آنکه قیمت نان ثابت است ولی با افزایش درآمد، نان کمتری می‌خرند.

- ۱ قانون تقاضا برای کلیه کالاها یکسان است به شرط اینکه فقط قیمت یک کالا تغییر کند و سایر عوامل ثابت باشد.
- ۲ پیش‌بینی قیمت آینده و تغییر سلیقه مصرف‌کننده برای کالاهای مکمل و جانشین اثر یکسانی دارد.
- ۳ پیش‌بینی قیمت کالا در آینده و ویژگی کالای پست، دو رفتار مغایر با قانون تقاضا را توجیه می‌کند.
- ۴ افزایش درآمد مصرف‌کننده، رفتار مغایر با قانون تقاضا را توضیح می‌دهد.

سراسری - انسانی - تیرماه ۱۴۰۳

۴۵ موارد زیر، به ترتیب به کدام گروه از تصمیم‌گیرندگان و بازیگران در اقتصاد ارتباط دارد؟

الف: کسب‌وکارهای خویش‌فرما
ب: ارائه سرمایه برای تولید کالاها و خدمات
ج: اجاره دادن زمین

- ۱ خانوار - شرکت‌ها - خانوار
- ۲ خانوار - شرکت‌ها - بنگاه
- ۳ بنگاه - خانوار - خانوار
- ۴ بنگاه - خانوار - بنگاه

سراسری - انسانی - ۱۴۰۳ اردیبهشت

۴۶ با توجه به جدول مقابل، پاسخ پرسش‌های زیر، به ترتیب (از راست به چپ)، کدام است؟

الف: درآمد تولیدکننده، در قیمت ۵۰,۰۰۰، چند میلیون ریال است؟
ب: در کدام قیمت، وضعیت کمبود عرضه وجود دارد؟
ج: مصرف‌کنندگان، در قیمت ۱۰۰,۰۰۰، چند میلیون تومان پرداخت کرده‌اند؟

ردیف	تقاضا (کیلو)	قیمت (ریال)	عرضه (کیلو)
۱	۵۰۰۰	۵۰,۰۰۰	۲۰۰
۲	۲۵۰۰	۱۰۰,۰۰۰	۴۰۰
۳	۱۰۰۰	۲۵۰,۰۰۰	۱۰۰۰
۴	۷۵۰	۴۰۰,۰۰۰	۱۵۰۰
۵	۵۰۰	۵۰۰,۰۰۰	۲۰۰۰

- ۱ ۲۵ - ۱۰۰,۰۰۰ - ۱۰,۰۰۰,۰۰۰
- ۲ ۲۵ - ۴۰۰,۰۰۰ - ۱۰,۰۰۰,۰۰۰
- ۳ ۴ - ۲۵۰,۰۰۰ - ۲۵۰,۰۰۰,۰۰۰
- ۴ ۴۰ - ۵۰,۰۰۰ - ۲۵۰,۰۰۰,۰۰۰

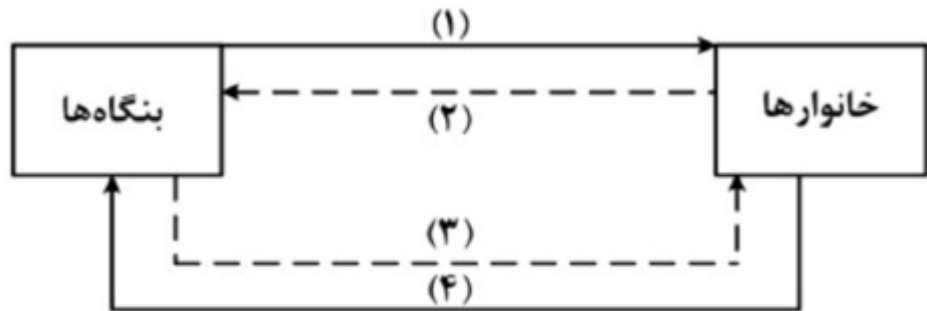
سراسری - انسانی - ۱۴۰۳ اردیبهشت

۴۷ رابطه قیمت و تقاضا در کالاهای جانشین و مکمل مانند برنج، ماکارانی، قند و چای را در نظر بگیرید. کدام مورد درست است؟

- ۱ با افزایش قیمت برنج، تقاضای ماکارانی افزایش می‌یابد.
- ۲ افزایش قیمت قند، موجب افزایش تقاضای چای می‌شود.
- ۳ با کاهش قیمت برنج، تقاضای ماکارانی افزایش می‌یابد.
- ۴ کاهش قیمت قند، تقاضای قند را کاهش می‌دهد.

کنکورهای خارج از کشور - سراسری - انسانی

۴۸ شکل زیر جریان چرخه اقتصادی بین خانوارها و بنگاه‌ها را نشان می‌دهد. کدام مورد درست است؟



- ۱ جریان ۲ و ۴ بیانگر عرضه و تقاضای بازار کالا است.
- ۲ رابطه شماره ۱ و ۴ به ترتیب بازار عوامل تولید و کالا و خدمات را بیان می‌کند.
- ۳ رابطه بنگاه‌ها و خانوارها در شماره ۳ و ۴ به ترتیب جریان درآمد و عوامل تولید را نشان می‌دهد.
- ۴ جریان شماره ۲ و ۴ به ترتیب، مجموعه خریداران و فروشندگان کالاها و خدمات را نشان می‌دهد.

سراسری - انسانی - ۱۴۰۲ تیرماه

۴۹ در جریان چرخه فعالیت‌های اقتصادی، کدام مورد بیان مناسبی در رابطه با تعاملات بین بازیگران کلیدی است؟

- ۱ خانوارها با درآمدی که از فروش عوامل تولید کسب کرده‌اند، خدمات موردنیاز خود را از بنگاه خریداری می‌کنند.
- ۲ خانوارها باید منابع را از کارخانه‌های تولیدی خریداری کنند و نیروی کار را به بنگاه‌ها اجاره دهند.
- ۳ بازار فقط شامل مجموعه خریداران و فروشندگان چیزی در مکان خاصی می‌باشد.
- ۴ بنگاه‌ها در مبادلات خود با خانوارها باید به صورت حقیقی در بازار حضور یابند.

سراسری - انسانی - دی ۱۴۰۱

۵۰ پاسخ پرسش‌های زیر، به ترتیب کدام است؟

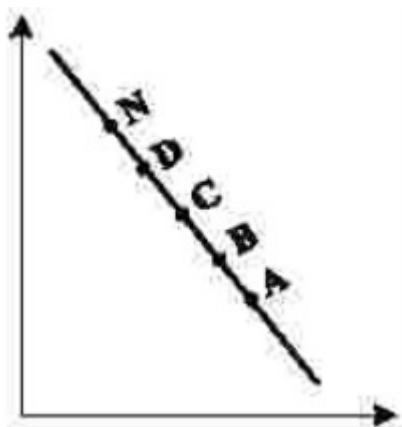
- کدام مورد از سطوح چهارگانه آمارهای اقتصادی، خرد تلقی می‌شود؟
- هریک از موارد «لوازم التحریر»، «صید ماهی در دریاها و رودخانه‌ها»، «فعالیت‌های فرهنگی و فردی» و «تولید و تکثیر آبزیان در حوضچه‌های مخصوص»، به ترتیب جزو کدام نوع تولید و رسیدن به محصول است؟
- شیب منحنی عرضه نشان‌دهنده کدام است و چنانچه شیب منحنی عرضه تولیدکننده‌ای بیشتر باشد، کسش قیمتی عرضه، چگونه خواهد بود؟

- ۱ روستایی، شهری - احیاء، حیات، صنعت، خدمات - «میزان حساسیت تولیدکننده نسبت به میزان تولید»، «زیاد»
- ۲ روستایی، شهری - صنعت، حیات، محصولات نرم، احیاء - «میزان حساسیت تولیدکننده نسبت به میزان تولید»، «زیاد»
- ۳ خانوارها یا شرکت‌ها و مؤسسات تولیدی - احیاء، حیات، صنعت، خدمات - «درجه حساسیت تولیدکننده نسبت به قیمت»، «پایین»
- ۴ خانوارها یا شرکت‌ها و مؤسسات تولیدی - صنعت، حیات، محصولات نرم، احیاء - «درجه حساسیت تولیدکننده نسبت به قیمت»، «پایین»

کنکورهای خارج از کشور - سراسری - انسانی

۵۱ کدام مورد، عبارت زیر را تکمیل می‌کند؟

«در نمودار منحنی ، حرکت از نقطه به نقطه بیانگر قیمت و حرکت از نقطه به نقطه بیانگر قیمت است.»



۲ عرضه، A, B ، افزایش، D, N ، کاهش

۴ تقاضا، A, B ، کاهش، D, N ، افزایش

۱ تقاضا، A, B ، کاهش، D, N ، افزایش

۳ عرضه، A, B ، افزایش، D, N ، کاهش

کنکورهای خارج از کشور - سراسری - انسانی

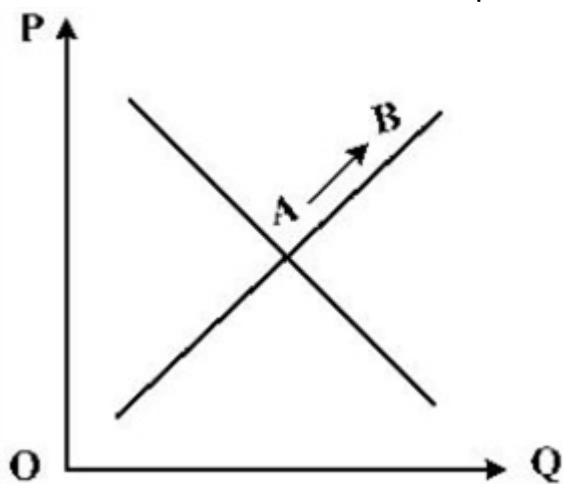
جدول زیر، نمودار: «تقاضا، عرضه، قیمت» در یک جامعه بازاری فرضی است، در این صورت کدام یک از ردیف‌های جدول، بیان‌گر:
 الف) مزاد عرضه است؟
 ب) برابری میان «تقاضا و عرضه است و نام «اصطلاح اقتصادی» آن کدام است؟
 ج) کمبود عرضه است؟

ردیف	قیمت به ریال	مقدار تقاضا به کیلو	مقدار عرضه به کیلو
۱	۱۰۰	۱۲۰۰	۰
۲	۱۵۰	۱۰۰۰	۲۰۰
۳	۲۰۰	۸۰۰	۴۰۰
۴	۲۵۰	۶۰۰	۶۰۰
۵	۳۰۰	۴۰۰	۸۰۰
۶	۳۵۰	۲۰۰	۱۰۰۰
۷	۴۰۰	۰	۱۲۰۰

- ۱ الف) ردیف: ۳ (ب) ردیف: ۴ - قیمت تعادلی (ج) ردیف ۳
- ۲ الف) ردیف: ۳ (ب) ردیف: ۵ - مقدار تعادلی (ج) ردیف ۴
- ۳ الف) ردیف: ۵ (ب) ردیف: ۴ - قیمت و مقدار تعادلی (ج) ردیف ۳
- ۴ الف) ردیف: ۵ (ب) ردیف: ۵ - مقدار و قیمت تعادلی (ج) ردیف ۴

کنکورهای خارج از کشور - سراسری - انسانی

با توجه به نمودار منحنی علت حرکت از نقطه‌ی A به B کدام است؟



- ۱ تقاضا - افزایش عرضه
- ۲ عرضه - کاهش قیمت کالا
- ۳ تقاضا - کاهش مقدار عرضه
- ۴ عرضه - افزایش قیمت کالا

کنکورهای خارج از کشور - سراسری - انسانی

۵۴

پاسخ درست و کامل پرسش‌های زیر در کدام گزینه مطرح شده است؟
 الف) کدام اثر و نتیجه، مربوط به برقراری ارتباط بین عرضه‌کنندگان و تقاضاکنندگان سرمایه در فعالیت‌های بورس تلقی می‌شود؟
 ب) دو مؤسسه‌ی تولید محصولات صنعتی و تولید محصولات کشاورزی در استفاده از کدام نهاده‌های تولید، اشتراک دارند؟
 ج) با توجه به مشکلات عدیده در دوران استفاده از کالاهای پولی انسان با استفاده از پول از به کارگیری کالاها در مبادلات رهایی یافت و استفاده از برخی فلزات از جمله را جایگزین آن‌ها نمود.
 د) برخی از انواع بازارها را می‌توان دید که در قالب حراجی‌ها به دو صورت فعالیت می‌کنند. فروشندگان آثار هنری با برگزاری نمایشگاه‌ها و حراجی‌ها از روش و خریداران عمده‌ی کالاها و خدمات مثل خریدهای دولتی از روش استفاده می‌کنند.

۱) الف) کاهش نرخ تورم ب) ماشین‌آلات ج) کاغذی - اسکناس د) مزایده و مناقصه - مناقصه - مزایده

۲) الف) تنظیم معاملات بازار سرمایه ب) نیروی کار ج) فلزی - طلا و نقره د) مناقصه و مزایده - مزایده - مناقصه

۳) الف) افزایش حجم سرمایه‌گذاری ب) مواد اولیه ج) فلزی - مفرغ و نیکل د) رقابت و انحصار - مزایده - مناقصه

۴) الف) اجرای پروژه‌های بزرگ خصوصی و دولتی ب) سردخانه ج) پول کاغذی - رسیدهای جایگزین پول د) رقابت و انحصار - مزایده - مناقصه

کنکورهای خارج از کشور - سراسری - انسانی

۵۵

جدول زیر، نمودار: «تقاضا، عرضه، قیمت» در یک جامعه بازاری فرضی است، به ترتیب کدام ردیف‌های جدول بیان‌گر:

الف) برابری میان «تقاضا و عرضه» است و نام اصطلاح اقتصادی آن کدام است؟
 ب) کمبود عرضه است؟
 ج) مازاد عرضه است؟

ردیف	قیمت را به ریال	مقدار تقاضا به کیلو	مقدار عرضه به کیلو
۱	۱۰۰	۱۲۰۰	۰
۲	۱۵۰	۱۰۰۰	۲۰۰
۳	۲۰۰	۸۰۰	۴۰۰
۴	۲۵۰	۶۰۰	۶۰۰
۵	۳۰۰	۴۰۰	۸۰۰
۶	۳۵۰	۲۰۰	۱۰۰۰
۷	۴۰۰	۰	۱۲۰۰

۱) الف) ردیف: ۴ - مقدار و قیمت تعادلی ب) ردیف ۳ ج) ردیف ۵

۲) الف) ردیف: ۴ - مقدار تعادلی ب) ردیف ۵ ج) ردیف ۳

۳) الف) ردیف: ۷ - قیمت و مقدار تعادلی ب) ردیف ۵ ج) ردیف ۳

۴) الف) ردیف: ۷ - قیمت تعادلی ب) ردیف ۳ ج) ردیف ۵

سراسری - انسانی - ۱۴۰۰

۵۶ با توجه به نمودار زیر:

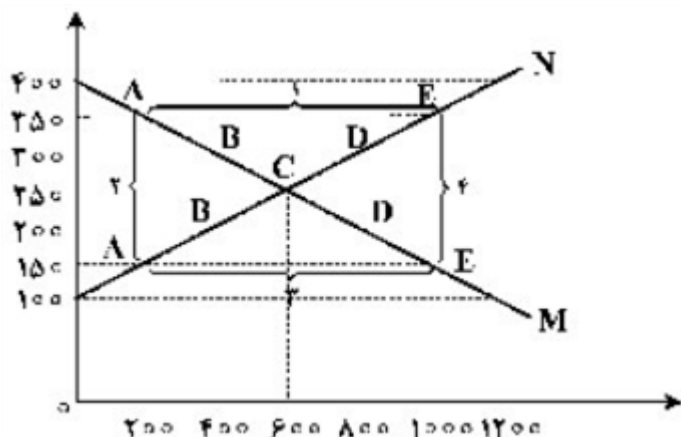
الف) کدام شماره، بیانگر مازاد عرضه است؟

ب) کدام دو نقطه، به ترتیب بیانگر قیمت و مقدار و مفهوم تعادلی است؟

ج) کدام شماره، مبین مفهوم کمبود عرضه است؟

د) کدام حروف به ترتیب، بیانگر منحنی تقاضا و عرضه است؟

ه) کدام دو عدد بیانگر «عرضه صفر» است؟ و کدام دو عدد مبین «تقاضای صفر» است؟



۱ الف) ۱ (ب) C - ۲۵۰ - ۶۰۰ (ج) ۳ (د) M و N (ه) ۱۰۰، ۱۲۰۰ و ۴۰۰، ۱۲۰۰

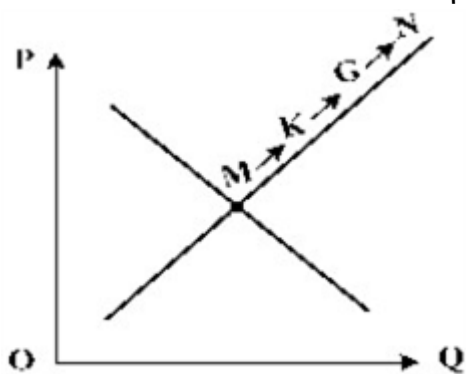
۲ الف) ۱ (ب) B - ۲۵۰ - ۶۰۰ (ج) ۴ (د) M و N (ه) ۱۰۰، ۱۲۰۰ و ۴۰۰، ۱۲۰۰

۳ الف) ۳ (ب) B - ۶۰۰ - ۲۵۰ (ج) ۲ (د) M و N (ه) ۱۰۰، ۱۲۰۰ و ۴۰۰، ۱۲۰۰

۴ الف) ۳ (ب) C - ۶۰۰ - ۲۵۰ (ج) ۱ (د) M و N (ه) ۱۰۰، ۱۲۰۰ و ۴۰۰، ۱۲۰۰

سراسری-انسانی-۱۴۰۰

۵۷ با توجه به نمودار منحنی علت حرکت از نقطه M به N، کدام است؟



۲ تقاضا - قیمت پایین‌تر و تولید بیشتر

۴ تقاضا - توانایی تولید کمتر و قیمت بالاتر

۱ عرضه - قیمت بالاتر و عرضه‌ی کمتر

۳ عرضه - قیمت بیشتر و عرضه‌ی بیشتر

سراسری-انسانی-۱۴۰۰

کدام گزینه، دربرگیرنده‌ی پاسخ درست و کامل پرسش‌های زیر است؟
 الف) تولیدکنندگان برای تولید محصولات خود اعم از کالاها و خدمات به ناچار باید مقداری هزینه کنند، کدام مورد در این رابطه، درست نیست؟
 ب) کدام گزینه، مبین مفهوم و معنای نزولی بودن منحنی تقاضاست؟
 ج) وصول مطالبات اسنادی و سود سهام مشتریان و واریز به حساب آن‌ها مربوط به کدام فعالیت‌ها است؟

- د) همهی موارد در رابطه با به وجود آمدن نهادی با عنوان دولت درست است؛ به‌جز:
 هـ) در سال‌های بعد از پایان جنگ جهانی دوم کشورهای در حال توسعه تلاش جدی برای رسیدن به شکوفایی را آغاز کردند اما در اکثر کشورها، پیشرفت‌های مختصر آن هم به بهای «.....» اتفاق افتاد.
- ۱) الف) ماشین‌آلات و مواد اولیه خریداری نمایند. ب) کاهش مقدار تقاضا در مقابل کاهش قیمت ج) بانک‌های خصوصی د) در عصر ما انسان‌ها، وجود و حضور دولت بیش‌تر از اعصار گذشته احساس می‌شود. هـ) اتلاف منابع انسانی
- ۲) الف) تعدادی کارگر و کارمند به استخدام خود درآوردند. ب) کاهش مقدار تقاضا در مقابل کاهش قیمت ج) بانک مرکزی د) با گذشت زمان دولت‌ها به تدریج به محدوده‌ی اقتصاد جامعه نیز نفوذ کردند و با شهروندان خود رابطه‌ی مالی برقرار نمودند. هـ) از بین رفتن منابع آب
- ۳) الف) آن‌ها باید محلی را به عنوان کارگاه، مغازه یا دفتر کار خریداری یا اجازه کنند. ب) افزایش قیمت در مقابل کاهش قیمت ج) بانک‌های تخصصی د) از زمان شکل‌گیری نخستین تمدن‌های بشری، نیاز به نهادی که اداره‌ی امور این جوامع را برعهده گیرد احساس می‌شد. بنابراین نخستین دولت‌ها به وجود آمدند. هـ) فقر بیش‌تر جامعه
- ۴) الف) تولیدکنندگان با فروش محصولات خود مقداری پول به دست می‌آورند. ب) کاهش مقدار تقاضا در مقابل افزایش قیمت ج) شبکه‌ی بانکی د) ماهیت این نهاد و میزان قدرت آن در جوامع مختلف یکسان بوده اما با گذشت زمان و تکامل جوامع و کشف قوانین حاکم بر طبیعت، محدوده‌ی اقتدار دولت تنگ‌تر شده است. هـ) تخریب شدید محیط زیست

کدام گزینه، مبین پاسخ درست و کامل پرسش‌های زیر است؟

(الف) برخی از انواع بازارها را می‌توان دید که در قالب حراجی‌ها به دو صورت «.....» و «.....» فعالیت می‌کنند. فروشندگان آثار هنری با برگزاری نمایشگاه‌ها و حراجی‌ها از روش «.....» و خریداران عمده کالاها و خدمات مثل خریدهای دولتی از روش «.....» استفاده می‌کنند.

(ب) کدام دو بانک اگر چه جزو بانک‌های تخصصی محسوب می‌شوند، بیش‌تر نقش بانک تجاری را ایفاء می‌کنند؟

(ج) کدام اثر و نتیجه مربوط به برقراری ارتباط بین عرضه‌کنندگان و تقاضاکنندگان سرمایه در فعالیت‌های بورس تلقی می‌شود؟

(د) دو مؤسسه تولید محصولات صنعتی و تولید محصولات کشاورزی در استفاده از کدام نهاده‌های تولید اشتراک دارند؟

(ه) با توجه به مشکلات عدیده در دوران استفاده از کالاهای پولی، انسان با استفاده از پول «.....» از به‌کارگیری کالاها در مبادلات رهایی یافت و استفاده از برخی فلزات از جمله «.....» را جایگزین آن‌ها نمود.

(و) اندازه‌گیری تولید هر کشور، براساس چه معیارهایی صورت می‌گیرد و تحلیل‌گران اقتصادی شاخص‌های تولید را به چند دسته تقسیم می‌کنند؟

- ۱ الف) مناقصه - مزایده - مناقصه - مزایده (ب) مسکن - ملت (ج) کاهش نرخ تورم (د) ماشین‌آلات (ه) پول کاغذی - اسکناس (و) مرزهای داخلی آن کشور و دولت آن کشور - دو دسته داخلی و ملی
- ۲ الف) رقابت - انحصار - مزایده - مناقصه (ب) کشاورزی - صادرات (ج) افزایش حجم سرمایه‌گذاری (د) مواد اولیه (ه) فلزی - مفرغ و نیکل (و) مرزهای داخلی آن کشور و دولت آن کشور - دو دسته ناخالص داخلی و ناخالص ملی
- ۳ الف) مزایده - مناقصه - مزایده (ب) مسکن - کشاورزی (ج) تنظیم معاملات بازار سرمایه (د) نیروی کار (ه) فلزی - طلا و نقره (و) مرزهای داخلی آن کشور و ملت آن کشور و دو دسته داخلی و ملی
- ۴ الف) رقابت - انحصار - مناقصه - مزایده (ب) ملی - توسعه‌ی صادرات (ج) اجرای پروژه‌های بزرگ دولتی و خصوصی (د) سردخانه (ه) پول کاغذی - رسیدهای جایگزین پول (و) مرزهای داخلی آن کشور و ملت آن کشور - دو دسته بین‌المللی و جهانی

۶۰

پاسخ درست و کامل سؤالات زیر در کدام گزینه، مطرح شده است؟

- الف) عوامل مولد انسانی شامل: نیروی کار یا «.....» صاحب کسب و کار و محصول یا «.....» است. گاهی از متخصصان به عنوان «.....» یاد می‌شود.
- ب) در رابطه با تقسیم کالاها به دو دسته‌ی: «ضروری و تجملی»، چنانچه شیب «.....» کم باشد، یعنی عکس‌العمل مصرف‌کننده در برابر قیمت «.....» است که اصطلاحاً گفته می‌شود که «.....» است. که به آن کالای «.....» می‌گویند.
- ج) «.....» شاخه‌ای از مطالعات اقتصادی است که با ارائه شاخص‌های گوناگون به بررسی و اندازه‌گیری میزان فعالیت‌های اقتصادی در سطح «.....» می‌پردازد و سه مورد از آن‌ها عبارتند از: «.....» و «.....»
- د) قبل از شکل‌گیری خدمات نوین بانکی: «.....» مساوی مجموع مسکوکات و اسکناس‌های در گردش و «.....» بوده است.
- ه) حسابی که پول مشتری برای مدتی نامعین در آن نگهداری می‌شود، اما مشتری می‌تواند با مراجعه به بانک موجودی این حساب را در هر زمان که بخواهد دریافت کند، چه نام دارد؟

- ۱) الف) کارگر نیمه ماهر - کارفرما، متخصص و مدیر - سرمایه‌ی اجتماعی ب) منحنی عرضه - کم - کشش قیمتی عرضه کم - ضروری ج) حسابداری ملی - کلان - مصرف و پس‌انداز کل کشور - درآمد خانوار و میزان تولید کالا - خدمات د) نقدینگی کل - سپرده‌های غیردیداری ه) سپرده‌ی غیردیداری
- ۲) الف) کارگر ساده - کارفرما، متخصص و کارآفرین - سرمایه‌ی انسانی ب) منحنی تقاضا - زیاد - کشش قیمتی تقاضا زیاد - لوکس یا تجملی ج) حسابداری ملی - ملی - حجم نقدینگی - صادرات و واردات - سطح عمومی قیمت‌ها د) نقدینگی کل - خارج از گردش پس‌انداز خانگی ه) سپرده پس‌انداز
- ۳) الف) کارگر ساده - نوآور، متخصص و مدیر - سرمایه‌ی انسانی ب) منحنی تقاضا - کم - کشش قیمتی تقاضا کم - لوکس یا تجملی ج) مالیه‌ی عمومی - خرد - صادرات و واردات - درآمد شرکت‌ها - سطح عمومی قیمت‌ها د) حجم کل پول موجود در کشور - خارج از گردش پس‌انداز خانگی ه) سپرده‌ی مدت‌دار
- ۴) الف) کارگر نیمه ماهر - نوآور، متخصص و کارآفرین - سرمایه‌ی اجتماعی ب) منحنی عرضه - زیاد - کشش قیمتی عرضه زیاد - ضروری ج) مالیه‌ی عمومی - خرد - مصرف و پس‌انداز کل کشور، میزان تولید کالاها و خدمات - درآمد مؤسسات تولید شهری د) حجم کل پول موجود در کشور - سپرده‌های غیردیداری ه) سپرده‌ی دیداری

کنکورهای خارج از کشور - سراسری - انسانی

سوال ۱۸

درس ششم: نقش دولت در اقتصاد چیست؟

۶۱

با توجه به مالیات بر ارزش افزوده، کدام عبارت نادرست است؟

- ۱) کالا و خدمات واسطه‌ای از پرداخت مالیات معاف می‌شوند.
- ۲) مالیاتی است که مصرف‌کنندگان کالاهای خاص، در زمان خرید آن کالا، (به همراه قیمت آن) می‌پردازند.
- ۳) VAT جمع‌آوری شده توسط فروشنده در مرحله آخر، همان مجموع مالیات بر ارزش افزوده جمع‌آوری شده است.
- ۴) این نوع مالیات چندمرحله‌ای است و در هر یک از مراحل تولید و تکمیل تا مصرف نهایی بر حسب ارزش افزوده گرفته می‌شود.

کنکورهای خارج از کشور - سراسری - انسانی

۶۲ کارگاهی کالایی را در سال به تعداد ۲۰,۰۰۰ تولید و به قیمت هر واحد ۱۲۰,۰۰۰ تومان فروخته است. در صورتی که در هر ماه، مبلغ ۶۵ میلیون تومان در فرایند تولید هزینه شود و دولت، مالیاتی معادل ۱۰ درصد به طور سالیانه، بر سود حاصل از فعالیت تولیدی کارگاه وضع کند، پاسخ پرسش‌های زیر به ترتیب از راست به چپ، کدام است؟
الف) مالیات ماهیانه کارگاه به طور متوسط چند تومان است؟
ب) مانده خالص سالیانه کارگاه چند میلیون تومان است؟

۱ ۱۶۰۶ - ۱۳,۵۰۰,۰۰۰

۲ ۱۶۰۶ - ۱۶۲,۰۰۰,۰۰۰

۳ ۱۴۵۸ - ۱۳,۵۰۰,۰۰۰

۴ ۱۴۵۸ - ۱۶۲,۰۰۰,۰۰۰

سراسری-انسانی-۱۴۰۴ تیرماه

۶۳ هر عبارت، به ترتیب به کدام قسمت جدول مربوط است؟
- در این نوع از مالیات، کالا و خدمات واسطه‌ای از پرداخت مالیات معاف می‌شوند.
- حقوق و عوارض گمرکی
- وظیفه قانونی پرداخت آن به عهده تولیدکنندگان و فروشندگان است.
- مالیات بر درآمد املاک

ویژگی	نوع مالیات
مالیات مستقیم	الف
ب	مالیات بر مصرف
ج	مالیات بر ارزش افزوده
تابع سیاست‌های کلان کشور	د

۱ ب - د - ج - الف

۲ ج - د - ب - الف

۳ ب - الف - د - ج

۴ ج - د - الف - ب

سراسری-انسانی-۱۴۰۴ تیرماه

۶۴ کدامیک از عبارتهای زیر به وظایف دولت در بخش «بهبود عملکرد بازار» اشاره دارد؟
الف) تأیید کیفیت یا عدم کیفیت محصولات
ب) ارائه کالای عمومی
ج) تعریف و اجرای حقوق مالکیت
د) بهبود امنیت خرید و فروش و مبادلات
هـ) سرمایه‌گذاری در حوزه خدمات عمومی

۱ ب و ج

۲ الف، ج و د

۳ الف، ب و هـ

۴ ج، د و هـ

سراسری-انسانی-اردیبهشت ۱۴۰۴

۶۵ کدام عملکرد دولت، «امنیت خرید و فروش در بازار» را تضمین می‌کند؟

۱ مبارزه با ورود کالاهای قاچاق خارجی

۲ تعریف و اجرای دقیق حقوق مالکیت

۳ نظارت بر وجود اطلاعات دقیق و درست

۴ نظارت بر کلیه خرید و فروش‌ها از طریق مالیات بر ارزش افزوده

کنکورهای خارج از کشور-سراسری-انسانی

۶۶ کدام مورد درباره تأمین منابع مالی دولت، برای ارائه خدمات و کالاهای عمومی، درست است؟

- ۱ فروش اوراق مشارکت - ایجاد بدهی - عوارض نوسازی
- ۲ تعرفه‌های گمرکی - خرید اوراق مشارکت - قرض از مردم
- ۳ پرداخت یارانه - فروش دارایی‌های تجدیدناپذیر - تعرفه‌های گمرکی
- ۴ تعرفه‌های گمرکی - فروش دارایی‌های تجدیدناپذیر - خرید اوراق مشارکت

کنکورهای خارج از کشور - سراسری - انسانی

۶۷ هر کدام از موارد زیر به ترتیب، به کدام نوع مالیات اشاره دارد؟

- معمولاً برای حمایت از صنایع داخلی به کار گرفته می‌شوند.
- مهم‌ترین نوع مالیات است.
- آنچه از مالیات‌ستانی مضاعف جلوگیری می‌کند.

- ۱ مالیات بر مصرف - ثروت مؤدی - ارث
- ۲ عوارض گمرکی و خدماتی - مالیات بر دارایی - مالیات بر ارث
- ۳ عوارض گمرکی و خدماتی - مالیات بر درآمد اشخاص - مصرف
- ۴ تعرفه‌های گمرکی - مالیات بر درآمد اشخاص - ارزش افزوده

سراسری - انسانی - تیرماه ۱۴۰۳

۶۸ در صورتی که درآمد کارگاهی در سال گذشته چهار برابر هزینه‌های تولید آن کارگاه و سود حاصل بیست

و چهار میلیون تومان باشد، پاسخ پرسش‌های زیر، به ترتیب از راست به چپ، کدام است؟

الف) هزینه‌های تولید آن کارگاه، چند میلیون تومان بوده است؟

ب) میزان درآمد کارگاه در سال گذشته، چند میلیون تومان بوده است؟

ج) مبلغ قابل محاسبه برای پرداخت مهم‌ترین نوع مالیات این واحد تولیدی، چند میلیون تومان بوده است؟

۳۲ - ۳۲ - ۸ (۴)

۲۴ - ۳۲ - ۸ (۳)

۳۲ - ۲۴ - ۶ (۲)

۲۴ - ۳۰ - ۶ (۱)

سراسری - انسانی - تیرماه ۱۴۰۳

۶۹ با توجه به جدول زیر که میزان مالیات پرداختی در یک جامعه را ارائه می‌دهد، پاسخ‌های پرسش‌های زیر به ترتیب کدام است؟

- الف: مجموع میزان مالیات مستقیم چند میلیون تومان است؟
 ب: مجموع میزان پرداختی برای مهم‌ترین نوع مالیات چند میلیون تومان است؟
 ج: افراد این جامعه چند میلیون تومان مالیات غیرمستقیم پرداخته‌اند؟

مالیات بر مصرف	۲۰۰ میلیون تومان
مالیات بر درآمد اشخاص	۸۰ میلیون تومان
مالیات بر دارایی	$\frac{1}{3}$ مالیات بر درآمد
مالیات بر درآمد	۳۳۰ میلیون تومان
عوارض نوسازی	۲۵ درصد مالیات بر مصرف
VAT	۲ برابر مالیات بر دارایی

۲ ۴۷۰، ۸۰، ۵۲۰

۱ ۲۵۰، ۱۱۰، ۴۴۰

۴ ۴۷۰، ۸۰، ۴۴۰

۳ ۲۵۰، ۱۱۰، ۵۲۰

کنکورهای خارج از کشور - سراسری - انسانی

۷۰ هریک از عبارت‌های زیر به کدام نوع مالیات اشاره دارد؟

- مالیاتی که از مالیات‌ستانی مضاعف جلوگیری می‌کند.
- معمولاً برای حمایت از صنایع داخلی نیز به کار گرفته می‌شود.
- مهم‌ترین نوع مالیات است.
- اساس و مبنای آن ثروت مؤدی است.

۱ مالیات بر درآمد - مالیات بر مصرف - مالیات بر ارث - مالیات بر درآمد

۲ مالیات بر درآمد - عوارض گمرکی - مالیات بر مصرف - مالیات بر درآمد

۳ مالیات بر ارزش افزوده - مالیات بر مصرف - مالیات بر ارث - مالیات بر دارایی

۴ مالیات بر ارزش افزوده - عوارض گمرکی - مالیات بر درآمد اشخاص - مالیات بر دارایی

کنکورهای خارج از کشور - سراسری - انسانی

۷۱ با توجه به اثر هریک از روش‌های درآمدزایی دولت، کدامیک از موارد زیر درست نیست؟

۱ درآمد ناشی از فروش دارایی‌های تجدیدناپذیر به دلیل نوسان قیمت و وابستگی به قیمت بازارهای بین‌المللی، درآمد قابل اطمینانی نیست.

۲ ایجاد بدهی از طریق قرض از مردم در هنگام سرمایه‌گذاری عمرانی با فروش اوراق مشارکت، یک نوع درآمد پایدار و مؤثر در اقتصاد کشور است.

۳ اگر درآمد حاصل از فروش دارایی‌ها به خلق دارایی جدید منجر نشود، حتماً نسل‌های آینده متضرر می‌شوند.

۴ درآمد حاصل از مالیات‌ها فراتر از کسب درآمد است زیرا رفتار مصرف‌کنندگان را اصلاح می‌کند.

سراسری - انسانی - ۱۴۰۲ - تیرماه

۷۲ یک دامدار، شیر تولیدی خود را به کارگاه تولید محصولات لبنی ۲ میلیون تومان می‌فروشد. کارگاه خامه تولید شده از شیر را به شیرینی‌پزی به قیمت ۳ میلیون تومان می‌فروشد و شیرینی‌پز یک کیک درست شده از خامه را به مغازه‌دار ۴ میلیون تومان می‌فروشد و مغازه‌دار آن کیک را به قیمت ۵ میلیون تومان به مشتری می‌فروشد. اگر نرخ VAT، ده درصد باشد، مجموع مالیات بر ارزش افزوده جمع‌آوری شده و مالیات بر ارزش افزوده خالص جمع‌آوری شده توسط مغازه‌دار به ترتیب چند هزار تومان است؟

- ۱ پانصد - صد
 ۲ چهارصد - صد
 ۳ نهصد - چهارصد
 ۴ یک میلیون و چهارصد - چهارصد

سراسری-انسانی-۱۴۰۲ تیرماه

۷۳ با توجه به جدول میزان مالیات پرداختی در یک جامعه برای موارد الف و ب به ترتیب، چند میلیون تومان است؟

الف) مجموع میزان مالیات مستقیم پرداختی
 ب) مجموع میزان مالیات غیرمستقیم پرداختی

تعارف‌های گمرکی	۱۸۰ میلیون تومان
مالیات بر درآمد اشخاص	$\frac{1}{5}$ مالیات بر دارایی
مالیات بر دارایی	۲۴۰ میلیون تومان
عوارض خودرو	۳۵ میلیون تومان
مالیات شکر	۱۵ میلیون تومان

- ۱ ۲۸۸ و ۲۱۵
 ۲ ۲۸۸ و ۲۳۰
 ۳ ۳۰۴ و ۲۱۵
 ۴ ۳۰۴ و ۲۳۰

سراسری-انسانی-دی ۱۴۰۱

۷۴ در هنگام عدم تعادل، در وضعیت کمبود تقاضا در بازار، دولت از ابزار مالیات‌گیری جهت بهبود عملکرد بازار استفاده می‌کند، از کدام نوع مالیات و با چه هدفی، مالیات گرفته می‌شود؟

- ۱ مالیات مستقیم - کسب درآمد
 ۲ مالیات مستقیم - کاهش مصرف
 ۳ مالیات غیرمستقیم - حمایت از مصرف‌کننده
 ۴ مالیات غیرمستقیم - کاهش مصرف

سراسری-انسانی-دی ۱۴۰۱

۷۵ پاسخ پرسش‌های زیر، به ترتیب کدام است؟

- حقوق و عوارض گمرکی در واقع، مالیات بر کدام مورد است؟
- از دیدگاه اقتصاددانان «راه گسترش توسعه اقتصادی و افزایش سرعت روند توسعه‌یافتگی جامعه» و «مانع بر سر راه پیشرفت همه‌جانبه کشور»، به ترتیب کدام است؟

- ۱ تجارت خارجی - «رفع فقر و حمایت از اقشار کم‌درآمد»، «فقر گسترده»
 ۲ واردات و صادرات - «طراحی و اجرای سیاست‌های مناسب»، «فقر گسترده»
 ۳ تجارت خارجی - «طراحی و اجرای سیاست‌های مناسب»، «اعتیاد به مواد مخدر فراگیر»
 ۴ واردات و صادرات - «رفع فقر و حمایت از اقشار کم‌درآمد»، «اعتیاد به مواد مخدر فراگیر»

کنکورهای خارج از کشور-سراسری-انسانی

۷۶ پاسخ درست و کامل پرسش‌های زیر، به ترتیب کدام است؟

- «دستمزدها»، «درآمد صاحبان سرمایه»، «درآمد صاحبان املاک» و «سود شرکت‌ها و مؤسسات» در درون کدام شاخص قرار می‌گیرند؟
- در کدام حالت، سرمایه‌گذاری‌های دولتی می‌تواند یکی از منابع تأمین درآمد دولت محسوب شود؟
- عدم رعایت اصل مزیت‌های مطلق و نسبی، کدام نتایج را به دنبال خواهد داشت؟

۱ درآمد ملی - مبتنی بر هدف کسب سود و سودآوری باشد - اسراف و تبذیر منابع و سرمایه‌ها در فضای تولید، کاهش رفاه جوامع

۲ تولید خالص ملی - مبتنی بر هدف کسب سود و سودآوری باشد - تولید محصولات کمتر و با کیفیت بالاتر، افزایش رفاه جوامع

۳ تولید خالص ملی - در صورتی که منابع درآمدی نتواند تمام هزینه‌های دولتی را پوشش دهد - اسراف و تبذیر منابع و سرمایه‌ها در فضای تولید، کاهش رفاه جوامع

۴ درآمد ملی - در صورتی که منابع درآمدی نتواند تمام هزینه‌های دولتی را پوشش دهد - تولید محصولات کمتر و با کیفیت بالاتر، افزایش رفاه جوامع

کنکورهای خارج از کشور - سراسری - انسانی

۷۷ «سود یک شرکت یا حقوق یک کارمند که ماهانه تحقق می‌یابد» و «اتومبیل یا ساختمان یک شرکت که دارایی یا ثروت است» به ترتیب، به کدام متغیر اشاره دارد؟

۱ انبار، انبار ۲ انبار، جاری ۳ جاری، انبار ۴ جاری، جاری

کنکورهای خارج از کشور - سراسری - انسانی

۷۸ فرض کنید شخصی ماهیانه ۸۵ میلیون ریال درآمد دارد. با توجه به جدول مالیاتی زیر، پاسخ هریک از پرسش‌های الف، ب، ج و د کدام است؟

معاف از مالیات	درآمدهای تا ۱۵ میلیون ریال
	با نرخ ۱۰٪ نسبت به مازاد ۱۵ میلیون ریال
	با نرخ ۱۵٪ نسبت به مازاد ۲۵ میلیون ریال
	با نرخ ۱۸٪ نسبت به مازاد ۳۵ میلیون ریال
	با نرخ ۲۴٪ نسبت به مازاد ۶۵ میلیون ریال

الف- میزان مالیات ماهیانه او، چقدر است؟

ب- میزان مانده خالص ماهیانه او، چقدر است؟

ج- نام «نرخ مالیاتی» مورد محاسبه، کدام است؟

د- چنانچه این شخص $\frac{1}{3}$ مانده خالص ماهیانه خود را در سرمایه‌گذاری جدید به کار گیرد، چه مقدار از

این مانده برای سایر هزینه‌های او باقی خواهد ماند؟

۱ الف: ۱۷,۲۰۰,۰۰۰ ب: ۶۷,۸۰۰,۰۰۰ ج: تصاعدی کلی د: ۴۵,۲۰۰,۰۰۰

۲ الف: ۱۷,۲۰۰,۰۰۰ ب: ۶۷,۸۰۰,۰۰۰ ج: تصاعدی طبقه‌ای د: ۴۵,۲۰۰,۰۰۰

۳ الف: ۱۲,۷۰۰,۰۰۰ ب: ۷۲,۳۰۰,۰۰۰ ج: تصاعدی کلی د: ۴۸,۲۰۰,۰۰۰

۴ الف: ۱۲,۷۰۰,۰۰۰ ب: ۷۲,۳۰۰,۰۰۰ ج: تصاعدی تصاعدی د: ۴۸,۲۰۰,۰۰۰

کنکورهای خارج از کشور - سراسری - انسانی

۷۹ کدام مورد، هزینه فرصت اجتماعی «کمک‌های بلاعوض به فقرا» را تبیین می‌کند؟

- ۱ کمک به افراد کم‌توان مالی، انتظار آنها را افزایش می‌دهد و به عدم فعالیت اقتصادی تشویق می‌کند.
- ۲ دولت باید از همه مردم مالیات بیشتر بگیرد که در بیشتر اوقات امکان‌پذیر نیست.
- ۳ کمک دولت به افراد نیازمند، سبب افزایش اشتغال در جامعه می‌شود.
- ۴ با اختصاص منابع به این نوع کمک‌ها، سرمایه برای فعالیت‌های مولد کاهش می‌یابد.

سراسری-انسانی-۱۴۰۲ تیرماه

۸۰ کدام سیاست اقتصادی، جهت مقابله با تحریم‌های تجاری مناسب است؟

- ۱ افزایش درآمد سرانه
- ۲ افزایش ارزش پولی صادرات و واردات
- ۳ کاهش حجم نقدینگی و حفظ ارزش پول ملی
- ۴ افزایش نسبت صادرات غیرنفتی به تولید کل

سراسری-انسانی-دی ۱۴۰۱

۸۱ کشور الف و ب فقط دو محصول برنج و چای تولید می‌کنند. کشور الف به ازای هر کیلو چای که تولید می‌کند از تولید ۵ کیلو برنج صرف‌نظر می‌کند. کشور ب به ازای هر کیلو چای که تولید می‌کند از تولید ۸ کیلو برنج صرف‌نظر می‌کند. با توجه به اطلاعات ارائه شده، کشور الف دارای کدام مزیت است؟

- ۱ مزیت نسبی در تولید برنج
- ۲ مزیت نسبی در تولید چای
- ۳ مزیت مطلق در تولید برنج
- ۴ مزیت مطلق در تولید چای

سراسری-انسانی-دی ۱۴۰۱

۸۲ کدام گزینه، بیان‌گر پاسخ درست و کامل سؤالات زیر است؟

الف) کدام مورد، ردیف فعالیت‌های مربوط به خدمات بانکی نیست؟
 ب) در استفاده از کدام مورد، وجود دریافتی حتماً باید در طرح‌های مشخص، تولیدی، عمرانی و یا خدماتی به کار گرفته شود و در استفاده از کدام مورد برای وام‌گیرنده محدودیت خاصی وجود ندارد؟
 ج) مطلب زیر مربوط به کدام‌یک از عوامل روی‌آوری کشورها به تجارت بین‌الملل است؟
 «بعضی کشورها از زمین‌های حاصل‌خیز و منابع آبی کافی، برخی از منابع زیرزمینی فراوان و برخی دیگر از نیروی انسانی متخصص بهره‌مندند. برای مثال: کشور ایران دارای منابع نفت و گاز فراوان است. در کشور استرالیا زمین‌های حاصل‌خیز و آب کافی برای محصولات کشاورزی فراوان یافت می‌شود و کشور ژاپن در حوزه الکترونیک نیروی متخصص فراوان در اختیار دارد.»
 د) کدام عبارت، در رابطه با مهم‌ترین اهداف سازمان همکاری اقتصادی، نادرست است؟

- ۱ الف) پرداخت بدهی مشتریان در صورت درخواست آن‌ها ب) اوراق سهام - اوراق قرضه ج) شرایط اقلیمی متفاوت د) بهبود شرایط برای توسعه اقتصادی پایدار کشورهای عضو
- ۲ الف) نقل و انتقال وجود در داخل کشور ب) اسناد خزانه - اوراق مشارکت ج) تنوع و تعدد نیازها و متفاوت بودن آن‌ها در مناطق مختلف د) تهیه برنامه‌ی مشترک برای توسعه منابع انسانی
- ۳ الف) وصول مطالبات اسنادی و سود سهام مشتریان و واریز به حساب آن‌ها ب) اوراق قرضه - اوراق مشارکت ج) یکسان نبودن کشورها از نظر دسترسی به تکنولوژی د) اتخاذ تدابیری برای حذف تدریجی موانع تجاری در منطقه اکو
- ۴ الف) نگهداری ذخایر قانونی و موجودی نقدی بانک‌ها ب) اوراق مشارکت - اوراق قرضه ج) یکسان نبودن منابع و عوامل تولید د) تسریع در برنامه‌های توسعه‌ی زیربنای شبکه‌های بزرگ آبرسانی، ساخت نیروگاه‌های پتروشیمی

کنکورهای خارج از کشور-سراسری-انسانی

۸۳

کدام گزینه، دربردارنده‌ی پاسخ درست و کامل پرسش‌های زیر است؟
 الف) بانک «.....» مستقر در جدّه «.....» بوده و بانک «.....» محسوب می‌شود.
 ب) علاوه بر خرید حضوری روش دیگر برای سرمایه‌گذاری در بورس، کدام است؟
 ج) مطلب زیر مربوط به چیست؟

«هر کشوری در پی جذب سرمایه‌گذاری‌های خارجی برای کشور خود است. تا بدین ترتیب نه تنها پس‌اندازهای داخلی بلکه پس‌اندازهای کشورهای دیگر را نیز در جهت رشد و افزایش کارخانه‌ها و بخش‌های تولیدی داخل به کار گیرد.»
 د) مطلب زیر مربوطه به چیست؟

«در تحکیم بنیان‌های اقتصادی، اصل رفع نیازهای انسان در جریان رشد و تکامل است نه هم‌چون دیگر نظام‌های اقتصادی، تمرکز و تکاثر ثروت و سودجویی، زیرا در مکاتب مادی، اقتصاد عامل تخریب و فساد و تباهی می‌شود ولی در اسلام «.....» است و از آن نیز جزء کارآیی بهتر در راه وصول به مقصد و منظور مطلوب، انتظار دیگری نمی‌توان داشت.»

۱ الف) توسعه‌ی تعاونی جهان اسلام - وابسته به سازمان کنفرانس اسلامی - تعاونی اسلامی ب) از طریق اینترنت ثبت‌نام کرده و رسید واریز مبلغ سرمایه‌گذاری را به کارگزاری مربوط ارسال نمایند ج) جابه‌جایی عوامل تولید - فرار سرمایه‌ها به خارج د) اصل ۴۳ قانون اساسی - اقتصاد هدف است نه وسیله.

۲ الف) توسعه‌ی تعاونی جهان اسلام - وابسته به سازمان ممالک اسلامی حوزه‌ی خلیج فارس - توسعه‌ای ب) با ثبت‌نام در اینترنت تأیید عضویت خود را از سامانه‌ی معاملاتی بورس درخواست نمایند. ج) مبادلات بین‌المللی در بازارهای نیروی کار و سرمایه - مصادره‌ی سرمایه‌های خارجی د) مقدمه‌ی قانون اساسی - اقتصاد هدف است نه وسیله.

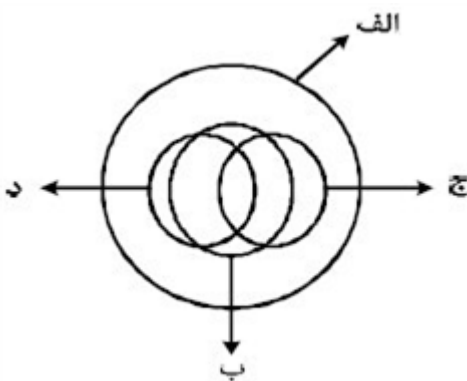
۳ الف) توسعه‌ی اسلامی - وابسته به سازمان کنفرانس اسلامی - توسعه‌ای ب) اشخاص می‌توانند از طریق اینترنت نیز به خرید اقدام کنند و پس از عملیات، نمونه‌ی چاپی آن‌را به عنوان رسید دریافت نمایند. ج) مبادلات بین‌المللی در بازارهای نیروی کار و سرمایه - حرکت سرمایه د) مقدمه‌ی قانون اساسی - اقتصاد وسیله است نه هدف.

۴ الف) توسعه‌ی اسلامی - وابسته به سازمان ممالک اسلامی حوزه‌ی خلیج فارس - تعاونی اسلامی ب) اشخاص می‌توانند از طریق اینترنت به خرید سهام در بورس اقدام کرده و تأیید عضویت خود را از سامانه‌ی معاملاتی بورس تقاضا نمایند. ج) جابه‌جایی عوامل تولید - سرمایه‌گذاری‌های استعماری در ممالک جهان سوم د) اصل ۴۴ قانون اساسی - اقتصاد وسیله است نه هدف.

کنکورهای خارج از کشور - سراسری - انسانی

۸۴

شکل زیر، نسبت میان مصادیق کدام مفاهیم را به درستی نشان می‌دهد؟



۲ الف: جسم ؛ ب: میز ؛ ج: چوبی ؛ د: سبز

۱ الف: فلز ؛ ب: جیوه ؛ ج: جامد ؛ د: مایع

۴ الف: اروپایی ؛ ب: مسیحی ؛ ج: شاعر ؛ د: نویسنده

۳ الف: حیوان ؛ ب: انسان ؛ ج: آسیایی ؛ د: اروپایی

کنکورهای خارج از کشور - سراسری - انسانی

۸۵ کدام مورد، به ترتیب، انواع کالاهای راهبری و ضروری را کامل می‌کند؟

کالاهای راهبردی و ضروری



- ۱ آب - پتروشیمی - محصولات نانوفناوری
 ۲ غذا - پتروشیمی - صنایع نظامی و دفاعی
 ۳ غذا - انرژی‌های نو - صنایع نظامی و دفاعی
 ۴ آب - انرژی‌های نو - محصولات نانوفناوری

کنکورهای خارج از کشور - سراسری - انسانی

۸۶ در ارتباط با «تاب‌آوری و انعطاف‌پذیری هنگام تحریم‌ها»، کدام مورد نادریست است؟

- ۱ باید بر مزیت‌های مطلق و نسبی موجود در کشور، تمرکز کرد.
 ۲ خودکفایی در تأمین کالاهای راهبردی در داخل، راه را برای تأمین نیازهای اساسی هموار می‌سازد.
 ۳ گوناگونی راه‌های تأمین نیازها از طریق واردات، به تاب‌آوری اقتصاد در هنگام تحریم، کمک می‌کند.
 ۴ فاصله گرفتن از اقتصاد تک‌محصولی، کشورهای سلطه‌گر را برای تحریم اقتصادی با شکست مواجه می‌کند.

کنکورهای خارج از کشور - سراسری - انسانی

۸۷ با توجه به جدول، به پرسش‌های زیر، به ترتیب، پاسخ دهید: (در نظر گرفته شود که هر سه کشور به

یک اندازه از نیروی کار، سرمایه و دانش فنی برخوردارند).

- به ترتیب، کدام کشور در تولید B و کدام کشور در تولید A، مزیت مطلق دارد؟

- کدام مورد در رابطه با کشور B درست است؟

		تولید کالا
B	A	کشور
۱۱۴ واحد	۱۲۵ واحد	الف
۸۷ واحد	۹۸ واحد	ب
۲۵۰ واحد	۱۱۲ واحد	ج

- ۱ ج و الف / باید در تولید A تمرکز کند و محصول B را از کشور ج وارد کند.
 ۲ ج و ب / باید در تولید B تمرکز کند و محصول A را از کشور الف وارد کند.
 ۳ الف و ج / باید در تولید B تمرکز کند و محصول A را از کشور الف وارد کند.
 ۴ الف و ب / باید در تولید A تمرکز کند و محصول B را از کشور ج وارد کند.

سراسری - انسانی - ۱۴۰۴ تیرماه

۸۸ پاسخ پرسش‌های زیر به ترتیب کدام است؟

- الف) مزیت اقتصاد تک‌محصولی در جامعه شهری چیست؟
 ب) کدام مورد پیامد اقتصاد تک‌محصولی در فضای جهانی است؟
 ج) پیامد رعایت نشدن اصل مزیت‌های مطلق و نسبی کدام است؟

- ۱) خلق مزیت‌های جدید - تخصص‌گرایی در تولید - افزایش تعامل قدرتمند با دیگران
- ۲) تمرکز بر مزیت‌های مطلق - افزایش تاب‌آوری مقابل تکانه‌ها و تحریم‌ها - افزایش تعامل قدرتمند با دیگران
- ۳) تخصص‌گرایی و تولید بر اساس اصل مزیت مطلق یا نسبی - آسیب‌پذیر و شکننده بودن اقتصاد - کاهش رفاه جامعه
- ۴) تخصص‌گرایی و تولید بر اساس اصل مزیت مطلق یا نسبی - افزایش تاب‌آوری مقابل تکانه‌ها و تحریم‌ها - کاهش تولید داخلی

سراسری-انسانی-۱۴۰۴ تیرماه

۸۹ با توجه به اطلاعات زیر دربارهٔ تولید خرما و گندم در دو کشور A و B، کدام مورد با توجه به مفاهیم مزیت مطلق و نسبی درست است؟

- قیمت تمام شدهٔ هر واحد خرما و گندم در کشور A، به ترتیب، ۵۵۰ و ۴۷۰ واحد است.
 - هر دو کشور به یک اندازه از نیروی کار، دانش فنی و سرمایه برخوردارند.
 - قیمت تمام شدهٔ هر واحد خرما و گندم در کشور B، به ترتیب، ۶۸۰ و ۵۲۰ واحد است.

- ۱) کشور A، باید هر دو محصول را در کشور خود تولید کند.
- ۲) کشور A، خرما را در کشور خود تولید کند و گندم را از کشور B خریداری کند.
- ۳) کشور B، گندم را در کشور خود تولید کند و خرما را از کشور A خریداری کند.
- ۴) کشور B، باید در تولید خرما و گندم متمرکز شود و هر دو را در کشور خود تولید کند.

سراسری-انسانی-اردیبهشت ۱۴۰۴

۹۰ با توجه به اطلاعات مندرج در جدول مقابل که مربوط به سه کشوری است که از نیروی کار و سرمایه و دانش فنی یکسانی برخوردارند، پاسخ پرسش‌های زیر به ترتیب، کدام است؟

- الف) کدام کشور، در تولید دارو مزیت مطلق دارد؟
 ب) کدام رابطه تجاری برای کشور C، مناسب است؟
 ج) کشور B، باید منابع خود را به تولید کدام کالا اختصاص دهد؟

کشور	میزان تولید دارو	میزان تولید پوشاک
A	۱۶۰ واحد	۱۲۰ واحد
B	۸۷ واحد	۷۰ واحد
C	۶۵ واحد	۴۵ واحد

- ۱) C - با برخورداری از مزیت نسبی در پوشاک باید داروی موردنیاز خود را از کشور A وارد کند - پوشاک
- ۲) A - با برخورداری از مزیت نسبی در پوشاک باید داروی موردنیاز خود را از کشور A وارد کند - پوشاک
- ۳) C - باید پوشاک موردنیاز خود را از کشور A وارد کند و منابع خود را در تولید دارو متمرکز کند - دارو
- ۴) A - باید پوشاک موردنیاز خود را از کشور A وارد کند و منابع خود را در تولید دارو متمرکز کند - دارو

کنکورهای خارج از کشور-سراسری-انسانی

۹۱ دولت‌ها با چه هدفی، تعرفه‌های واردات را افزایش می‌دهند؟

- ۱ گسترش روابط اقتصادی با کشورهایی که دیدگاه سیاسی نزدیک به هم دارند.
- ۲ حمایت از صنایع داخلی و کاهش وابستگی اقتصادی به کشورهای دیگر
- ۳ کاهش تنش و اختلاف سیاسی و اقتصادی بین کشورها
- ۴ تنظیم بازار از طریق افزایش واردات

سراسری-انسانی-تیرماه ۱۴۰۳

۹۲ با توجه به جدول مقابل، با فرض اینکه هر سه کشور از نظر عوامل تولید یکسان هستند، پاسخ

پرسش‌های زیر، به ترتیب از الف تا ج، کدام است؟

الف) کدام کشور در تولید کالای ب مزیت مطلق دارد؟

ب) اگر هزینه فرصت تولید کالای الف در کشور کنیا ۴۵۰ واحد، کالای ب ۵۴۰ واحد و کالای ج ۳۹۹

واحد باشد، این کشور در تولید چه کالایی مزیت نسبی دارد؟

ج) کدام مورد، در رابطه با کشور آلمان درست است؟

کشور	الف (واحد)	ب (واحد)	ج (واحد)
ترکیه	۷۹۰	۱۵۴۰	۱۲۳۵
آلمان	۹۷۰	۸۵۰	۷۰۷
کنیا	۵۸۰	۳۹۸	۶۹۰

- ۱ آلمان - ج - در تولید کالای الف و ب از مزیت مطلق برخوردار است و باید کالای ج را از ترکیه وارد کند.
- ۲ ترکیه - ج - با اینکه در تولید کالای الف مزیت مطلق دارد، اما بهتر است کالای ج را از ترکیه وارد کند.
- ۳ آلمان - ب - در تولید کالای الف و ب از مزیت مطلق برخوردار است و باید کالای ج را از ترکیه وارد کند.
- ۴ ترکیه - ب - با اینکه در تولید کالای الف مزیت مطلق دارد، اما بهتر است کالای ج را از کنیا وارد کند.

سراسری-انسانی-تیرماه ۱۴۰۳

۹۳ وضع تعرفه‌های گوناگون بر واردات برای حمایت از صنایع داخلی که به آن اشاره می‌شود، به ترتیب به کدام کشور اختصاص دارد؟

الف: افزایش تعرفه‌های گمرکی تا ۵۲ درصد در دوره بین دو جنگ جهانی

ب: اعلام ممنوعیت واردات هر نوع پوشاک با ابریشم ایرانی یا چینی در سال ۱۷۰۱

ج: وضع تعرفه‌های حمایتی متعدد بر کالاهای وارداتی در اوایل قرن نوزدهم

- ۱ آمریکا - آلمان - اروپای شرقی
- ۲ آمریکا - انگلستان - آلمان
- ۳ انگلستان - آلمان - آمریکا
- ۴ انگلستان - اروپای شرقی - آمریکا

سراسری-انسانی-۱۴۰۳ اردیبهشت

۹۴ مفهوم «مقرون به صرفه بودن» در تجارت، با کدام عبارت متناسب است؟

- ۱ بهبود عملکرد بازار
- ۲ کاهش تعرفه‌ها
- ۳ مزیت اقتصادی
- ۴ رونق اقتصادی

کنکورهای خارج از کشور-سراسری-انسانی

۹۵ کدام مورد در رابطه با قرارداد «گات» درست است؟

- ۱ کشورهای آلمان و اروپای شرقی و ایالات متحده در جهت تقویت و حمایت از صنایع داخلی خود، تعرفه‌های حمایتی متعددی بر کالاهای وارداتی وضع کردند.
- ۲ کنگره آمریکا، تعرفه‌های گمرکی را تا ۵۲ درصد افزایش داد و سایر کشورها به تلافی این اقدام، تجارت خود را با آمریکا کاهش دادند و قرارداد تجارت آزاد، مشهور به «گات» را امضا کردند.
- ۳ سیاست‌های حمایت‌گرایانه ایالات متحده و برخی کشورهای اروپایی باعث به وجود آمدن مشکلاتی شده بود که کنفرانس پولی و مالی سازمان ملل به نام گات در سال ۱۹۴۴ تشکیل شد.
- ۴ بیست و سه کشور برای جلوگیری از اقدامات حمایت‌گرایانه کشورها علیه یکدیگر و حفظ روابط تجاری بین خودشان قراردادی غیررسمی را امضا کردند که بعدها به سازمان دائمی تجارت جهانی تبدیل شد.

سراسری-انسانی-۱۴۰۲ تیرماه

سوال ۱۰

درس هشتم: رکود، بیکاری و فقر

۹۶ با توجه به اطلاعات جدول، پاسخ پرسش‌های زیر به ترتیب از راست به چپ کدام است؟
الف) نرخ بیکاری در این کشور چند درصد است؟
ب) جمعیت غیرفعال چند میلیون نفر است؟

۷۸,۰۰۰,۰۰۰	جمعیت کل
۴۴,۰۰۰,۰۰۰	جمعیت بالای ۱۵ سال
۱۵,۵۰۰,۰۰۰	جمعیت شاغل
۴,۵۰۰,۰۰۰	جمعیت بیکار

۴) ۲۲/۵ - ۲۴

۳) ۱۹ - ۲۴

۲) ۲۲/۵ - ۱۴

۱) ۱۹ - ۱۴

کنکورهای خارج از کشور-سراسری-انسانی

۹۷ کارخانه‌ای به دلیل افزایش هزینه‌های تولید، به ناچار باید تعدادی از کارگرها را بیکار کند، با توجه به اطلاعات مندرج در جدول زیر، این بیکاری از چه نوعی است و نرخ بیکاری چند درصد می‌باشد؟

جمعیت کل	جمعیت زیر ۱۵ سال	جمعیت غیرفعال	جمعیت شاغل
۳,۸۰۰,۰۰۰	۹۰۰,۰۰۰	۴۰۰,۰۰۰	۲,۰۰۰,۰۰۰

۴) دوره‌ای - ۱۳/۱۶

۳) اصطکاکی - ۱۵

۲) دوره‌ای - ۲۰

۱) اصطکاکی - ۱۳/۱۶

سراسری-انسانی-۱۴۰۴ تیرماه

۹۸ کدام مورد جزو سیاست‌های فقرزدایی دولت‌ها نیست؟

- ۱ تثبیت قیمت‌ها
- ۲ مبارزه با فساد
- ۳ فعالیت‌های جهادی
- ۴ ثبات قوانین و بهبود فضای کسب‌وکارها

سراسری-انسانی-اردیبهشت ۱۴۰۴

۹۹) کشوری با ۴۵ میلیون نفر جمعیت و تعداد ۳ میلیون نفر بیکار با رکود اقتصادی مواجه است. در صورتی که جمعیت پایین تر از ۱۵ سال آن ۱۰ میلیون نفر و افراد شاغل ۹ میلیون نفر باشد، پاسخ پرسش‌های زیر، به ترتیب، کدام است؟
 الف) این کشور، دچار کدام نوع بیکاری است؟
 ب) نرخ بیکاری در این کشور، چند درصد است؟
 ج) جمعیت غیرفعال این کشور، چند میلیون نفر است؟

۱) دوره‌ای - ۲۵ - ۲۳ ۲) اصطکاکی - ۲۵ - ۲۴ ۳) دوره‌ای - ۲۴ / ۲ - ۲۳ ۴) اصطکاکی - ۲۴ / ۲ - ۲۴

کنکورهای خارج از کشور - سراسری - انسانی

۱۰۰) جمعیت کشوری در سال ۹۹، ۷۸,۶۰۰,۰۰۰ نفر بود. این کشور از ۵۵,۲۰۰,۰۰۰ نفر جمعیت بالاتر از پانزده سال، ۲۷,۴۰۰,۰۰۰ نفر شاغل و ۴,۹۵۰,۰۰۰ نفر بیکار برخوردار بود. پاسخ موارد خواسته شده، به ترتیب (از راست به چپ) کدام است؟
 الف) جمعیت پایین تر از پانزده سال
 ب) جمعیت غیرفعال
 ج) نرخ بیکاری

۱) ۳۲,۳۵۰,۰۰۰ - ۲۳,۴۰۰,۰۰۰ - ۱۳/۵ ۲) ۳۲,۳۵۰,۰۰۰ - ۲۲,۸۵۰,۰۰۰ - ۱۳/۵
 ۳) ۲۳,۴۰۰,۰۰۰ - ۲۲,۸۵۰,۰۰۰ - ۱۵/۳ ۴) ۲۳,۴۰۰,۰۰۰ - ۲۲,۸۵۰,۰۰۰ - ۱۵/۳

سراسری - انسانی - تیرماه ۱۴۰۳

۱۰۱) هریک از عبارتهای زیر به ترتیب مربوط به کدام قسمت در جدول است؟

تعریف	نوعی بیکاری
هنگام رکود اقتصادی رخ می‌دهد.	ج
در همه کشورها وجود دارد و کوتاهمدت است.	ب
افرادی که به تازگی در حال ورود به بازار کار هستند.	الف
عدم تطابق مهارت‌ها	د

- بیکاری دوره‌ای
 - بیکاری ساختاری
 - بیکاری اصطکاکی
 - بیکاری اصطکاکی

۱) د - ج - ب - ج ۲) ج - د - ب - الف ۳) الف - ج - ب - د ۴) الف - د - ج - د

سراسری - انسانی - اردیبهشت ۱۴۰۳

۱۰۲) کشوری در سال گذشته با رکود اقتصادی مواجه گردید. در نتیجه تعداد جمعیت بیکار آن به ۴,۲۰۰,۰۰۰ نفر رسید. با توجه به جمعیت فعال این کشور که ۳۲,۰۰۰,۰۰۰ نفر بود؛ پاسخ پرسش‌های زیر به ترتیب، کدام است؟

- جمعیت شاغل این کشور چند نفر بود؟

- این کشور دارای کدام نوع بیکاری بود؟

- نرخ بیکاری در این کشور چند درصد بود؟

- کدام سیاست پولی، می‌تواند شرایط اقتصادی این کشور را بهبود دهد؟

۲) ۳۶,۲۰۰,۰۰۰ - دوره‌ای - ۱۳ درصد - انبساطی

۱) ۲۷,۸۰۰,۰۰۰ - دوره‌ای - ۱۳ درصد - انبساطی

۴) ۲۷,۸۰۰,۰۰۰ - ساختاری - ۱۲/۵ - انقباضی

۳) ۳۶,۲۰۰,۰۰۰ - ساختاری - ۱۲/۵ - انقباضی

کنکورهای خارج از کشور - سراسری - انسانی

۱۰۳) اطلاعات یک جامعه فرضی مطابق جدول زیر است. اگر یک درصد از جمعیت شاغلین، به امید یافتن شغل بهتر، کار خود را ترک کنند، دچار چه نوع بیکاری شده‌اند و جمعیت شاغلین در این حالت چقدر است؟

جمعیت کل	جمعیت پایین‌تر از ۱۵	جمعیت غیرفعال	جمعیت بیکار
۱۰,۰۰۰,۰۰۰	۱۵٪ جمعیت کل	۳۰٪ جمعیت بالای ۱۵	۲,۰۰۰,۰۰۰

۲) اصطکاکی - ۳,۹۱۰,۵۰۰

۱) اصطکاکی - ۳,۹۵۰,۰۰۰

۴) ساختاری - ۴,۹۱۰,۵۰۰

۳) ساختاری - ۳,۹۵۰,۰۰۰

سراسری - انسانی - ۱۴۰۲ تیرماه

۱۰۴) اگر کارخانه‌ای به دلیل کاهش فروش، مجبور شود به طور موقت تعدادی از کارگرها را بیکار کند، با توجه به جدول زیر، این کارخانه از کدام نوع بیکاری برخوردار است و نرخ بیکاری چند درصد است؟

جمعیت کل (نفر)	جمعیت زیر ۱۵ سال (نفر)	جمعیت غیرفعال (نفر)	جمعیت شاغل (نفر)
۳,۸۰۰,۰۰۰	۹۰۰,۰۰۰	۴۰۰,۰۰۰	۲,۰۰۰,۰۰۰

۴) دوره‌ای - ۳۰

۳) اصطکاکی - ۳۰

۲) اصطکاکی - ۲۰

۱) دوره‌ای - ۲۰

سراسری - انسانی - دی ۱۴۰۱

۱۰۵) کدام گزینه، مبین پاسخ درست و کامل سؤالات زیر است؟
 الف) به کالاهای بادوام سرمایه‌ای که در جریان تولید به کار گرفته می‌شود. نظیر: تراکتور برای کشاورز و کامیون برای شرکت‌های حمل‌ونقل «.....» گفته می‌شود و به آن‌چه که در طول زمان، خدمتشان در جریان تولید استفاده می‌شود. «.....» می‌گویند و تولیدکننده با آن‌ها «.....» ایجاد می‌کند.
 ب) چندین سال است مطلبی در رابطه با بودجه‌ی کل کشور که بی‌ارتباط با تشکیل صندوق توسعه‌ی ملی نیست در بودجه کل کشور لحاظ و رعایت می‌شود، محتوا و مضمون آن، کدام است؟
 ج) گاهی به ارواقی مثل: سفته، چک، پول، برات و حوالجات در زبان مردم، اوراق بهادار گفته می‌شود که کارکرد آن‌ها «.....» اما در اصطلاح اقتصاددانان، آن‌ها اوراق بهادار:

۱) الف) سرمایه‌ی مولد - کالاهای سرمایه‌ای بادوام - سود اقتصادی ب) درآمدهای حاصل از فروش ثروت‌های عمومی باید به عنوان درآمدهای خاص دولتی به صندوق توسعه‌ی ملی واریز شود. ج) تضمین تعهدات است نه تأمین مالی - تلقی می‌شود.

۲) الف) سرمایه‌ی عمرانی - کالاهای بادوام نهایی - سود ویژه ب) نفت خام ثروت عمومی بوده و فروش آن باید از طریق صندوق توسعه‌ی ملی در جهت فقرزدایی همه‌جانبه و فراگیر مورد مصرف قرار گیرد. ج) تأمین مالی است نه تضمین تعهدات - تلقی می‌شود.

۳) الف) سرمایه‌ی مالی - کالاهای سرمایه‌ای - سود حسابداری ب) درآمدهای حاصل از فروش ثروت‌های عمومی برای زاینده‌گی مستمر و حفظ این ثروت طبیعی هرگز نباید مورد مصرف و استفاده قرار گیرد. ج) تأمین مالی است نه تضمین تعهدات - تلقی نمی‌شود.

۴) الف) سرمایه‌ی فیزیکی - کالاهای سرمایه‌ای بادوام - ارزش افزوده ب) نفت خام ثروت عمومی است و صادرات و فروش آن، درآمد محسوب نشده و وجوه حاصل از فروش آن و همچنین گاز طبیعی تولید شده پس از کسر هزینه‌های تولید به صندوق توسعه‌ی ملی واریز شود. ج) تضمین تعهدات است نه تأمین مالی - تلقی نمی‌شود.

کنکورهای خارج از کشور - سراسری - انسانی

سوال ۲۴

درس نهم : تورم و کاهش قدرت خرید

۱۰۶) در صورتی که مقدار سپرده دیداری معادل ۷,۰۰۰، حجم پول ۲۵,۰۰۰، مقدار شبه پول معادل ۳۰,۰۰۰ و حساب‌های پس‌انداز کوتاه مدت ۸,۰۰۰ (واحدها میلیارد ریال) باشد، پاسخ پرسش‌های زیر به ترتیب از راست به چپ، کدام است؟
 الف) مجموع مبلغ (چک پول، اسکناس و مسکوکات) چند واحد است؟
 ب) پس‌اندازهای بلندمدت در بانک‌ها چند واحد می‌باشد؟
 ج) مبلغ نقدینگی چقدر است؟

۲) ۱۵,۰۰۰ - ۲۰,۰۰۰ - ۵۰,۰۰۰

۱) ۱۴,۰۰۰ - ۱۵,۰۰۰ - ۵۰,۰۰۰

۴) ۱۸,۰۰۰ - ۲۲,۰۰۰ - ۵۵,۰۰۰

۳) ۱۶,۰۰۰ - ۱۴,۰۰۰ - ۵۵,۰۰۰

کنکورهای خارج از کشور - سراسری - انسانی

۱۰۷) کدام مورد در ارتباط با پشتوانه پول هر کشوری، درست است؟

۱) پشتوانه پول هر کشور فقط بر اساس ارزش اسمی پول مورد استفاده در مبادله می‌باشد.

۲) هر چقدر قدرت خرید پول بیشتر باشد، پشتوانه پول نیز افزایش می‌یابد.

۳) پشتوانه پول در هر کشوری به حجم پول در گردش بستگی دارد.

۴) قدرت اقتصادی، پشتوانه پول هر کشوری محسوب می‌شود.

کنکورهای خارج از کشور - سراسری - انسانی

۱۰۸ با توجه به اطلاعات زیر، به ترتیب، «مقدار شبه پول»، «مقدار سپرده‌های دیداری» و «میزان نقدینگی» کدام است؟

۱	مجموع ارزش مسکوکات و اسکناس‌ها	۸۴۰۰ واحد
۲	حجم پول	۳ برابر مسکوکات و اسکناس
۳	جمع حساب‌های پس‌انداز بلندمدت و کوتاه‌مدت	۱۱۰۰۰ واحد
۴	ارزش چک پول	۳۶۰۰ واحد
۵	حساب پس‌انداز کوتاه‌مدت	۴۵۰۰ واحد

- ۱ ۱۱۰۰۰، ۱۳۲۰۰ و ۳۶۲۰۰
 ۲ ۱۱۰۰۰، ۱۵۵۰۰ و ۳۶۲۰۰
 ۳ ۱۱۰۰۰، ۱۵۵۰۰ و ۴۶۲۰۰
 ۴ ۲۵۲۰۰، ۱۳۲۰۰ و ۴۶۲۰۰

سراسری-انسانی-۱۴۰۴ تیرماه

۱۰۹ کدام مورد، درباره شاخص قیمت مصرف‌کننده (CPI)، درست است؟

- ۱ معادل مفهوم نرخ تورم است.
 ۲ تغییر در سطح عمومی قیمت‌ها را نشان می‌دهد.
 ۳ رشد دو برابر تغییر CPI، تورم سه درصدی را بیان می‌کند.
 ۴ درصد تغییر CPI در یک دوره زمانی مشخص، به معنی نرخ تورم است.

سراسری-انسانی-۱۴۰۴ تیرماه

۱۱۰ اگر درصد تغییر شاخص قیمت مصرف‌کننده در سال ۱۳۸۳ برابر ۳۰ و شاخص قیمت‌ها در ابتدای آن سال معادل ۳۶۰,۰۰۰ تومان باشد، مقدار شاخص قیمت‌ها در ابتدای سال ۱۳۸۴ چند تومان است؟

- ۱ ۴,۶۸۰,۰۰۰
 ۲ ۳,۸۶۰,۰۰۰
 ۳ ۴۶۸,۰۰۰
 ۴ ۳۸۶,۰۰۰

سراسری-انسانی-اردیبهشت ۱۴۰۴

۱۱۱ کدام مورد به ترتیب، در رابطه با سه وظیفه پول، درست است؟

- الف) وسیله پرداخت‌های آینده
 ب) وسیله پس‌انداز و حفظ ارزش
 ج) وسیله پرداخت در مبادلات

- ۱ رد و بدل کردن حواله‌های بانکی - خرید اقساطی - آسان‌سازی مبادله
 ۲ نگهداری پول برای رفع نیازهای آینده - خرید اقساطی - میزان برابری یورو با ریال
 ۳ رد و بدل کردن حواله‌های بانکی - پرداخت هزینه‌های غیرقابل پیش‌بینی - آسان‌سازی مبادله
 ۴ نگهداری پول برای رفع نیازهای آینده - پرداخت هزینه‌های غیرقابل پیش‌بینی - میزان برابری یورو با ریال

کنکورهای خارج از کشور-سراسری-انسانی

۱۱۲ در سال جاری هزینه سبد بازار مصرف‌کننده ۲۵ میلیارد تومان است. اگر هزینه بازار در سال قبل ۲۰ میلیارد تومان باشد. پاسخ پرسش‌های زیر، به ترتیب، کدام است؟
الف) درصد تغییر شاخص قیمت مصرف‌کننده، چقدر است؟
ب) کدام عامل، می‌تواند سبب کاهش شاخص CPI شود؟

- ۱) ۲۵ - خرید اوراق مشارکت
۲) ۲۵ - افزایش ظرفیت‌های تولیدی
۳) ۲۰ - افزایش میزان عرضه کالا
۴) ۲۰ - فروش اوراق مشارکت

کنکورهای خارج از کشور - سراسری - انسانی

۱۱۳ بانک مرکزی هنگام تورم، از کدام ابزار پولی استفاده می‌کند؟

- ۱) افزایش نقدینگی
۲) تسهیل استفاده بیشتر از چک پول
۳) افزایش سپرده‌های دیداری
۴) محدود کردن افتتاح حساب‌های پس‌انداز کوتاه‌مدت

کنکورهای خارج از کشور - سراسری - انسانی

۱۱۴ جدول زیر، شاخص قیمت‌ها را در سه کشور الف، ب و ج نشان می‌دهد. اگر درصد تغییر (CPI) برای هر سه کشور یکسان باشد، پاسخ پرسش‌های زیر، به ترتیب (از راست به چپ)، کدام است؟

کشور	شاخص قیمت‌ها انتهای سال	شاخص قیمت‌ها ابتدای سال
الف	؟	۷۶,۸۰۰
ب	۶۶۱,۲۰۰	۵۷۰,۰۰۰
ج	۳۶۳,۰۴۰	؟

- ۱) ۸۹,۰۸۸ - ۳۱۲,۹۶۵ / ۵
۲) ۸۹,۸۵۸ - ۳۱۲,۵۰۰
۳) ۹۰,۲۵۴ - ۳۱۲,۹۶۵ / ۵
۴) ۹۲,۰۰۰ - ۳۱۲,۵۰۰

سراسری - انسانی - تیرماه ۱۴۰۳

۱۱۵ کدام‌یک از ویژگی‌های پول، برای «بیت‌کوین» باید اتفاق بیفتد تا به عنوان پول رایج شناخته شود؟

- ۱) به راحتی در دسترس همه افراد جامعه باشد.
۲) دارای ویژگی سنجش ارزش کالاها و خدمات باشد.
۳) مانند پول تحریری، خصوصیت اعتباری آن مورد قبول همه باشد.
۴) مانند پول کاغذی دارای پشتوانه نزد بانک مرکزی باشد.

سراسری - انسانی - تیرماه ۱۴۰۳

۱۱۶ کدام مورد، علت اصلی به وجود آمدن اسکناس توسط دولت‌ها شد؟

- ۱) قابلیت تبدیل به واحدهای کوچک‌تر را نداشت.
۲) قدرت نقد کردن رسیده‌ها کاهش یافته بود.
۳) دولت‌ها هم بتوانند از اسکناس‌ها در مبادلات خود استفاده کنند.
۴) شناسایی و اعتبارسنجی رسیده‌های صرافان توسط مردم سخت شده بود.

سراسری - انسانی - ۱۴۰۳ اردیبهشت

۱۱۷) کدام مورد درباره «رابطه تورم و نقدینگی» درست است؟

- ۱) تورم، همان افزایش نقدینگی است به شرطی که با افزایش تولید هماهنگ باشد.
- ۲) دولت جهت کاهش نرخ تورم، از سیاست افزایش حجم پول در گردش استفاده می‌کند.
- ۳) با افزایش نقدینگی، توانایی سرمایه‌گذاران افزایش می‌یابد در نتیجه با افزایش تولید، تورم مهار می‌شود.
- ۴) هنگام کمبود عرضه، افزایش نقدینگی، توانایی پرداخت برای قیمت‌های بالاتر را در تقاضاکنندگان افزایش می‌دهد.

کنکورهای خارج از کشور - سراسری - انسانی

۱۱۸) در جدول مقابل، قیمت‌های مربوط به سه کالای مختلف در یک سال معین ارائه شده است. در صورتی که نرخ تورم در این دو سال یکسان باشد، قیمت کالای B در انتهای سال و کالای C در ابتدای سال به ترتیب چند ریال است؟

قیمت کالا	ابتدای سال (به ریال)	انتهای سال (به ریال)
A	۱۵۳/۶۰۰	۱۹۲/۰۰۰
B	۷۴۰/۰۰۰	؟
C	؟	۷۲۶/۲۵۰

- ۱) ۵۸۱,۰۰۰, ۹۷۵,۰۰۰ ۲) ۶۲۵,۰۰۰, ۹۷۵,۰۰۰ ۳) ۵۸۱,۰۰۰, ۹۲۵,۰۰۰ ۴) ۶۲۵,۰۰۰, ۹۲۵,۰۰۰

کنکورهای خارج از کشور - سراسری - انسانی

۱۱۹) پاسخ درست هریک از پرسش‌های زیر به ترتیب کدام است؟
 - مبادلات با کالاهای بادوام و قابل تقسیم به تکه‌های کوچک، جایگزین کدام وسیله مبادله گردید؟
 - استفاده از کدام مورد در مبادلات، سبب رونق دریاوردی گردید؟
 - کدام اصطلاح برای چک استفاده می‌شود؟
 - پشتوانه نخستین اسکناس‌ها چه بود؟

- ۱) تهاتری - کالای بادوام - تحریری - طلا و نقره نزد صرافان
- ۲) پایاپای - کالای بادوام - ثبتی - رسید کاغذی نزد صرافان
- ۳) پایاپای - طلا و نقره - تحریری - رسید کاغذی نزد صرافان
- ۴) تهاتری - طلا و نقره - ثبتی - طلا و نقره نزد صرافان

کنکورهای خارج از کشور - سراسری - انسانی

۱۲۰) کدام مورد، دربردارنده پاسخ درست برای پرسش‌های زیر است؟
 - کدام روش را کشورها برای کنترل تورم و تنظیم نقدینگی در گردش به کار می‌گیرند؟
 - در حالت رکود اقتصادی کدام سیاست اعمال می‌شود؟
 - کدام‌یک از سیاست‌های پولی برای مدیریت حجم نقدینگی و حفظ ارزش پول اعمال می‌شود؟

- ۱) افزایش تعرفه‌های گمرکی بر واردات - فروش اوراق مشارکت - سیاست مالی انقباضی
- ۲) افزایش تعرفه‌های گمرکی بر واردات - خرید اوراق مشارکت - سیاست مالی انبساطی
- ۳) سیاست بازار باز - خرید اوراق مشارکت - سیاست پولی انقباضی
- ۴) سیاست بازار باز - فروش اوراق مشارکت - سیاست پولی انبساطی

سراسری - انسانی - ۱۴۰۲ - تیرماه

۱۲۱) کدامیک از پول‌های زیر، خصوصیتی اعتباری دارند؟

- ۱) تهاتری - ثبتی - الکترونیکی
 ۲) فلزی - تحریری - اسکناس
 ۳) کاغذی - تحریری - الکترونیکی
 ۴) تهاتری - ثبتی - اسکناس

سراسری-انسانی-۱۴۰۲ تیرماه

۱۲۲) نقش اصلی پول در مبادلات چیست و با افزایش سطح عمومی قیمت‌ها، کدام وظیفه پول به درستی تحقق نمی‌یابد؟

- ۱) وظیفه سنجش ارزش - وسیله پرداخت آتی
 ۲) وظیفه سنجش ارزش - وسیله پرداخت در مبادله
 ۳) وظیفه تسهیل مبادلات - وسیله پرداخت در مبادلات
 ۴) وظیفه تسهیل مبادله - وظیفه پس‌انداز و حفظ ارزش پول

سراسری-انسانی-۱۴۰۲ تیرماه

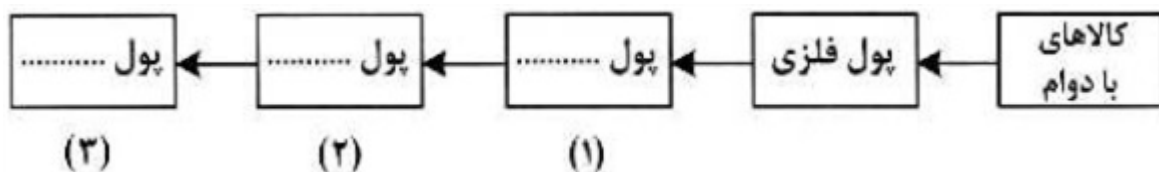
۱۲۳) با توجه به اطلاعات ارائه شده پیرامون سطح عمومی قیمت‌ها در یک سال مشخص برای سه کشور A، B و C، سطح عمومی قیمت‌ها در انتهای سال برای کشور A و ابتدای سال برای کشور B، به ترتیب چند واحد پولی است؟

کشور	قیمت	ابتدای سال (واحد پولی)	انتهای سال (واحد پولی)	نرخ تورم (درصد)
A	۴۰۰	؟	$\frac{1}{2}C$	
B	؟	۴۴۸	سه برابر A	
C	۲۰۰	۲۸۰	۴۰	

- ۱) ۲۸۰، ۴۸۰ ۲) ۳۲۵، ۴۸۰ ۳) ۲۸۰، ۵۲۰ ۴) ۳۲۵، ۵۲۰

سراسری-انسانی-دی ۱۴۰۱

۱۲۴) با توجه به سرگذشت پول، کدام مورد مسیر تکاملی پول را به درستی تکمیل می‌کند؟



- ۱) تحریری - ثبتی - دیجیتالی
 ۲) اسکناس - تحریری - ثبتی
 ۳) تحریری - الکترونیکی - بیت کوین
 ۴) کاغذی - تحریری - الکترونیکی

سراسری-انسانی-دی ۱۴۰۱

- ۱۲۵ با توجه به اطلاعات زیر که مربوط به یک جامعه است. پاسخ پرسش‌های زیر، به ترتیب کدام است؟
- میزان حجم کل پول موجود یا نقدینگی این جامعه، چقدر است؟
 - میزان حجم شبه پول آن، چقدر است؟
 - میزان سپرده پس انداز این جامعه، کدام است؟

۱۴۵۰ واحد	
۲۲۰۰ واحد	ارزش پولی و اسکناس‌ها
۱۵۰۰ واحد	
۳۵۰ واحد	
۴۸۰ واحد	

۶۷۰ - ۲۶۰۰ - ۵۲۲۰ (۲)

۷۶۰ - ۲۰۶۰ - ۵۲۲۰ (۱)

۷۶۰ - ۲۶۰۰ - ۲۶۲۰ (۴)

۶۷۰ - ۲۰۶۰ - ۲۶۲۰ (۳)

کنکورهای خارج از کشور - سراسری - انسانی

- ۱۲۶ جدول مقابل، قیمت سه نوع کالای مختلف را طی یک سال نشان می‌دهد. اگر درصد تورم در قیمت این کالاها برابر باشد، «قیمت کالای A در ابتدای سال» و «قیمت کالای C در انتهای سال» چند ریال است؟

کالا	قیمت (ریال)	
		ابتدای سال / انتهای سال
A	؟	۹۶۰۰۰
B	۳۷۰۰۰۰	۴۶۲۵۰۰
C	۲۹۰۵۰۰	؟

۲۱۷۸۷۵ - ۷۶۸۰۰ (۴)

۳۶۳۱۲۵ - ۷۶۸۰۰ (۳)

۲۱۷۸۷۵ - ۲۴۰۰۰ (۲)

۳۶۳۱۲۵ - ۲۴۰۰۰ (۱)

کنکورهای خارج از کشور - سراسری - انسانی

پاسخ پرسش‌های زیر، به ترتیب کدام است؟ ۱۲۷

- به کدام دلیل، واردات کالاهای خارجی به مصرف‌کنندگان امکان می‌دهد که از کالاهای گوناگون و ارزان استفاده کنند؟
- مؤسسات و بانک‌های ادوار گذشته با چاپ رسید (پول کاغذی)، کدام قدرت را پیدا کردند؟
- دولت، شهرداری‌ها و شرکت‌های دولتی و خصوصی به منظور تأمین اعتبار طرح‌های توسعه‌ای و عمرانی در کشور، کدام اوراق را منتشر می‌کنند؟

۱) برخی تولیدکنندگان منافع خود را بر منافع ملی و اجتماعی ترجیح می‌دهند - خلق اعتبار - مشارکت

۲) برخی تولیدکنندگان منافع خود را بر منافع ملی و اجتماعی ترجیح می‌دهند - اعطای وام و تأمین اعتبار - قرضه عمومی

۳) کالاهای خارجی در صورتی وارد کشور می‌شوند که از کالاهای مشابه داخلی ارزان‌تر و مرغوب‌تر باشند یا مشابه آن‌ها در داخل تولید نشود - خلق اعتبار - مشارکت

۴) کالاهای خارجی در صورتی وارد کشور می‌شوند که از کالاهای مشابه داخلی ارزان‌تر و مرغوب‌تر باشند یا مشابه آن‌ها در داخل تولید نشود - اعطای وام و تأمین اعتبار - قرضه عمومی

کنکورهای خارج از کشور - سراسری - انسانی

کدام گزینه، مشتمل بر پاسخ درست و کامل سؤالات زیر است؟ ۱۲۸

- الف) کدام عامل از جمله عوامل مؤثر در استفاده از پول‌های صندوق مؤسسات مالی در قرون ۱۶ و ۱۷ م. توسط صاحبان آن‌ها نیوده است؟
- ب) در صورتی که درآمد حاصل از سایر منابع و استقراض، تکافوی هزینه‌های دولت را ننماید:
- ج) اگر کشوری با افزایش حجم پول روبه‌رو باشد، زمینه برای یکی از مشکلات اقتصادی که همانا «.....» است، در آن کشور افزایش می‌یابد.

۱) الف) راکد ماندن مقدار زیادی از موجودی صندوق ب) بانک مرکزی، نرخ تنزیل مجدد را افزایش می‌دهد. ج) بیکاری

۲) الف) عدم اخذ سپرده به طور کامل توسط مشتریان ب) بانک مرکزی نرخ سپرده‌های قانونی را کاهش می‌دهد. ج) رکود

۳) الف) امکان دریافت کل سپرده‌ها توسط مشتریان و خطر عدم استفاده از آن ب) بنا به درخواست دولت، بانک مرکزی مبادرت به انتشار اسکناس می‌کند. ج) تورم

۴) الف) اخذ سپرده توسط پاره‌ای از مشتریان در مقابل سپرده‌گذاری مجدد ب) طبق قانون، مجلس شورای اسلامی بانک مرکزی را وادار به اعمال سیاست بازار باز می‌کند. ج) بحران

کنکورهای خارج از کشور - سراسری - انسانی

- ۱۲۹) کدام گزینه، در بردارنده‌ی پاسخ درست و کامل پرسش‌های زیر است؟
- (الف) کدام دو وظیفه از وظایف پول در ارتباط نزدیک با هم قرار دارند؟
- (ب) دو شاخص: G.N.P و G.D.P در تعریف با هم تفاوت دارند اما در عمل، جزء در مورد برخی کشورها که نیروی کار و سرمایه‌های زیادی از آن‌ها در خارج از مرزهایشان کار می‌کنند. مثل: «.....» که «.....» آن بیش‌تر از «.....» است یا در کشور خود حضور چشم‌گیری از تولیدکنندگان چندملیتی دارند. مثل «.....» تفاوت فاحشی با هم ندارند و بنابراین در کشورهایی مثل «.....» به جای یک‌دیگر به کار می‌روند.
- (ج) با اجرای صحیح سیاست مبارزه و مقابله با تحریم اقتصادی کدام‌یک از مؤلفه‌های اقتصاد مقاومتی تحقق می‌یابد؟

(د) در کدام گزینه، جزء اول و چهارم از جمله‌ی مالیات‌های غیرمستقیم است؟

- ۱) الف) وسیله‌ی سنجش ارزش - وسیله‌ی پرداخت در مبادلات (ب) هنگ‌کنگ - تولید داخلی - تولید ملی - عراق - ایران (ج) توزیع عادلانه‌ی ثروت و درآمد (د) بر دارائی و ثروت - عوارض - بر فروش - بر درآمد
- ۲) الف) وسیله‌ی سنجش ارزش - وسیله‌ی پرداخت در آینده (ب) هنگ‌کنگ - تولید ملی - تولید داخلی - لبنان - عراق (ج) مقاوم‌سازی در برابر فشارها و تهدیدات (د) بر درآمد - بر فروش - حقوق و عوارض گمرکی - بر دارائی و ثروت
- ۳) الف) وسیله‌ی پس‌انداز و حفظ ارزش - وسیله‌ی پرداخت در مبادلات (ب) لبنان - تولید داخلی - تولید ملی - عراق - ایران (ج) برون‌گرایی و گسترش ارتباطات (د) بر نقل و انتقال - حقوق و عوارض گمرکی - بر درآمد - بر دارائی و ثروت
- ۴) الف) وسیله‌ی پس‌انداز و حفظ ارزش - وسیله‌ی پرداخت در آینده (ب) لبنان - تولید ملی - تولید داخلی - هنگ‌کنگ - ایران (ج) اقتصاد درون‌زا (د) بر نقل و انتقال دارائی - بر درآمد - بر دارائی و ثروت - حقوق و عوارض گمرکی

کنکورهای خارج از کشور - سراسری - انسانی

سوال ۸

درس دهم : مقاوم سازی اقتصاد

- ۱۳۰) کدام مورد اصطلاح مناسب برای عبارت زیر است؟
- «مجموع نیروهای مولد، شرکت‌ها، مؤسسات تولیدی و خدماتی یک کشور، که روی پای خود بایستند تا بتوانند در صورت به وجود آمدن بحران، تمامی نیازهای اساسی و حیاتی‌شان را خودشان تولید و تأمین کنند و وابسته به بیگانگان نباشند.»
- ۱) عدالت اقتصادی ۲) مقاوم‌سازی اقتصادی ۳) قدرت اقتصادی دولت ۴) نوسازی اقتصادی

کنکورهای خارج از کشور - سراسری - انسانی

- ۱۳۱) با توجه به مسیر تاریخی اقتصاد ایران، کدام مورد درست است؟
- (الف) وقف‌نامه‌های باقیمانده از زنان مسلمان ایرانی (دوره‌ی پایانی حکومت صفویه)
- (ب) کاروان‌سراها و فعالیت‌های خیریه‌ها (دوران شکوفایی تمدن اسلامی)
- (ج) تجهیز ناوگان دولت‌های اروپایی (دوره‌ی پایانی حکومت صفویه)
- (د) تأمین هزینه‌های گزاف درباره و سفرهای خارجی (دوره قاجار)
- (ه) پدید آمدن نظام نوین در مالیات‌ستانی و بودجه‌بندی کشور (دوره‌ی پهلوی)
- ۱) الف - ب - د ۲) الف - ج - ه ۳) ب - ج - د ۴) ج - د - ه

سراسری - انسانی - ۱۴۰۴ تیرماه

- ۱۳۲) کدام مورد از دلایل اهمیت و بزرگی اقتصاد ایران در دوران باستان نیست؟
- ۱) تجارت با چین ۲) جاده ابریشم
- ۳) لشکرکشی‌ها و جنگ‌ها ۴) صادرات محصولات کشاورزی به عثمانی

سراسری - انسانی - اردیبهشت ۱۴۰۴

۱۳۳ به موجب فعالیت تعدادی از دانشمندان ایرانی، بذر صیفی‌جات متناسب با کویر و آب‌های شور تولید و به بازارهای بین‌المللی صادر شده است. کدام مورد اثر فعالیت آنها را بر استحکام اقتصادی کشور بیان می‌کند؟

- ۱) مقابله با تحریم‌های مالی
۲) خلق مزیت اقتصادی
۳) تأمین کالاهای راهبردی
۴) رشد اقتصادی و کاهش فقر

کنکورهای خارج از کشور - سراسری - انسانی

۱۳۴ هریک از موارد زیر، به ترتیب مربوط به کدام بخش از تاریخ معاصر ایران است؟
- بهبود خدمات پستی و انتقال وجوه بین شهرها
- اقتصاد یکپارچه و مستقل هماهنگ با لایه‌های دینی و اجتماعی و فرهنگی کشور
- نظام نوین در مالیات‌ستانی
- تأسیس شرکت اسلامی

- ۱) قاجار - حکومت صفویه - پهلوی - قاجار
۲) پهلوی - قاجار - نیمه دوم حکومت صفویه - قاجار
۳) قاجار - حکومت صفویه - پهلوی - دوران شکوفایی تمدن اسلامی
۴) پهلوی - قاجار - نیمه دوم حکومت صفویه - دوران شکوفایی تمدن اسلامی

سراسری - انسانی - ۱۴۰۲ - تیرماه

۱۳۵ جهت مقاوم‌سازی اقتصاد کشوری که با مشکلات «تورم»، «فقر» و «تحریم» روبه‌رو است، به‌ترتیب چه راهکارهایی مناسب است؟

- ۱) سیاست پولی انبساطی - بهبود فضای کسب‌وکار - خودکفایی
۲) سیاست پولی انقباضی - بهبود توزیع درآمد - تنوع شرکای تجاری
۳) سیاست پولی انبساطی - سیاست افزایش نقدینگی - خلق مزیت اقتصادی
۴) سیاست پولی انقباضی - کاهش وابستگی به اقتصاد تک‌محصولی - خلق مزیت اقتصادی

سراسری - انسانی - دی ۱۴۰۱

۱۳۶

پاسخ درست و کامل سؤالات زیر در کدام گزینه، مطرح شده است؟

الف) مطلب زیر مربوط به کدام مورد است؟

«در تحکیم بنیان‌های اقتصادی اصل، رفع نیازهای انسان در جریان رشد و تکامل اوست نه هم‌چون دیگر نظام‌های اقتصادی، تمرکز و تکاثر ثروت و سودجویی، زیرا در مکاتب مادی، اقتصاد عامل تخریب و فساد و تباهی می‌شود در اسلام است و از آن جزء کارآیی بهتر در راه وصول به مقصد و منظور مطلوب انتظار دیگری نمی‌توان داشت.»

ب) بانک مستقر در جده بوده و بانک محسوب می‌شود.

ج) مطلب زیر مربوط به کدام مورد است؟

«هر کشوری در پی جذب سرمایه‌گذاری خارجی برای کشور خود است. تا بدین ترتیب نه تنها پس‌اندازهای داخلی بلکه پس‌اندازهای کشورهای دیگر را نیز در جهت رشد و افزایش کارخانه‌ها و بخش‌های تولید داخل به کار گیرد.»

د) علاوه بر خرید حضوری روش دیگر برای سرمایه‌گذاری در بورس، کدام است؟

۱) الف) اصل ۴۴ قانون اساسی - اقتصاد وسیله است نه هدف ب) توسعه‌ی اسلامی - وابسته به سازمان ممالک اسلامی حوزه‌ی خلیج فارس - تعاونی اسلامی ج) جابه‌جایی عوامل تولید - سرمایه‌گذاری‌های استعماری در ممالک جهان سوم د) اشخاص می‌توانند از طریق اینترنت به خرید سهام در بورس، اقدام کرده و تأیید عضویت خود را از سامانه‌ی معاملاتی بورس تقاضا نمایند.

۲) الف) مقدمه‌ی قانون اساسی - اقتصاد وسیله است نه هدف ب) توسعه‌ی اسلامی - وابسته به سازمان کنفرانس اسلامی - توسعه‌ی ج) مبادلات بین‌المللی در بازارهای نیروی کار و سرمایه - حرکت سرمایه د) اشخاص می‌توانند از طریق اینترنت نیز خرید اقدام کنند و پس از عملیات، نمونه‌ی چاپی آن را به عنوان رسید دریافت نمایند.

۳) الف) مقدمه‌ی قانون اساسی - اقتصاد هدف است، نه وسیله ب) توسعه‌ی تعاونی جهان اسلام - وابسته به سازمان ممالک اسلامی حوزه‌ی خلیج فارس - توسعه‌ی ج) مبادلات بین‌المللی در بازارهای نیروی کار و سرمایه - صادره‌ی سرمایه‌های خارجی د) با ثبت نام در اینترنت تأیید عضویت خود را از سامانه‌ی معاملاتی بورس، درخواست نمایند.

۴) الف) اصل ۴۳ قانون اساسی - اقتصاد هدف است، نه وسیله ب) توسعه‌ی تعاونی جهان اسلام - وابسته به سازمان کنفرانس اسلامی - تعاونی اسلامی ج) جابه‌جایی عوامل تولید - فرار سرمایه‌ها به خارج د) از طریق اینترنت ثبت نام کرده و رسید واریز مبلغ سرمایه‌گذاری را به کارگزاری مربوطه ارسال نمایند.

- ۱۳۷) کدام گزینه، متضمن پاسخ درست و کامل پرسش‌های زیر است؟
- الف) کدام مورد، در رابطه با استقلال اقتصادی درست است؟
- ب) کدام مورد، مربوط به نقش دولت در اقتصاد امروز جامعه است؟
- ج) چون بدون داشتن نیروهای متخصص و متعهد، انجام سرمایه‌گذاری‌ها و کسب استقلال اقتصادی میسر نیست، بنابراین:
- د) گسترش فعالیت‌های اقتصادی بخش خصوصی در کشورهای در حال توسعه، وظیفه‌ی مهم کدام سازمان بین‌المللی است؟

- ۱) الف) وابستگی هر کشور به کشور دیگر به معنای وابستگی اقتصادی است. ب) جمع‌آوری مالیات برای تأمین هزینه‌های مربوط به فعالیت‌های اجتماعی و دفاعی (ج) باید به دیر بازدهی رسیدن این سرمایه‌گذاری‌ها و زمان طولانی آنرا تحمل نمود. د) سازمان تجارت جهانی
- ۲) الف) عدم وابستگی اقتصادی را نمی‌توان معادل استقلال اقتصادی دانست. ب) مقابله با تورم، حفظ ثبات اقتصادی، هدایت جامعه در مسیر رشد و توسعه اقتصادی و ایجاد اشتغال کامل (ج) به نظر می‌رسد که مهم‌ترین سرمایه‌گذاری‌های دولت سرمایه‌گذاری اجتماعی است. د) مؤسسه‌ی مالی بین‌المللی
- ۳) الف) استقلال اقتصادی همانند استقلال سیاسی به معنای عدم وابستگی اقتصادی است. ب) حفظ نظم و امنیت و مدافع ملت در مقابل دشمنان داخلی و خارجی (ج) باید درآمدهای حاصل از منابع اقتصادی و طبیعی را برای تولید کالاهای سرمایه‌ای و کالاهای تکمیلی مصرف نمود. د) بانک بین‌المللی توسعه و ترمیم.
- ۴) الف) وابستگی اقتصادی به معنای عدم استقلال اقتصادی است. ب) پرداخت حقوق کارکنان کشوری و لشکری و سایر هزینه‌های جاری دولت، به علاوه اعمال اقدامات خاص در مواقع قحطی و گرانی (ج) بهره‌برداری مطلوب از فعالیت‌های اقتصادی که مستلزم پرداختن به سرمایه‌گذاری‌های زیربنایی است، ضروری می‌باشد. د) سازمان بین‌المللی توسعه

کنکورهای خارج از کشور - سراسری - انسانی

۴۴ سوال

درس یازدهم : رشد و پیشرفت اقتصادی

- ۱۳۸) کدام عبارت در رابطه با مفهوم تولید ناخالص داخلی (GDP) درست است؟

- ۱) مجموع ارزش پولی کالاهای و خدمات نهایی که در یک کشور در طول یک دوره‌ی زمانی مشخص تولید شده است.
- ۲) مجموع انواع کالایی است که در طول یک سال توسط مردم یک کشور ایجاد شده است.
- ۳) ارزش پولی همه کالاها و خدماتی است که در یک کشور تولید و عرضه شده است.
- ۴) مجموع درآمدهایی است که مردم یک کشور در یک سال کسب کرده‌اند.

کنکورهای خارج از کشور - سراسری - انسانی

- ۱۳۹) کدام مورد درباره‌ی «رابطه‌ی مفهوم کارایی و رشد اقتصادی» نادرست است؟

- ۱) کشوری که به دنبال رشد اقتصادی است باید بالاتر از مرز امکانات تولید حرکت کند.
- ۲) کشوری دارای رشد اقتصادی است که از منابع خود به شکل «کارا» استفاده می‌کند.
- ۳) اقتصاد دانش‌بنیان با خلق مزیت اقتصادی ظرفیت تولید را افزایش می‌دهد.
- ۴) به منظور رشد اقتصادی، باید ظرفیت‌های تولید افزایش یابد.

سراسری - انسانی - ۱۴۰۴ تیرماه

۱۴۰ با توجه به جدول مقابل، به ترتیب، «تولید ناخالص داخلی واقعی» و «تولید ناخالص داخلی اسمی» در سال ۱۳۹۹ کدام است؟ (واحد قیمت‌ها میلیارد ریال است و سال ۱۳۹۸ به عنوان سال پایه در نظر گرفته شده است.)

سال ۱۳۹۹		سال ۱۳۹۸		
مقدار	قیمت	مقدار	قیمت	کالا
۲۰۰	۷۰۰	۴۰۰	۵۰۰	A
۷۰۰	۱۶۰۰	۳۰۰	۱۲۰۰	B

- ۱) ۱,۲۶۰,۰۰۰ و ۸۶۰,۰۰۰ ۲) ۹۴۰,۰۰۰ و ۱,۲۶۰,۰۰۰ ۳) ۱,۱۴۰,۰۰۰ و ۱,۱۶۰,۰۰۰ ۴) ۱,۰۶۰,۰۰۰ و ۱,۱۶۰,۰۰۰

سراسری-انسانی-اردیبهشت ۱۴۰۴

۱۴۱ مؤلفه‌های «دهک - HDI - CPI»، به ترتیب، کدامیک از موضوعات اقتصادی را اندازه‌گیری می‌کنند؟

- ۱) توزیع درآمد - توسعه انسانی - شاخص قیمت مصرف‌کننده
 ۲) توسعه انسانی - رشد اقتصادی - شاخص قیمت مصرف‌کننده
 ۳) توسعه انسانی - نرخ رشد قیمت - رشد اقتصادی
 ۴) توزیع درآمد - توسعه انسانی - رشد اقتصادی

سراسری-انسانی-اردیبهشت ۱۴۰۴

۱۴۲ هرگاه اقتصاددانان، برای به دست آوردن شاخص دهک در محاسبه درآمد مردم، دچار مشکل شوند، چه معیاری را جایگزین آن می‌کنند؟

- ۱) معیار مجموع «هزینه و پس‌انداز» خانوارها جایگزین مناسب‌تری است.
 ۲) معیار شاخص توسعه انسانی جایگزین بهتری است.
 ۳) هزینه خانوارها، چون نماینده درآمد خانوارها است.
 ۴) از معیار خط فقر استفاده می‌کنند.

کنکورهای خارج از کشور-سراسری-انسانی

۱۴۳ جدول زیر، ارقام تولید پوشاک و مواد غذایی در سال‌های ۱۳۹۵، ۱۳۹۶ و ۱۳۹۷ (با احتساب سال ۱۳۹۵ به عنوان سال پایه) را نشان می‌دهد. رشد GDP واقعی برای سال‌های ۱۳۹۶ و ۱۳۹۷ چند درصد است؟

سال	مواد غذایی		پوشاک	
	قیمت (میلیون)	مقدار (تن)	قیمت (میلیون)	مقدار (تن)
۱۳۹۵	۱۰۰	۵۰۰	۵۰	۱۶
۱۳۹۶	۲۰۰	۶۰۰	۱۰۰	۲۰
۱۳۹۷	۳۰۰	۷۰۰	۲۰۰	۲۵

سال	واقعی
۹۶	۱۸/۲
۹۷	۱۹

۴

سال	واقعی
۹۶	۲۰
۹۷	۱۶/۸

۳

سال	واقعی
۹۶	۱۸/۲
۹۷	۲۰

۲

سال	واقعی
۹۶	۲۰
۹۷	۱۷/۶

۱

سراسری-انسانی-۱۴۰۳ اردیبهشت

۱۴۴ گاهی اقتصاددانان برای محاسبهٔ دهک‌های درآمدی، به جای به دست آوردن اختلاف درآمدی، کدام مورد را محاسبه می‌کنند؟

- ۱ اختلاف هزینه‌ای
 ۲ خط فقر
 ۳ یکی از معیارهای توسعهٔ انسانی
 ۴ مجموع «هزینه و پس‌انداز» خانوارها

سراسری-انسانی-تیرماه ۱۴۰۳

۱۴۵ کدام عبارت بیان مناسبی در رابطه با جدول مقابل است؟

کشور ب		کشور الف		
دهک اول	دهک دوم	دهک اول	دهک دوم	
۲۰	۴	۲۲	۲	۱۴۰۰
۱۹	۵	۲۱	۳	۱۴۰۱
۱۸	۶	۲۰	۴	۱۴۰۲

- ۱ توزیع درآمد در هر دو کشور بهبود یافته است.
 ۲ در کشور ب توزیع درآمد ناعادلانه‌تر از کشور الف است.
 ۳ در کشور الف در سال ۱۴۰۱ توزیع درآمد عادلانه‌تر از کشور ب است.
 ۴ در کشور ب در سال ۱۴۰۲ توزیع درآمد ناعادلانه‌تر از کشور الف است.

سراسری-انسانی-۱۴۰۳ اردیبهشت

۱۴۶ بخشی از جدول شاخص دهک در دو کشور الف و ب مطابق مقابل در نظر گرفته شده است. کدام مورد درست است؟

سال	کشور الف		کشور ب	
	سهم دهک اول	سهم دهک دوم	سهم دهک اول	سهم دهک دوم
۱۳۷۰	۳	۲۱	۵	۱۸
۱۳۸۰	۴	۲۰	۶	۱۵
۱۴۰۰	۴	۱۹	۷	۱۶

- ۱ توزیع درآمد در هر دو کشور بهبود یافته است.
 ۲ توزیع درآمد در کشور الف، عادلانه‌تر از کشور ب است.
 ۳ توزیع درآمد در کشور ب، ناعادلانه‌تر از کشور الف است.
 ۴ توزیع درآمد در کشور الف، عادلانه و در کشور ب ناعادلانه است.

کنکورهای خارج از کشور-سراسری-انسانی

- ۱۴۷ در عبارتهای زیر، به چند ویژگی کشورهای پیشرفته اشاره شده است؟
- علاقه‌مندی به کسب درآمد و روحیه فردی برای تلاش اقتصادی در این کشورها برجسته است.
 - از سطح سواد و بهداشت عمومی بالایی برخوردارند.
 - در برابر شوک‌های اقتصادی، قدرت مقاومت دارند.
 - درآمدها به صورت عادلانه‌تری توزیع شده است.
 - قیمت‌ها از ثبات کامل برخوردار است.
 - در سطح منطقه و جهان تأثیرگذارند.
 - این کشورها فاقد بیکاری می‌باشند.

سه (۴)

چهار (۳)

پنج (۲)

شش (۱)

کنکورهای خارج از کشور - سراسری - انسانی

- ۱۴۸ با توجه به اطلاعات وضعیت توزیع درآمد برای کشورهای A، B و C در جدول زیر، پاسخ پرسش‌های زیر کدام است؟

کشور	سهم دهک اول	سهم دهک ششم	سهم دهک دهم
A	۴	۹	۲۸
B	۵	۸	۴ برابر دهک ششم
C	۱۰ درصد دهک دهم	۹	۳۰

- الف) توزیع درآمد در کدام کشور مناسب‌تر است؟
 ب) کدام گروه، کمترین درصد درآمد ملی را دارد؟
 ج) توزیع درآمد در کدام جامعه، نامناسب‌تر است؟

دهک اول کشور C - B (۲)

دهک اول کشور A - C (۱)

دهک اول کشور A - B (۴)

دهک اول کشور B - A (۳)

سراسری - انسانی - ۱۴۰۲ - تیرماه

- ۱۴۹ در جدول مقابل اطلاعات کشوری برای ۴ سال متوالی ارائه شده است. پاسخ پرسش‌های الف و ب کدام است؟

- الف: توزیع درآمد آن کشور در چه سالی نامناسب‌تر است؟
 ب: در آن جامعه در کدام سال توزیع درآمد عادلانه‌تر است؟

سال	دهک دهم	دهک اول
۱۳۸۶	۲۰	۴
۱۳۸۷	۲۷/۵	۵
۱۳۸۸	۳۲	۸
۱۳۸۹	۲۱	۶

۱۳۸۹، ۱۳۸۶ (۴)

۱۳۸۹، ۱۳۸۷ (۳)

۱۳۸۷، ۱۳۸۸ (۲)

۱۳۸۷، ۱۳۸۹ (۱)

سراسری - انسانی - دی - ۱۴۰۱

۱۵۰ کدام مورد به ترتیب «منشأ رشد اقتصادی» و «مؤلفه اندازه‌گیری پیشرفت اقتصادی» را ارائه می‌دهد؟

- ۱ آموزش نیروی انسانی - افزایش عرضه نیروی کار
 ۲ آموزش نیروی انسانی - میانگین سال‌های تحصیل
 ۳ سرانه درآمد ناخالص داخلی - افزایش عرضه نیروی کار
 ۴ سرانه درآمد خالص داخلی - میانگین سال‌های تحصیل

سراسری-انسانی-دی ۱۴۰۱

۱۵۱ میزان تولید کل کشوری، در سه سال متوالی به ترتیب ۱۵۰۰، ۱۷۰۰ و ۱۸۷۵ هزار میلیارد ریال بوده است. با انتخاب سال اول به عنوان سال پایه، میزان تولید کل در سه سال موردنظر برحسب قیمت‌های سال پایه به ترتیب به ۱۵۰۰، ۱۶۵۰ و ۱۷۱۰ تغییر یافته است. بر این اساس، پاسخ پرسش‌های الف، ب و ج کدام است؟

- الف- پدیده تورم در سال دوم و سوم، به ترتیب کدام است؟
 ب- افزایش مقدار تولید در سال دوم و سوم، به ترتیب کدام است؟
 ج- افزایش قیمت‌ها پدیده تورم در سال دوم و سوم، به ترتیب کدام است؟

- ۱ الف: ۵۰، ۱۶۵، ب: ۲۱۰، ۱۵۰، ج: ۱۶۵، ۵۰
 ۲ الف: ۵۰، ۱۶۵، ب: ۱۵۰، ۲۱۰، ج: ۱۶۵، ۵۰
 ۳ الف: ۱۶۵، ۵۰، ب: ۱۵۰، ۲۱۰، ج: ۱۶۵، ۵۰
 ۴ الف: ۱۶۵، ۵۰، ب: ۱۵۰، ۲۱۰، ج: ۱۶۵، ۵۰

کنکورهای خارج از کشور-سراسری-انسانی

۱۵۲ پاسخ پرسش‌های زیر، به ترتیب کدام است؟

- اثر و نتیجه کدام فعالیت‌های اقتصادی، تا حدودی جلوگیری از نوسان شدید قیمت‌ها است؟
 • کالاها و خدماتی که تولید آن‌ها بدون توجه به میزان سود، هزینه و بازار انجام می‌شود، چه نام دارند؟

- ۱ جذب و به‌کار انداختن سرمایه‌های راکد - محصولات کاربردی
 ۲ جذب و به‌کار انداختن سرمایه‌های راکد - محصولات راهبردی
 ۳ بررسی و شفاف‌سازی اطلاعات مالی شرکت‌ها و قیمت‌گذاری سهام و اوراق بهادار - محصولات کاربردی
 ۴ بررسی و شفاف‌سازی اطلاعات مالی شرکت‌ها و قیمت‌گذاری سهام و اوراق بهادار - محصولات راهبردی

کنکورهای خارج از کشور-سراسری-انسانی

۱۵۳ اطلاعات استخراج شده از حساب‌های ملی کشوری با جمعیت ۴۰ میلیون نفر، مطابق جدول زیر است.

اگر استهلاک سرمایه، $\frac{2}{7}$ ارزش افزوده بخش صنعت باشد، «تولید خالص ملی» و «تولید ناخالص ملی سرانه» به ترتیب کدام است؟

ارزش افزوده بخش خدمات	۸۴۲۵۳ میلیارد ریال
ارزش افزوده بخش کشاورزی	۵۶۹۷۰ میلیارد ریال
ارزش افزوده بخش صنعت	۲۴۰۳۷۳ میلیارد ریال
ارزش افزوده بخش ساختمان	
خالص عوامل تولید از خارج	۶۲۸۰ میلیارد ریال

- ۱ ۴۰۴۶۵۳ - ۱۱۱۶۳۲۵
 ۲ ۴۰۴۶۵۳ - ۱۱۸۳۳۲۷۵
 ۳ ۴۷۳۳۳۱ - ۱۱۸۳۳۲۷۵
 ۴ ۴۷۳۳۳۱ - ۳۱۰۶۰۶۵۰

کنکورهای خارج از کشور-سراسری-انسانی

۱۵۴ وضعیت توزیع درآمد در کشور A، مطابق جدول مقابل است. با توجه به دو فرمول نسبت ۲۰ درصد بالا به ۲۰ درصد پایین و نسبت ۱۰ درصد بالا به ۴۰ درصد پایین، پاسخ پرسش‌های الف، ب و ج کدام است؟

- الف- کدام شاخص، توزیع درآمد در این کشور را مناسب‌تر نشان می‌دهد؟
 ب- کدام شاخص، بیانگر نامناسب‌تر بودن توزیع درآمد در این کشور است؟
 ج- کدام شاخص، برای مقایسه وضعیت توزیع درآمد بین کشورهای مختلف مورد استفاده قرار می‌گیرد؟

سهم دهک اول	۳ درصد
سهم دهک دوم	۵ درصد
سهم دهک سوم	۷ درصد
سهم دهک چهارم	۹ درصد
سهم دهک پنجم	۱۸ درصد
سهم دهک ششم	۲۱ درصد

- ۱ الف: نسبت ۱۰ درصد بالا به ۴۰ درصد پایین ب: نسبت ۲۰ درصد بالا به ۲۰ درصد پایین ج: نسبت دهک اول به دهک دهم
- ۲ الف: نسبت ۲۰ درصد بالا به ۲۰ درصد پایین ب: نسبت ۱۰ درصد بالا به ۴۰ درصد پایین ج: نسبت دهک اول به دهک دهم
- ۳ الف: نسبت ۱۰ درصد بالا به ۴۰ درصد پایین ب: نسبت ۲۰ درصد بالا به ۲۰ درصد پایین ج: نسبت دهک دهم به دهک اول
- ۴ الف: نسبت ۲۰ درصد بالا به ۲۰ درصد پایین ب: نسبت ۱۰ درصد بالا به ۴۰ درصد پایین ج: نسبت دهک دهم به دهک اول

کنکورهای خارج از کشور-سراسری-انسانی

۱۵۵ با توجه به جدول مقابل، «تولید کل به قیمت جاری» و «تولید کل به قیمت ثابت» در سال ۱۳۹۵، به ترتیب کدام است؟

کالا	سال ۱۳۹۳		سال ۱۳۹۵	
	قیمت	مقدار	قیمت	مقدار
A	۲۰۰	۱۰۰	۳۰۰	۵۰
B	۴۰	۳۰۰	۱۰۰	۶۰۰

۳۴۰۰۰ - ۷۵۰۰۰ (۴)

۴۵۰۰۰ - ۷۵۰۰۰ (۳)

۳۴۰۰۰ - ۲۳۰۰۰۰ (۲)

۴۵۰۰۰ - ۲۳۰۰۰ (۱)

کنکورهای خارج از کشور-سراسری-انسانی

۱۵۶ با توجه به اطلاعات به دست آمده از چند کشور و شاخص‌های مربوط به آن‌ها، گزینه‌ی کامل‌کننده‌ی اطلاعات، به ترتیب حروف، کدام است؟

کشورها	شاخص‌ها	نرخ مرگ‌ومیر نوزادان در هر ۱۰۰۰ تولد	امید به زندگی «سال»	نرخ باسوادی بزرگسالان به درصد	تولید ناخالص داخلی سرانه به دلار PPP ثابت سال ۲۰۱۱
الف	نروژ رتبه‌ی اول	؟	۸۱/۶	حدود ۱۰۰	؟
ب	موزامبیک رتبه‌ی ؟	۶۱/۵	۵۵/۱	؟	۱۰۷۰
ج	ایران رتبه‌ی ؟	۱۴/۴	؟	۸۴/۳	۱۵۰۹۰
د	چین رتبه‌ی ؟	؟	۷۵	۹۵/۱	؟

۱ الف) ۱/۱ - ۸۲,۵۲۴ (ب) ۱۶۰ - ۴۰/۳ (ج) ۵۹ - ۷۲/۳ (د) ۸۰ - ۶/۹ - ۱۱,۵۲۵

۲ الف) ۲/۳ - ۶۲,۴۴۸ (ب) ۱۸۰ - ۵۰/۶ (ج) ۶۹ - ۷۵/۴ (د) ۹۰ - ۱۰/۹ - ۱۱,۵۲۵

۳ الف) ۱/۱ - ۸۲,۵۲۴ (ب) ۱۶۰ - ۴۰/۳ (ج) ۵۹ - ۷۲/۳ (د) ۸۰ - ۱۰/۹ - ۹,۶۲۶

۴ الف) ۲/۳ - ۶۲,۴۴۸ (ب) ۱۸۰ - ۵۰/۶ (ج) ۶۹ - ۷۵/۴ (د) ۹۰ - ۶/۹ - ۹,۶۲۶

کنکورهای خارج از کشور - سراسری - انسانی

با فرض جدول مالیاتی زیر: ۱۵۷

الف) میزان مالیات شخصی که در ماه، ۱۵ میلیارد ریال درآمد دارد، کدام است؟

ب) میزان مانده‌ی خالص ماهیانه او کدام است؟

ج) این محاسبه مربوط به کدام یک از روش‌های نرخ مالیاتی ثابت، تصاعدی کلی، تصاعدی طبقه‌ای است؟

د) در رابطه با ویژگی نوع نرخ مالیاتی در محاسبه‌ی این جدول، کدام مورد، نادرست است؟

۱	درآمدهای تا: ۱۵۰ میلیون ریال	معاف از مالیات
۲	درآمدهای تا: ۲۵۰ میلیون ریال	با نرخ: ۱۵٪ نسبت به مازاد: ۱۵۰ میلیون ریال
۳	درآمدهای تا: ۳۵۰ میلیون ریال	با نرخ: ۲۰٪ نسبت به مازاد: ۲۵۰ میلیون ریال
۴	درآمدهای تا: ۴۵۰ میلیون ریال	با نرخ: ۲۵٪ نسبت به مازاد: ۳۵۰ میلیون ریال
۵	درآمدهای تا: ۹۰۰ میلیون ریال	با نرخ: ۳۵٪ نسبت به مازاد: ۴۵۰ میلیون ریال
۶	درآمدهای بالاتر از: ۹۰۰ میلیون ریال	با نرخ: ۴۵٪ نسبت به مازاد: ۹۰۰ میلیون ریال

۱) الف) (۶,۵۶۲,۵۰۰,۰۰۰ ریال ب) (۷,۴۳۸,۵۰۰,۰۰۰ ریال ج) تصاعدی د) این نوع نرخ مالیاتی در تعدیل درآمد و ثروت افراد جامعه، مؤثر است.

۲) الف) (۶,۶۲۵,۵۰۰,۰۰۰ ریال ب) (۸,۴۳۷,۵۰۰,۰۰۰ ریال ج) ثابت د) در این نوع مالیات، افراد با درآمدهای بیش‌تر با نرخ بیش‌تر و افراد با درآمدهای پایین‌تر با نرخ کم‌تری مالیات می‌پردازند.

۳) الف) (۶,۵۶۲,۵۰۰,۰۰۰ ریال ب) (۸,۴۳۷,۵۰۰,۰۰۰ ریال ج) تصاعدی طبقه‌ای د) در این نوع مالیات، میزان مالیات پرداختی افراد، متناسب با تغییر در درآمد یا دارایی آن‌ها کم و زیاد می‌شود.

۴) الف) (۶,۶۲۵,۵۰۰,۰۰۰ ریال ب) (۷,۴۳۸,۵۰۰,۰۰۰ ریال ج) تصاعدی کلی د) در این نظام مالیاتی نرخ مالیات با افزایش درآمد با دارایی، زیاد و به عکس با کاهش درآمد یا دارایی، کم می‌شود.

کدام گزینه، متضمن پاسخ درست و کامل سؤالات زیر است؟

الف) مطلب زیر در ارتباط با کدام مورد است؟

«صاحبان زمین، بذر، تراکتور و نیروی کار، همه با هم یک واحد کشت و صنعت، را راه‌اندازی کرده و به تولید گندم می‌پردازند و عواید به دست آمده را بین هم تقسیم می‌کنند. این نوع نهاد اقتصادی، نامیده می‌شود و نمونه‌ای از آن است.»

ب) انگیزه‌ی تقاضای کالا، رفع نیاز است و تصمیم آن‌ها در مورد مصرف کالا از عواملی مانند «قیمت کالا»، «درآمد»، سلیقه خودشان و و تأثیر می‌پذیرد.

ج) نظر اقتصاددانان در رابطه با توجه یا عدم توجه به مفاهیم اقتصادی هم‌چون: «مزیت‌های مطلق و نسبی، استقلال اقتصادی، خودکفایی، عدم وابستگی و تولید و مصرف کالاهای ملی کدام است؟

د) در رابطه با محورهای کلی و ویژگی‌های اساسی نظام اقتصادی کشور، اصل مربوط به آن‌ها، کدام مورد درست است؟

۱) الف) سازمان تولید مشارکتی - شرکت تعاونی ب) مصرف‌کنندگان - تبلیغات - قیمت سایر کالاها ج) آنان موفق به ایجاد ترکیب جامعی از منافع ملی و منافع بین‌المللی شده‌اند. د) مالی دولت، پنج اصل: ۵۱ تا ۵۵

۲) الف) واحد کشت و صنعت کشاورزی - شرکت تعاونی ب) تولیدکنندگان - تبلیغات - قیمت سایر کالاها ج) آنان معتقدند این اصطلاحات در ارتباط منطقی و درست با هم نیستند. د) منابع مالی حکومت برای ایفای وظایف خود، پنج اصل: ۴۱ تا ۴۵

۳) الف) سازمان تولید زراعی - شرکت سهامی ب) مصرف‌کنندگان - پیش‌بینی در مورد رونق و رکود بازار - قیمت سایر کالاها ج) اقتصاددانان بر این باورند که استقلال اقتصادی در دنیای امروز کاملاً بی‌معناست. د) اصول مالی دولت، پنج اصل: ۴۱ تا ۴۵

۴) الف) سازمان تعاون روستایی - شرکت سهامی ب) تولیدکنندگان - تثبیت قیمت کالاها - قیمت کالاهای جایگزین ج) غالب اقتصاددانان معتقدند برخلاف الگوی فرضی مطرح شده تک‌محصولی شدن در دنیای واقعی مطلوب نیست. د) منابع مالی حکومت برای ایفای وظایف خود، پنج اصل: ۵۱ تا ۵۵

۱۵۹

کدام گزینه، دربردارنده پاسخ درست و کامل پرسش‌های زیر است؟
الف) مطلب زیر مربوط به کدام مورد است؟

- «یک سبد کالایی یکسان، سالانه در ایران قیمت‌گذاری می‌شود و هم‌زمان همان سبد کالایی در کشور آمریکا، تعیین قیمت می‌شود. تقسیم این دو بر هم قدرت خرید دلار را در ایران نشان می‌دهند.»
ب) به کالاهای بادوام سرمایه‌ای، که در جریان تولید به کار گرفته می‌شود، نظیر تراکتور برای کشاورز و کامیون برای شرکت‌های حمل‌ونقل گفته می‌شود و آن‌چه که در طول زمان، خدماتشان در جریان تولید استفاده می‌شود می‌گویند و تولیدکننده با آن‌ها ایجاد می‌کند.
ج) چندین سال است، مطلبی در رابطه با «بودجه‌ی کل کشور که بی‌ارتباط با تشکیل «صندوق توسعه‌ی ملی» نیست در بودجه‌ی کل کشور لحاظ و رعایت می‌شود، محتوی و مضمون آن کدام است؟
د) گاهی به اوراقی مثل: سفته، چک، پول، برات و حوالجات در زبان مردم، «اوراق بهادار» گفته می‌شود که کارکرد آن‌ها اما در اصطلاح اقتصاددانان، آن‌ها اوراق بهادار

- ۱ الف) استفاده از دلار رفاهی یا دلار برابری خرید P.P.P ب) سرمایه‌ی فیزیکی - کالاهای سرمایه‌ای بادوام - ارزش افزوده ج) نفت خام ثروت عمومی است و صادرات و فروش آن درآمد محسوب نشده و وجوه حاصل از فروش آن و همچنین گاز طبیعی تولید شده پس از کسر هزینه‌های تولید حتماً باید به صندوق توسعه‌ی ملی واریز شود. د) تضمین تعهدات است نه تأمین مالی - تلقی نمی‌شود.
- ۲ الف) مورد استفاده قرار دادن میانگین ارزهای معتبر جهان و تبدیل تولید ملی به آن ب) سرمایه‌ی مالی - کالاهای سرمایه‌ای - سود حسابداری ج) درآمدهای حاصل از فروش ثروت‌های عمومی برای زاینده‌گی مستمر و حفظ این ثروت طبیعی هرگز نباید مورد مصرف و استفاده قرار گیرد. د) تأمین مالی است نه تضمین تعهدات - تلقی نمی‌شود.
- ۳ الف) مورد استفاده قرار دادن ارزی که ارتباط مستقیمی با نرخ دلار موجود در بازار ارز را ندارد ب) سرمایه‌ی مؤلّد - کالاهای سرمایه‌ای بادوام - سود اقتصادی ج) درآمدهای حاصل از فروش ثروت‌های عمومی باید به عنوان درآمدهای خاص دولتی به صندوق توسعه‌ی ملی واریز شود. د) تضمین تعهدات است نه تأمین مالی - تلقی نمی‌شود.
- ۴ الف) استفاده از دلاری که توسط سازمان‌های مالی بین‌المللی محاسبه و اعلام می‌شود. ب) سرمایه‌ی عمرانی - کالاهای بادوام نهایی - سود ویژه ج) نفت خام ثروت عمومی بوده و فروش آن باید از طریق صندوق توسعه‌ی ملی در جهت فقرزایی همه جانبه و فراگیر مورد مصرف قرار گیرد. د) تأمین مالی است نه تضمین تعهدات - تلقی نمی‌شود.

کنکورهای خارج از کشور - سراسری - انسانی

۱۶۰

مندرجات جدول زیر، مربوط به یک جامعه فرضی است. چنانچه مجموع ارزش اقلام: ماشین‌آلات، پوشاک و مواد غذایی ۱۳۵ میلیارد ریال باشد، در این صورت:

- الف) تولید خالص ملی
ب) تولید ناخالص داخلی
ج) تولید خالص داخلی سرانه
در این جامعه، کدام است؟

۱	جمعیت کل کشور	۵۰ میلیون نفر
۲	ارزش تولید خارجیان مقیم کشور	۱/۵ برابر هزینه‌ی استهلاک
۳	هزینه‌ی استهلاک	۱۴ میلیارد ریال
۴	ارزش خدمات ارائه شده	$\frac{1}{3}$ ارزش تولید مردم کشور که در خارج اقامت دارند.
۵	ارزش تولید مردم کشور که در خارج اقامت دارند.	۴۵ میلیارد ریال

۲ الف) ۱۱۸ ب) ۷۱۱ ج) ۴/۱۳

۱ الف) ۱۱۸ ب) ۱۷۱ ج) ۳/۱۴

۴ الف) ۱۸۱ ب) ۷۱۱ ج) ۴/۱۳

۳ الف) ۱۸۱ ب) ۱۷۱ ج) ۳/۱۴

کنکورهای خارج از کشور - سراسری - انسانی

۱۶۱ در یک جامعه‌ی فرضی یک دستگاه سرمایه‌ای به قیمت ۸۵ میلیارد ریال و عمر مفید آن ۵ سال منظور شده است. در این صورت به‌ترتیب از راست به چپ:
 الف) چنان‌چه در دو سال آخر عمر مفید این کالای سرمایه‌ای ۷ درصد افزایش قیمت داشته باشد، مجموع هزینه‌ی استهلاک دو سال آخر، چه مقدار خواهد بود؟
 ب) قیمت جدید کالای سرمایه‌ای چه قدر است؟
 ج) هر سال چه مقدار به عنوان هزینه استهلاکی باید منظور شود؟

۲ الف) ۳۶, ۳۸۰ ب) ۹۰, ۹۵۰ ج) ۱۷

۱ الف) ۳۶, ۳۸۰ ب) ۹۰, ۵۹۰ ج) ۱۷

۴ الف) ۳۸, ۳۶۰ ب) ۹۰, ۹۵۰ ج) ۱۸

۳ الف) ۳۸, ۳۶۰ ب) ۹۰, ۵۹۰ ج) ۱۸

کنکورهای خارج از کشور - سراسری - انسانی

۱۶۲ کدام گزینه مبین پاسخ درست و کامل سؤالات زیر است؟
 الف) مالیات بر «ارزش افزوده»، نوعی مالیات بر است که را از پرداخت مالیات
 ب) در ادبیات اقتصادی به کسی که حتی در صورت دسترسی به امکانات معیشتی توانایی استفاده از آن‌ها را هم ندارد چه می‌گویند؟
 ج) بهترین روش «تحریک تقاضای کل جامعه» که در مواقع رکود بتواند رونق را به بازار برگرداند چیست؟

۱ الف) فروش دومرحله‌ای - کالا و خدمات واسطه‌ای - نمی‌رهند ب) فقیر مطلق ج) کاهش مخارج جاری و عمرانی دولت و کاهش نرخ‌های مالیاتی یا پایه‌های مالیاتی

۲ الف) فروش دومرحله‌ای - کالا و خدمات سرمایه‌ای - نمی‌رهند ب) فقیر اقتصادی ج) کاهش مخارج جاری یا عمرانی دولت و افزایش نرخ‌های مالیاتی یا پایه‌های مالیاتی

۳ الف) فروش چندمرحله‌ای - کالا و خدمات سرمایه‌ای - معاف می‌کند ب) فقیر خاص ج) افزایش مخارج جاری یا عمرانی دولت و افزایش نرخ‌های مالیاتی یا پایه‌های مالیاتی

۴ الف) فروش چندمرحله‌ای - کالا و خدمات واسطه‌ای - معاف می‌کند ب) مسکین ج) افزایش مخارج جاری یا عمرانی دولت و کاهش نرخ‌های مالیاتی یا پایه‌های مالیاتی

کنکورهای خارج از کشور - سراسری - انسانی

۱۶۳ جدول اطلاعاتی زیر مربوط به شاخص‌های اقتصادی و انسانی کشورها است. گزینه‌ی کامل‌کننده اطلاعات، به ترتیب حروف، کدام است؟

ردیف	گروه کشورها	متوسط نرخ باسوادی بزرگسالان به درصد	مرگ‌ومیر نوزادان در هر ۱۰۰۰ تولد	زندگی در آغاز تولد به سال
الف	؟ کشور با توسعه‌ی انسانی ضعیف	۵۷/۱	؟	؟
ب	؟ کشور با توسعه‌ی انسانی زیاد	؟	۶	؟
ج	درآمد سرانه‌ی سالانه در کشور در حال توسعه فقیر از کم‌تر است درحالی‌که هیچ‌یک از کشور توسعه‌یافته درآمد سرانه سالیانه‌شان کم‌تر از نیست.			
د	در سال ۲۰۱۵ م. تولید ناخالص داخلی سرانه در کشور سوئیس: و در سودان بوده است.			

- ۱ الف (۴۹ - ۶۹/۲ - ۴۰/۵ ب) ۴۳ - حدود ۸۰ - ۶۰/۵ ج) ۵۰ - ۱۸۰۰ - ۲۰ کم‌تر از ۴۰,۰۰۰ دلار د) ۵۶۷/۶۰ دلار - حدود ۳۳۲ دلار
- ۲ الف (۴۹ - ۸۹/۴ - ۶۰/۵ ب) ۴۳ - نزدیک به ۱۰۰ - ۶۰/۵ ج) ۵۰ - ۱۸۰۰ - ۲۰ کم‌تر از ۶۰,۰۰۰ دلار د) ۶۷۵/۸۰ دلار - حدود ۳۳۲ دلار
- ۳ الف (۴۳ - ۶۹/۲ - ۴۰/۵ ب) ۴۹ - حدود ۸۰ - ۸۰/۵ ج) ۵۰ - ۱۶۰۰ - ۲۰ کم‌تر از ۶۰,۰۰۰ دلار د) ۵۶۷/۶۰ دلار - حدود ۲۲۱ دلار
- ۴ الف (۴۳ - ۸۹/۴ - ۶۰/۵ ب) ۴۹ - نزدیک به ۱۰۰ - ۸۰/۵ ج) ۵۰ - ۱۶۰۰ - ۲۰ کم‌تر از ۴۰,۰۰۰ دلار د) ۶۷۵/۸۰ دلار - حدود ۲۲۱ دلار

با فرض جدول مالیاتی زیر: ۱۶۴

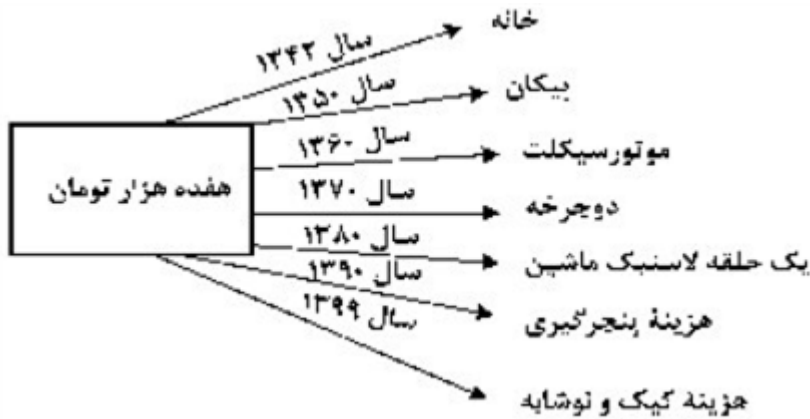
- الف) میزان مالیات سالانه تولیدکننده‌ای که در ماه ۱۵ میلیارد ریال درآمد دارد، کدام است؟
 ب) میزان مانده خالص ماهیانه او چه قدر است؟
 ج) این محاسبه مربوط به کدامیک از انواع نرخ مالیاتی: ثابت، تصاعدی کلی و تصاعدی طبقه‌ای است؟
 د) کدام مورد، در رابطه با ویژگی نوع نرخ مالیاتی مورد محاسبه نادرست است؟
 قابل توجه: ارقام به میلیون و میلیارد ریال است.

A	درآمدهای تا: ۱۵۰ میلیون ریال	معاف از مالیات
B	درآمدهای تا: ۲۵۰ میلیون ریال	با نرخ: ۱۵٪ نسبت به مازاد: ۱۵۰ میلیون ریال
C	درآمدهای تا: ۳۵۰ میلیون ریال	با نرخ: ۲۰٪ نسبت به مازاد: ۲۵۰ میلیون ریال
D	درآمدهای تا: ۴۵۰ میلیون ریال	با نرخ: ۲۵٪ نسبت به مازاد: ۳۵۰ میلیون ریال
E	درآمدهای تا: ۹۰۰ میلیون ریال	با نرخ: ۳۵٪ نسبت به مازاد: ۴۵۰ میلیون ریال
F	درآمدهای بالاتر از: ۹۰۰ میلیون ریال	با نرخ: ۴۵٪ نسبت به مازاد: ۹۰۰ میلیون ریال

- ۱) الف) (۷۸, ۷۵۰ ب) (۴۳۷, ۵۰۰ ج) ثابت د) این نوع نرخ مالیاتی در تعدیل درآمد و ثروت افراد جامعه مؤثر است.
- ۲) الف) (۸۷, ۵۷۰ ب) (۴۳۸, ۵۰۰ ج) تصاعدی د) در این نظام مالیاتی نرخ مالیات با افزایش درآمد یا دارایی زیاد و به عکس با کاهش درآمد یا دارایی کم می‌شود.
- ۳) الف) (۷۸, ۷۵۰ ب) (۴۳۷, ۵۰۰ ج) تصاعدی طبقه‌ای د) در این نوع مالیات، میزان مالیات پرداختی افراد متناسب با تغییر در درآمد یا دارایی آن‌ها کم و زیاد می‌شود.
- ۴) الف) (۸۷, ۵۷۰ ب) (۴۳۸, ۵۰۰ ج) تصاعدی کلی د) در این نوع مالیات، افراد با درآمدهای بیش‌تر با نرخ بیش‌تر و افراد با درآمدهای پایین‌تر با نرخ کم‌تری مالیات می‌پردازند.

۱۶۵ با توجه به نمودار زیر در رابطه با قدرت خرید پول:

- (الف) نتیجه‌ی کاهش قدرت خرید پول، کدام است؟
 (ب) پول در مقابل چه چیزی قدرت خرید خود را حفظ نکرده است؟
 (ج) یکی از دلایل مهم کاهش قدرت خرید پول جامعه، کدام است؟
 (د) رابطه‌ی پول با چه چیزی یک رابطه غیرمستقیم است؟
 (ه) چرا گفته می‌شود قدرت خرید پول دستخوش تغییر است؟
 (و) قدرت خرید پول جامعه وابسته به چیست؟



- ۱ الف) توژم (ب) سطح عمومی قیمت‌ها (ج) حجم زیاد پول نسبت به تولید جامعه (د) سطح عمومی قیمت‌ها (ه) چون یک واحد پول نتوانسته ارزش خود را در طول زمان حفظ کند. (و) سطح عمومی قیمت‌ها
- ۲ الف) توژم رکودی (ب) افزایش نقدینگی (ج) نابرابری عرضه و تقاضای کل جامعه (د) سطح عمومی قیمت‌ها (ه) چون ارزش پول متناسب با رونق و شکوفایی اقتصادی افزایش هماهنگ نداشته است (و) سطح عمومی قیمت‌ها
- ۳ الف) توژم رکودی (ب) سطح عمومی قیمت‌ها (ج) نابرابری عرضه و تقاضای کل جامعه (د) حجم پول در گردش (ه) چون یک واحد پول نتوانسته ارزش خود را در طول زمان حفظ کند. (و) قدرت موازنه‌ی پرداختی‌های خارجی آن است.
- ۴ الف) توژم (ب) افزایش نقدینگی (ج) حجم زیاد پول نسبت به تولید جامعه (د) حجم پول در گردش (ه) چون ارزش پول متناسب با رونق و شکوفایی اقتصادی افزایش هماهنگ نداشته است (و) قدرت موازنه‌ی پرداختی‌های خارجی آن است.

۱۶۶ پاسخ درست و کامل پرسش‌های زیر در کدام گزینه مطرح شده است؟
الف) به طور کلی سیاست‌های تثبیت اقتصادی به:

ب) دولت‌ها برای مدیریت کلان کشور:

ج) برای تداوم پیشرفت اقتصادی، علاوه بر ارتقای توان تولید، به عنوان عنصر اساسی پیشرفت، مقاوم‌سازی اقتصادی و آسیب‌پذیری آن از فشارها و تکانه‌ای مختلف الزامی است. اقتصاددانان با اصطلاحاتی نظیر: مسئله‌ی مقاوم‌سازی اقتصاد را پیگیری و اجرا می‌کنند.

د) نفت خام است و همان‌طور که فروش فرس و اثاث خانه برای خانوار به شمار برود، صادرات و فروش نفت نیز محسوب

۱ الف) سیاست‌های انبساط پولی و سیاست‌های انقباض پولی طبقه‌بندی می‌شود. ب) علاوه بر سیاست‌های انبساط پولی از سیاست‌های انقباض مالی، نیز استفاده می‌کنند. ج) اقتصاد مقاومتی ضامن پیشرفت - درون‌زایی - برون‌گرایی و گسترش ارتباطات - اقتصاد دانش‌بنیان - اقتصاد مردمی د) ثروت عمومی - باید درآمد - درآمد - می‌شود.

۲ الف) سیاست‌های افزایش حجم پول در گردش و سیاست‌های کاهش حجم پول در گردش طبقه‌بندی می‌شود. ب) از سیاست‌های انبساط مالی برای تحریک تقاضای عمومی بهره می‌گیرند. ج) اقتصاد مردمی - اقتصاد مقاومتی ضامن پیشرفت - پایداری - مدیریت مصرف و بهره‌وری حداکثری - درون‌زایی د) یک کالای کانی و معدنی - باید درآمد - درآمد - می‌شود.

۳ الف) سیاست‌های انقباض مالی و سیاست‌های انبساط مالی تقسیم می‌شود. ب) سیاست‌های انقباض مالی را برای کاهش تقاضای کل اقتصاد در مواقع تورم به کار می‌گیرند. ج) استحکام اقتصادی - تاب‌آوری اقتصاد - توان تحریم‌شکنی - توزیع عادلانه ثروت و درآمد - اقتصاد دانش‌بنیان د) یک کالای کانی و معدنی - نباید درآمد - درآمد - نمی‌شود.

۴ الف) سیاست‌های پولی و سیاست‌های مالی تقسیم می‌شود. ب) علاوه بر سیاست‌های پولی از ابزارهای سیاست‌های مالی استفاده می‌کنند. ج) ثبات اقتصادی - استحکام اقتصادی - ضدشکنندگی - تاب‌آوری اقتصادی - پایداری د) ثروت عمومی - نباید درآمد - درآمد - نمی‌شود.

سراسری-انسانی-۱۴۰۰

۱۶۷ مندرجات جدول زیر، مربوط به یک جامعه‌ی فرضی است. چنان‌چه مجموع ارزش اقلام: مواد غذایی، پوشاک و ماشین‌آلات ۱۴۵ میلیارد ریال باشد، در این صورت:

الف) تولید خالص ملی

ب) تولید ناخالص داخلی

ج) تولید خالص داخلی سرانه

در این جامعه، کدام است؟

۱	هزینه‌ی استهلاک	$\frac{1}{4}$ ارزش خدمات ارائه شده
۲	جمعیت کل کشور	۲۵ میلیون نفر
۳	ارزش تولید خارجیان مقیم کشور	۳۳ میلیارد ریال
۴	ارزش تولید مردم کشور که در خارج اقامت دارند.	$\frac{1}{3}$ ارزش تولید خارجیان مقیم کشور
۵	ارزش خدمات ارائه شده	۴۴ میلیارد ریال

۲ الف) ۱۸۹ ب) ۲۲۲ ج) ۴۴ / ۸

۱ الف) ۱۸۹ ب) ۲۱۱ ج) ۳۳ / ۷

۴ الف) ۲۰۰ ب) ۲۲۲ ج) ۴۴ / ۸

۳ الف) ۲۰۰ ب) ۲۱۱ ج) ۳۳ / ۷

سراسری-انسانی-۱۴۰۰

۱۶۸ در یک جامعه‌ی فرضی، یک دستگاه کالای سرمایه‌ای را به قیمت: ۷۲ میلیارد ریال خریداری کرده‌ایم و عمر مفید آن ۱۲ سال است. در این صورت:

- الف) هر سال چه میزان سرمایه به عنوان هزینه‌ی استهلاکی باید کنار گذاشته شود؟
 ب) چنانچه در سه سال آخر عمر مفید این کالای سرمایه‌ای، ۵٪ کاهش بها یافته باشد، مجموع هزینه‌ی استهلاکی سه سال آخر چه مقدار خواهد بود؟
 ج) قیمت جدید کالای سرمایه‌ای کدام است؟
 توجه: ارقام به میلیون و میلیارد ریال است.

- ۱ الف) ۶ (ب) ۱۷, ۱۰۰ (ج) ۶۸, ۴۰۰, ۰۰۰
 ۲ الف) ۶ (ب) ۱۷, ۱۰۱ (ج) ۶۴, ۸۰۰, ۰۰۰
 ۳ الف) ۷ (ب) ۱۷, ۱۰۰ (ج) ۶۴, ۸۰۰, ۰۰۰
 ۴ الف) ۷ (ب) ۱۷, ۱۰۱ (ج) ۶۸, ۴۰۰, ۰۰۰

سراسری-انسانی-۱۴۰۰

۱۶۹ کدام گزینه، بیان‌گر پاسخ درست و کامل پرسش‌های زیر است؟
 الف) کدام مورد، در رابطه با واقعیت نادرست است؟

- ب) گسترش فعالیت‌های اقتصادی، افزایش بهره‌وری و سطح زندگی در کشورهای در حال توسعه از طریق اجرای طرح‌های مطالعاتی، برگزاری سمینارها و سخنرانی‌ها و همچنین اعطای اعتبار با شرایط آسان به کشورهای مذکور از وظایف اصلی کدام سازمان است؟
 ج) در محاسبه‌ی تولید کل جامعه باید از محاسبه‌ی ارزش کالاهای «.....» صرف‌نظر کرده و فقط ارزش کالاهای «.....» را محاسبه نمود.
 د) علاوه بر آثار مثبت تجارت بین‌الملل بر اقتصاد کشورها، دستیابی به چه چیزی می‌تواند به عنوان یک عامل مهم دیگر، اقتصاد کشورها را تحت تأثیر قرار دهد؟
 هـ) هرگاه در یک واحد تولیدی در طول یک دوره‌ی معین تفاوت درآمد هزینه تولید محاسبه گردد به آن چه می‌گویند؟
 و) ورقه‌ی قابل معامله که بر روی آن اطلاعاتی شامل میزان مشارکت، تعهدات و منابع صاحب آن درج شده است، چیست؟

- ۱ الف) به نظر می‌رسد که میان پیش‌فرض‌های علم اقتصاد و تعالیم اسلامی تقابلی آشکار وجود دارد. ب) سازمان بین‌المللی توسعه (ج) واسطه‌ای - نهایی (د) تخصّص (هـ) میزان سود و سهم
 ۲ الف) فرض نامحدود بودن نیازهای انسان با الگوی مصرف اسلامی لزوماً ناسازگار نیست. ب) بانک بین‌المللی توسعه و ترمیم (ج) سرمایه‌ای - مصرفی (د) تکنولوژی مدرن (هـ) میزان تولید خالص داخلی و سهم مؤسس
 ۳ الف) پذیرفتن فرض محدود بودن منابع در دسترس انسان با اعتقاد به بی‌حد و حصر بودن نعمت‌های الهی ناسازگار نیست. ب) مؤسسه‌ی تضمین سرمایه‌گذاری چندجانبه (ج) مصرفی - سرمایه‌ای (د) انرژی هسته‌ای (هـ) میزان اجاره و سهم ممتاز
 ۴ الف) محدود بودن منابع به این دلیل است که انسان راه استفاده از منابع را کشف نکرده است یا سطح دانش فنی انسان پایین است. ب) مؤسسه مالی بین‌المللی (ج) نهایی - واسطه‌ای (د) منابع و مواد اولیه فراوان و نیروی انسانی ارزان (هـ) میزان بهره و سهم با حق چند رأی

کنکورهای خارج از کشور-سراسری-انسانی

کدام گزینه، مبین پاسخ درست و کامل پرسش‌های زیر است؟

الف) احساس رضایت در چه زمانی برای انسان حاصل می‌شود؟

ب) آمریکا بعد از «.....» برای بازسازی اقتصادهای آسیب‌دیده کشورهای هم‌پیمان خود، در «.....» مبالغ هنگفتی صرف کرد. این برنامه‌ی بازسازی به «.....» معروف است.

ج) نظر به این‌که به‌کارگیری سیاست‌های گوناگون توسط دولت برای افزایش تولید کالاها و خدمات در جامعه است. پس می‌توان نتیجه گرفت:

د) چه زمانی، اثر تغییرات قیمت در محاسبه‌ی تولید کل جامعه از بین می‌رود و تغییرات موجود فقط نشان‌دهنده‌ی تغییر در میزان کالاها و خدمات، خواهد بود؟

هـ) پسته، قهوه و محصولات دامی به‌ترتیب تولید غالب کدام کشورهاست؟

و) منبع و منشاء اصلی و اساسی، کالاها و خدماتی که مورد استفاده قرار می‌گیرند، کدام است؟

۱ الف) بعد از رفع نیاز ب) جنگ جهانی دوم - اروپا - طرح مارشال ج) افزایش مقدار کالاها و خدمات در جامعه از علائم موفقیت دولت در عرصه اقتصاد جامعه است. د) موقعی که سال معینی را به عنوان سال پایه، انتخاب و ارزش تولیدات هر سال را برحسب قیمت کالاها و خدمات در سال پایه، نه سال جاری محاسبه نمود. هـ) ایران، برزیل و آرژانتین و طبیعت

۲ الف) بعد از کسب سود ب) جنگ جهانی اول - اروپا - اصل عمران جان، اف، کندی ج) بالا بردن میزان تولید کل در دنیای امروز تا حدی دلیل ضعفی بر توان و قدرت اقتصادی یک جامعه است. د) موقعی که ارقام محاسبه شده در هر سال، در اصل حاصل ضرب مقدار کالاهای تولید شده در قیمت هر واحد کالاهاست، لذا باید ارزش آن‌ها را برحسب واحد پولی ملی محاسبه کرد. هـ) مصر، نیجریه، برزیل و مدیریت

۳ الف) زمانی که تمام نیازهای انسان رفع شد و او دیگر محرکی برای فعالیت نداشت. ب) جنگ جهانی اول - اروپای شرقی - اصل ۴ ترومن ج) دولت بدون توجه به ذخایر و منابع اقتصادی برای نسل آینده درصدد استفاده بی‌رویه از منابع کشور است. د) زمانی که سال دوم به عنوان سال پایه انتخاب و براساس آن محاسبه را انجام داد. هـ) ایران، غنا، کوبا و تکنولوژی

۴ الف) بعد از حرکت و شتاب به سوی فعالیت و تلاش اقتصادی ب) جنگ جهانی دوم - اروپای شرقی - طرح توسعه‌ی آیزنهاور ج) غالب دولت‌ها این ذهنیت نابه‌جا را رواج داده‌اند که بالا بردن میزان تولید کل به دلیل توسعه‌ی یک جامعه است. د) چنان‌چه سال سوم را به عنوان سال پایه برای سال‌های اول و دوم فرض کرده محاسبه نمود. هـ) آرژانتین، غنا، نیجریه و سرمایه

پاسخ درست و کامل سؤالات زیر در کدام گزینه، مطرح شده است؟
 الف) براساس اعتقاد تحلیل‌گران اقتصادی و اجتماعی، آن‌چه که افق دید افراد را محدود کرده، آن‌ها را از هرگونه مشارکت مؤثر و سازنده بازمی‌دارد، چیست؟
 ب) در اصل ۴۳ قانون اساسی، بر کدام مورد، تأکید شده است؟
 ج) مطلب زیر مربوط به استدلال کدام گروه اقتصادی است؟
 «امروزه برخی از کارشناسان و تحلیل‌گران بر این باورند که کشورهای در حال توسعه در مراحل اولیه توسعه به حضور دولتی مقتدر و کارآمد که با جدیت چرخ‌های اقتصاد را به حرکت درآورد نیازمندند. اما هر قدر که کشور در مسیر توسعه پیش برود و مراحل اولیه را پشت سر بگذارد، نیاز به حضور دولت کم‌تر احساس شده و در صورت ادامه مشکل‌ساز نیز خواهد بود.»
 د) کدام مورد، در رابطه با اهداف دولت در مبادرت به اخذ مالیات، نادرست است؟
 ه) مطلب زیر، درباره‌ی چه سیاستی است و روش مربوط به آن کدام است؟
 «بانک‌ها اسناد اعتباری خود را به بانک مرکزی تحویل می‌دهند و قبل از زمان سررسید آن پول را دریافت می‌کنند، آن‌گاه با وام دادن به مردم این پول را به بازار تزریق می‌کنند.»

۱ الف) بیسوادی ب) مبارزه با ثروت‌اندوزی از روش‌های غیرقانونی ج) طرفداران اقتصاد آزاد د) مالیات برای دولت یک منبع درآمد محسوب می‌شود. ه) انقباض پولی - افزایش نرخ تنزیل مجدد

۲ الف) اعتیاد ب) محترم شمردن مالکیت مشروع با رعایت قوانین کشور ج) طرفداران مداخله‌ی دولت در امور اقتصادی د) مالیات ابزاری است برای سیاست‌گذاری‌های اقتصادی ه) انبساط پولی - پایین آوردن نسبت ذخایر قانونی

۳ الف) فقر ب) ریشه‌کن کردن فقر و محرومیت و تأمین نیازهای اساسی همه‌ی افراد جامعه ج) طرفداران مداخله‌ی مشروط دولت در امور اقتصادی د) مالیات یکی از اهرم‌های قوی هدایت اقتصاد هر جامعه است. ه) انبساط پولی - پایین آوردن نرخ تنزیل مجدد

۴ الف) بیکاری ب) عدم وجود تبعیض بین مناطق مختلف کشور ج) طرفداران اقتصاد با برنامه‌ریزی متمرکز د) مالیات گامی در جهت رفع نابرابری‌های اقتصادی و اجتماعی و توزیع عادلانه‌ی درآمدهاست. ه) انقباض پولی - افزایش نرخ سپرده‌های قانونی

۱۷۲

کدام گزینه، بیان‌گر پاسخ درست و کامل پرسش‌های زیر است؟

(الف) تعدادی از کشورهای در حال توسعه که در آن‌ها سطح رشد با سطح توسعه فاقد هماهنگی است مثل کشور: «.....» با پیش‌بینی و اجرای برنامه‌های «.....» توانسته‌اند در وضعیت شاخص‌های توسعه‌ی خود «.....» ایجاد کنند و با داشتن رتبه‌ی «.....» در شاخص «.....» با وجود درآمد سرانه نه چندان زیاد از نظر بسیاری از شاخص‌های توسعه وضعیت نسبتاً مطلوبی دارد.

(ب) معمولاً چگونه می‌توان تصویری از وسعت و اندازه‌ی فقر را در هر کشور به دست آورد؟

(ج) کلیه گزینه‌ها در رابطه با بهبود بخشیدن به فعالیت‌های بخش تولید و عرضه درست هستند؛ به‌جز:

(د) به واسطه‌ی مالیات بر «.....»، «.....» افزایش و «.....» کاهش می‌یابد.

(هـ) منازعات و جنگ‌های اقتصادی قرون اخیر و رفتار استکباری قدرت‌های جهان موجب شده است که اقتصاددانان:

(و) مطلب زیر مربوط به کدام اصل و کدام محور کلی ویژگی‌های اساسی نظام اقتصادی کشور است؟ «برای تأمین استقلال اقتصادی جامعه و ریشه‌کن کردن فقر و محرومیت و برآوردن نیازهای انسان در جریان رشد با حفظ آزادی و اقتصادی ایران براساس ضوابطی استوار شده است.»

۱ الف) کره‌ی شمالی - میان‌مدت - بهبودی برتر - ۳۲ - H.D.I (ب) مورد استفاده قرار دادن مهم‌ترین معیار سنجش وضعیت توزیع درآمد در کشورها که همان شاخص دهک‌ها است. (ج) افزایش بهره‌وری و امنیت اقتصادی (د) مصرف کالاها و خدمات - انگیزه‌ی فرار مالیاتی - شفافیت مالیاتی (هـ) از واردات برخی از کالاهای اساسی موردنیاز کشور از ممالک روسیه و چین که ضرر کم‌تر دارد تأکید ورزند (و) اصل ۴۶ - حقوق اقتصادی شهروندان

۲ الف) کره‌ی شمالی - بلندمدت - بهبودی نسبی - ۹۰ - توسعه‌ی انسانی (ب) با استفاده از یکی از معیارهای سنجش وضعیت درآمد (ج) برنامه‌ریزی در جهت به‌کارگیری فناوری‌های نوین (د) مصرف کالاها و خدمات - شفافیت مالیاتی - فرار مالیاتی (هـ) مخالفت شدید خود را از واردات کالا از ممالک آمریکا و اروپا و چین و روسیه ابراز دارند. (و) اصل ۴۶ - اقتصاد مردمی و رد سلطه‌ی بیگانگان

۳ الف) چین - میان‌مدت - بهبودی برتر - ۳۲ - توسعه‌ی انسانی (ب) با استفاده از دو شاخص شکاف درآمدی و شکاف هزینه‌ای خانوارها (ج) بهبود محیط کسب و کار (د) ارزش افزوده - انگیزه‌ی فرار مالیاتی - شفافیت مالیاتی (هـ) از واردات کشورهایی که وابستگی اقتصادی و سیاسی به هیچ بلوک غربی و شرقی ندارند، حمایت نمایند. (و) اصل ۴۳ - حقوق اقتصادی شهروندان

۴ الف) چین - بلندمدت - بهبودی نسبی - ۹۰ - H.D.I (ب) با استفاده از دو شاخص درآمد سرانه و میزان نابرابری در توزیع درآمد (ج) توجه به زیرساخت‌ها و سرمایه‌گذاری در مناطق محروم کشور (د) ارزش افزوده - شفافیت مالیاتی - انگیزه‌ی فرار مالیاتی (هـ) به اهمیت خودکفایی در بعضی از تولیدات داخلی و عدم وابستگی برای تأمین آن‌ها از خارج تأکید کنند. (و) اصل ۴۳ - اقتصاد مردمی و رد سلطه‌ی بیگانگان

۱۷۳) مندرجات جدول زیر، بیان‌گر وضعیت توزیع درآمد در یک کشور فرضی در سال ۱۹۷۸ میلادی براساس شاخص دهک‌ها است، چنان‌چه:

تفاوت سهام دهک اول و دهم: ۱۹ درصد

تفاوت سهام دهک دوم و نهم: $۹/۵$ درصد

تفاوت سهام دهک سوم و نهم: $۸/۵$ درصد

تفاوت سهام اول و هفتم: $۷/۵$ درصد باشد، در این صورت:

سهام دهک اول و سهام دهک سوم و سهام دهک هفتم و سهام دهک نهم به ترتیب چند درصد است؟

جدول وضعیت توزیع	درآمد در کشور B	مربوط به سال ۱۹۷۳ میلادی
۱	سهام دهک اول	؟
۲	سهام دهک دوم	۵ درصد
۳	سهام دهک سوم	؟
۴	سهام دهک چهارم	۷ درصد
۵	سهام دهک پنجم	$۷/۵$ درصد
۶	سهام دهک ششم	$۸/۵$ درصد
۷	سهام دهک هفتم	؟
۸	سهام دهک هشتم	۱۳ درصد
۹	سهام دهک نهم	؟
۱۰	سهام دهک دهم	۲۳ درصد
صد در صد جمعیت کشور		صد در صد درآمد ملی

۱) چهار - شش - یازده - چهارده

۲) چهار - شش - یازده و نیم - چهارده و نیم

۳) سه و نیم - شش و نیم - یازده - چهارده

۴) سه و نیم - شش و نیم - یازده و نیم - چهارده و نیم

کنکورهای خارج از کشور - سراسری - انسانی

۱۷۴

اطلاعات ارائه شده در جدول زیر، مربوط به یک جامعه‌ی فرضی است، با توجه به مندرجات جدول:

(الف) ارزش پولی مسکوکات موجود در دست مردم، چه قدر است؟

(ب) میزان حجم شبه پول این جامعه چیست؟

(ج) حجم کل پول موجود یا کل نقدینگی این جامعه، کدام است؟

۱	ارزش پولی حساب‌های قرض‌الحسنه	۱۲۸۰ واحد
۲	ارزش پولی مجموع مسکوکات در دست مردم	$\frac{۲}{۵}$ موجودی اسکناس‌ها
۳	ارزش پولی مجموع اسکناس‌ها	۲۰۰۰ واحد
۴	ارزش پولی سپرده‌های دیداری	۱۸۰ واحد
۵	ارزش پولی موجودی سپرده‌های مدت‌دار مردم	۲۳۰ واحد
۶	ارزش پولی مجموع سپرده‌های دیداری و غیردیداری مردم	۱۰۰۰ واحد

(۲) الف (الف) ۸۰۰ (ب) ۲۱۰۰ (ج) ۵۰۸۰

(۱) الف (الف) ۸۰۰ (ب) ۲۰۱۰ (ج) ۵۸۰۰

(۴) الف (الف) ۸۲۰ (ب) ۲۱۰۰ (ج) ۵۰۸۰

(۳) الف (الف) ۸۲۰ (ب) ۲۰۱۰ (ج) ۵۸۰۰

کنکورهای خارج از کشور - سراسری - انسانی

۱۷۵

کدام گزینه، بیان‌گر پاسخ درست و کامل پرسش‌های زیر است؟

(الف) مطلب زیر مربوط به چیست؟

«یک سبد کالایی یکسان، سالانه در ایران قیمت‌گذاری می‌شود و هم‌زمان همان سبد کالایی در کشور آمریکا تعیین قیمت می‌شود. تقسیم این دو بر هم قدرت خرید دلار را در ایران نشان می‌دهد.»

(ب) گفته می‌شود، گاهی درآمدها قابل ثبت نیستند، به همین دلیل اقتصاددانان برای به دست آوردن:

(ج) دولت‌ها برای مدیریت کلان اقتصاد کشور و اجرای وظایف خود «.....» را اجرا می‌کنند که از «.....» تشکیل شده است.

(د) درآمدهای ناشی از فروش ثروت عمومی «.....» محسوب نشده و برای زاینده‌گی مستمر و حفظ ثروت‌های طبیعی باید به «.....» تبدیل شود.

(ه) متخصصان اقتصاد تحریم با مطالعه‌ی بیش از ۱۴۰ نمونه‌ی اقتصادی در یک‌صد سال گذشته، معتقدند به طور متوسط پس از «.....» کفهی «هزینه - فایده‌ی» تحریم به سمت «.....» چرخیده است.

(۱) الف) استفاده از دلاری که توسط سازمان‌های بین‌المللی محاسبه و اعلام می‌شود. (ب) شکاف هزینه‌ای، شکاف درآمدی را محاسبه می‌کنند. (ج) بسته سیاست‌های ارزی - دو ابزار صادرات و واردات (د) درآمد دولتی خاص - سرمایه‌گذاری‌های زیربنایی (ه) ۲ سال - فایده و منافع کشور تحریم‌کننده

(۲) الف) استفاده از دلار رفاهی یا دلار برابری خرید P.P.P (ب) شکاف درآمدی، شکاف هزینه‌ای را محاسبه می‌کنند (ج) بسته سیاست‌های مالی - دو ابزار درآمدها و مخارج دولت (د) درآمدهای دولتی - سرمایه‌ی مولد (ه) ۴ سال - فایده و منافع کشور تحریم‌شونده

(۳) الف) مورد استفاده قرار دادن ارزی که ارتباط مستقیمی با نرخ دلار موجود در بازار ارز ندارند. (ب) وضعیت توزیع درآمد از شاخص دهک‌ها استفاده می‌کنند (ج) بسته‌ی سیاست‌های پولی - دو ابزار انقباض پولی و انبساط پولی (د) درآمد دولتی محسوب نشده - سرمایه‌گذاری‌های شالوده‌ای (ه) ۱۰ سال - فایده و منافع کشور تحریم‌شونده

(۴) الف) مورد استفاده قرار دادن میانگین ارزش‌های معتبر جهان و تبدیل تولید ملی به آن (ب) سهم هریک از دهک‌ها تولید ناخالص داخلی را مدنظر قرار می‌دهند (ج) بسته‌ی سیاست‌های تجاری - دو ابزار درآمدهای دولت و مخارج دولت (د) درآمد دولتی خاص تلقی شده - سرمایه‌گذاری‌های اجتماعی و فرهنگی (ه) ۶ سال - فایده و منافع کشور تحریم‌کننده

کنکورهای خارج از کشور - سراسری - انسانی

۱۷۶ میزان تولید کل کشوری در سه سال متوالی به ترتیب سال اول: ۱۵۰۰، سال دوم: ۱۷۰۰ و سال سوم: ۱۸۷۵ هزار میلیارد ریال بوده است، با گزینش سال اول به عنوان سال پایه، میزان تولید کل در سه سال موردنظر برحسب قیمت‌های سال پایه به ۱۵۰۰، ۱۶۵۰ و ۱۷۱۰ تغییر یافته است. براساس این محاسبات به ترتیب از راست به چپ:

الف) کدام اعداد مربوط به پدیده‌ی تورم در سال دوم و سال سوم در این جامعه است؟
 ب) افزایش مقدار تولید در سال دوم و سال سوم، کدام است؟
 ج) افزایش قیمت‌ها در سال دوم و سال سوم کدام است؟

۲ الف) ۵۰ - ۱۶۵ ب) ۲۱۰ - ۱۵۰ ج) ۵۰ - ۱۶۵

۱ الف) ۵۰ - ۱۶۵ ب) ۱۵۰ - ۲۱۰ ج) ۵۰ - ۱۶۵

۴ الف) ۵۰ - ۱۶۵ ب) ۲۱۰ - ۱۵۰ ج) ۵۰ - ۱۶۵

۳ الف) ۵۰ - ۱۶۵ ب) ۱۵۰ - ۲۱۰ ج) ۵۰ - ۱۶۵

کنکورهای خارج از کشور - سراسری - انسانی

۱۷۷ جدول زیر، حاوی اطلاعات فرضی مربوط به تولید کل کشوری در سه سال پیاپی است. اگر میزان تورم در سال دوم و سوم به ترتیب: ۲۴۷ و ۱۶۳۱ هزار میلیارد ریال باشد، در این صورت به ترتیب از راست به چپ:

الف) ارزش تولید کل در سال دوم و سوم، کدام است؟
 ب) مقدار افزایش تولید کل در سال دوم و سوم، چه قدر است؟ سال پایه، سال ۱۳۷۹ منظور شده است.

سال	۱۳۷۹	۱۳۸۰	۱۳۸۱
تولید کل	۴۲۹۰	؟	۷۸۰۰
ارزش تولید کل به قیمت جاری	۴۲۹۰	؟	۷۸۰۰
ارزش تولید کل به قیمت ثابت	۴۲۹۰	۵۸۳۰	؟

۲ الف) ۵۵۸۳ - ۹۴۳۱ ب) ۱۲۹۳ - ۵۱۴۱

۱ الف) ۵۵۸۳ - ۶۱۶۹ ب) ۱۲۹۳ - ۱۸۷۹

۴ الف) ۶۰۷۷ - ۹۴۳۱ ب) ۱۵۴۰ - ۵۱۴۱

۳ الف) ۶۰۷۷ - ۶۱۶۹ ب) ۱۵۴۰ - ۱۸۷۹

کنکورهای خارج از کشور - سراسری - انسانی

جدول زیر، مبین ارقام مختلف درآمدی است که در طول یکسان نصیب یک جامعه فرضی شده است. با توجه به مندرجات جدول:

- الف) کدام ردیف جدول، قیمت خدمات سرمایه و کدام ردیف، اجاره‌بها یا مال‌الاجاره است؟
 ب) درآمد ملی این جامعه چه قدر است؟
 ج) درآمد سرانه آن کدام است؟
 د) مفهوم و معنای سرانه چیست؟
 قابل توجه: درآمد کارمندان و کارگران موضوع ردیف‌های ۳ و ۶ به تفکیک محاسبه شده است.

ردیف	ارقام درآمدی	ارزش
۱	درآمد صاحبان املاک و مستغلات	۳۲۸ میلیارد ریال
۲	سود شرکت‌ها و مؤسسات	$\frac{۲}{۳}$ درآمد صاحبان سرمایه
۳	درآمد حقوق‌بگیران	
۴	درآمد صاحبان سرمایه	۳۴۸ میلیارد ریال
۵	درآمد صاحبان مشاغل آزاد	
۶	دستمزدها	۲۳۳ میلیارد ریال
۷	جمعیت کل کشور	۵۰ میلیون نفر

- ۱ الف) ردیف: ۱ و ردیف ۴ (ب) ۱۵۱۲ (ج) ۳۰۴۲ (د) سهم متوسط هر فرد جامعه از میزان درآمد آن جامعه
 ۲ الف) ردیف: ۱ و ردیف ۴ (ب) ۱۵۲۱ (ج) ۲۴ / ۳۰ (د) سهم متوسط هر فرد جامعه از میزان تولید آن جامعه
 ۳ الف) ردیف: ۴ و ردیف ۱ (ب) ۱۵۱۲ (ج) ۲۴ / ۳۰ (د) سهم متوسط هر فرد جامعه از میزان تولید و درآمد آن جامعه
 ۴ الف) ردیف: ۴ و ردیف ۱ (ب) ۱۵۲۱ (ج) ۳۰۴۲ (د) سهم متوسط هر فرد جامعه از میزان درآمد و تولید آن جامعه

کنکورهای خارج از کشور - سراسری - انسانی

۱۷۹ با توجه به مندرجات جدول زیر و همچنین چنانچه مجموع ارزش اقلام ماشین‌آلات، پوشاک و مواد غذایی در یک جامعه‌ی فرضی: ۱۶۵ میلیارد ریال باشد، در این صورت:

الف) تولید خالص ملی
ب) تولید داخلی سرانه
ج) تولید ناخالص داخلی، کدام است؟

تولید مردم کشور که در خارج اقامت دارند.	به ارزش ۶۵ میلیارد ریال	۱
تولید خارجیان مقیم کشور	به ارزش ۱۵ میلیارد ریال	۲
خدمات ارائه شده	$\frac{۳}{۵}$ ارزش تولید مردم کشور که در خارج اقامت دارند	۳
هزینه‌ی استهلاک	$\frac{۲}{۳}$ ارزش تولید خارجیان مقیم کشور	۴
جمعیت کل کشور	۶۵ میلیون نفر	۵

۲ الف) ۲۹۵ (ب) ۲۱ / ۴ (ج) ۲۹۱

۱ الف) ۲۵۹ (ب) ۲۱ / ۳ (ج) ۲۱۹

۴ الف) ۲۵۹ (ب) ۲۱ / ۳ (ج) ۲۱۹

۳ الف) ۲۵۹ (ب) ۱۲ / ۴ (ج) ۲۹۱

کنکورهای خارج از کشور - سراسری - انسانی

۱۸۰ با توجه به اطلاعات ارائه شده در جدول زیر، نتیجه‌ی عملکرد سالیانه‌ی یک بنگاه اقتصادی با ۱۲ نفر کارمند و تولید سالیانه‌ی ۴۰۰ دستگاه هر کدام به ارزش: ۹۰۰,۰۰۰ ریال کدام است؟

اجاره بهای ماهیانه‌ی کارگاه تولیدی	۱۰,۰۰۰,۰۰۰ ریال	۱
حقوق متوسط ماهیانه‌ی هر فرد کارمند اداری و تولیدی «معادل»	۷۰۰,۰۰۰ ریال	۲
خرید مواد اولیه موردنیاز سالیانه به ارزش	۱۷۸,۰۰۰,۰۰۰ ریال	۳
هزینه‌ی استهلاک سالیانه‌ی ماشین‌های تولیدی	معادل ۲۵ درصد حقوق سالیانه‌ی کارمندان	۴

۴ سود ۶۳,۰۰۰,۰۰۰

۳ زیان ۶۴,۰۰۰,۰۰۰

۲ سود ۴۳,۲۰۰,۰۰۰

۱ زیان ۴۲,۲۰۰,۰۰۰

کنکورهای خارج از کشور - سراسری - انسانی

۱۸۱ در کشوری $\frac{۴}{۵}$ ظرفیت تولید برق نیروگاه به مصرف خانوارها می‌رسد. تعداد خانوارها ۱۹ میلیون و هر کدام از آنها شامل ۴ نفر است و هر خانوار به طور متوسط ۳ لامپ ۲۰۰ وات مصرف می‌کند. بر این اساس، به ترتیب (از راست به چپ):

الف) در صورتی که هر خانوار تصمیم بگیرد فقط ۲ لامپ ۲۰۰ وات مصرف کند، میزان صرفه‌جویی خانوارها چند مگاوات است؟
ب) ظرفیت تولید برق نیروگاه چند مگاوات است؟
ج) با این میزان صرفه‌جویی، ظرفیت تولید برق نیروگاه چند درصد افزایش می‌یابد؟

۲ الف) ۷۶۰۰ (ب) ۹۱۲۰ (ج) ۸۳ / ۳۳

۱ الف) ۷۶۰۰ (ب) ۱۴۲۵۰ (ج) ۵۳ / ۳۳

۴ الف) ۳۸۰۰ (ب) ۱۴۲۵۰ (ج) ۲۶ / ۶۶

۳ الف) ۳۸۰۰ (ب) ۹۱۲۰ (ج) ۴۱ / ۶۶

کنکورهای خارج از کشور - سراسری - انسانی

سوال ۵

درس دوازدهم: بودجه بندی

۱۸۲ کارخانه‌داری در طول یک سال ۵۶ میلیون تومان سود کرد در صورتی که هزینه‌های تولید ماهیانه ۶ میلیون تومان باشد، پاسخ پرسش‌های زیر، به ترتیب از راست به چپ کدام است؟
الف) میزان درآمد حاصل از تولید، چند میلیون تومان بوده است؟
ب) اگر مخارج سالیانه این فرد ۲۱ میلیون تومان باشد مبلغی که مشمول پرداخت خمس می‌شود، چند میلیون ریال است؟

۴۱۰ - ۶۲ (۴)

۵۶۰ - ۱۲۸ (۳)

۳۵۰ - ۶۲ (۲)

۳۵۰ - ۱۲۸ (۱)

کنکورهای خارج از کشور - سراسری - انسانی

۱۸۳ در صورتی که برای یک کار ضروری، فوری به پول بیشتری نیاز داشته باشید به طوری که توازن کار و زندگی برقرار بماند، کدام تصمیم درست است؟

۱) تهیه لیست معیارها و گزینه‌ها (۱)

۲) کاهش مخارج ثابت و متغیر (۲)

۳) صرفه‌جویی در هزینه‌های متغیر (۳)

۴) ثبت مخارج برنامه‌ریزی شده و برنامه‌ریزی نشده (۴)

سراسری - انسانی - ۱۴۰۴ تیرماه

۱۸۴ فردی در پایان سال مالی خود ۸,۴۰۰,۰۰۰ تومان به عنوان خمس پرداخت کرده است. در صورتی که هزینه‌های تأمین زندگی این فرد ماهانه ۲۰ میلیون تومان باشد، پاسخ پرسش‌های زیر، به ترتیب، از راست به چپ کدام است؟

الف) کل درآمد سالیانه او چند میلیون تومان بوده است؟

ب) درآمد مشمول خمس چند میلیون ریال بوده است؟

۴۲ - ۶۶۰ (۴)

۴۲ - ۲۸۲ (۳)

۴۲۰ - ۶۶۰ (۲)

۴۲۰ - ۲۸۲ (۱)

سراسری - انسانی - ۱۴۰۴ تیرماه

۱۸۵ فردی در انتهای سال پس از پرداخت واجبات مالی خود ۸۰ میلیون تومان برایش باقی ماند. او ۲۵۰۰ ورقه سهام خرید و در پایان سال همه سهام خود را به مبلغ ۲۲۵ میلیون تومان فروخت. اگر منبع درآمد او فقط از بازار بورس باشد و کل هزینه‌هایش ۹۵ میلیون تومان شده باشد، پاسخ پرسش‌های زیر، به ترتیب (از راست به چپ)، کدام است؟

الف: قیمت اسمی هر سهم چند تومان است؟

ب: قیمت بازاری هر سهم چند ریال است؟

ج: خمس سالیانه او چند میلیون تومان است؟

۱۰ - ۹۰۰,۰۰۰ - ۳۲,۰۰۰ (۲)

۵ - ۹۰۰,۰۰۰ - ۳۷,۵۰۰ (۱)

۱۰ - ۳۲۰,۰۰۰ - ۹۰,۰۰۰ (۴)

۵ - ۹۵۰,۰۰۰ - ۹۰,۰۰۰ (۳)

سراسری - انسانی - ۱۴۰۳ اردیبهشت

۱۸۶ در کدام مورد به یکی از مراحل بودجه‌بندی اشاره شده است؟

۱) در تعیین میزان درآمد، با توجه به محدودیت منابع، میزان هزینه فرصت محاسبه شود. (۱)

۲) در مشخص کردن درآمد، محاسبه هزینه‌های هدررفته فراموش نشود. (۲)

۳) در صورتی که هزینه‌ها بیشتر از درآمد بود برخی مخارج ضروری را کم کنید. (۳)

۴) فرصت‌هایی را که فراموش شده است، به نظر آورده شود تا درآمد افزایش یابد. (۴)

سراسری - انسانی - ۱۴۰۳ اردیبهشت

۱۸۷ کدامیک از موارد زیر، درست است؟

الف) کل محصولات غلات جهان، سالیانه حدود $3/9$ میلیارد تن می‌باشد.

ب) بر اساس گزارش نفتا - سازمان خواربار و کشاورزی ملل متحد - سالیانه $\frac{1}{3}$ مواد غذایی دور ریخته می‌شود.

ج) سالیانه حدود $1/3$ میلیارد تن از مواد غذایی تولید شده برای مصرف انسان در جهان دور ریخته می‌شود.

د) گزارش‌ها نشان می‌دهد که در ایران اتلاف مواد غذایی نزدیک به متوسط جهانی است.

- ۱ الف - د ۲ الف - ج ۳ ب - ج ۴ ب - د

کنکورهای خارج از کشور - سراسری - انسانی

۱۸۸ کدام مورد به ترتیب، گام‌های خرید مقایسه‌ای در مثال زیر است؟

«سهراب با ۶۰۰ هزار تومان می‌خواهد یک کفش کتانی برای مسابقه دو میدانی در هفته آینده بخرد، رنگ، سایز و شرکت سازنده برایش مهم است، او از معلم ورزش خود راهنمایی می‌گیرد و چند فروشگاه به او معرفی می‌شود، خوشبختانه یک فروشگاه پیدا می‌کند که گارانتی (خدمات پس از فروش) هم دارد و از همان‌جا می‌خرد.»

۱ فهرست کردن معیارها - تعیین مقدار بودجه - فهرست کردن گزینه‌ها - ارزیابی معیارها

۲ تعیین مسئله - فهرست کردن گزینه‌ها - فهرست کردن معیارها - ارزیابی گزینه‌ها

۳ فهرست کردن معیارها - ارزیابی معیارها - تعیین مسئله - تعیین مقدار بودجه

۴ تعیین مسئله - فهرست کردن گزینه‌ها - تعیین معیارها - تصمیم‌گیری

کنکورهای خارج از کشور - سراسری - انسانی

۱۸۹ کدام عبارت در ارتباط با دو موضوع «خرید هوشمندانه» و «خرید مقایسه‌ای»، درست است؟

۱ برای کالای گران‌تر و پیچیده‌تر، نیاز کمتری به خرید هوشمندانه وجود دارد.

۲ خرید هوشمندانه فقط بر اساس معیار خط بودجه و قیمت آن کالا، انجام می‌شود.

۳ در خرید مقایسه‌ای، اقتصاد خانواده باید کم‌ترین هزینه و اقتصاد جامعه بیشترین منفعت را به دست آورد.

۴ در خرید مقایسه‌ای باید فرایند بررسی قیمت‌ها و ویژگی‌های محصولات مشابه، قبل از تصمیم‌گیری انجام شود.

سراسری - انسانی - ۱۴۰۴ تیرماه

۱۹۰ کدام مورد درباره موضوع «خرید هوشمندانه» درست است؟

۱ همیشه اجناس ارزان‌تر می‌خرم اگر چه کیفیت پایین دارند.

۲ هر روز در راه مدرسه حتی مبلغ اندکی با دوستانم خرید می‌کنم.

۳ همیشه سعی می‌کنم در هنگام خرید، از تصمیم‌های آنی، پرهیز کنم.

۴ همیشه اجناس مارک‌دار را ترجیح می‌دهم، چون کیفیت برابرم مهم است.

سراسری - انسانی - اردیبهشت ۱۴۰۴

۱۹۱) کدام مورد به ترتیب، مراحل انجام خرید مقایسه‌ای را کامل می‌کند؟

مرحله	نام مرحله	توضیحات
اول	تعریف مسئله	برای حل چه مشکلی نیاز به خرید است
دوم	الف	ب
سوم	ج	آنچه عملاً برای افراد هنگام انتخاب مهم است
چهارم	ارزیابی	سنجش گزینه‌ها براساس معیارها
پنجم	تصمیم‌گیری	انتخاب گزینه نهایی

- ۱) تعیین معیارها - مواردی که می‌توان مشکل را حل کرد - نیازسنجی
 ۲) فهرست گزینه‌ها - مواردی که می‌توان مشکل را حل کرد - تعیین معیارها
 ۳) فهرست گزینه‌ها - کدام انتخاب در سطح بودجه خریدار است - نیازسنجی
 ۴) تعیین معیارها - کدام انتخاب در سطح بودجه خریدار است - فهرست گزینه‌ها

کنکورهای خارج از کشور - سراسری - انسانی

۱۹۲) برای خرید لباس، معیارهای «عملکرد، هویت، نیاز، کیفیت و زیبایی» را در نظر بگیرید. کدام یک از معیارها برای هر یک از افراد زیر، ضروری است؟

«کارمند بخش بازرگانی، راهنمای تور گردشگری، پزشک و پرستار بیمارستان، لباس راحتی در منزل»

- ۱) زیبایی - هویت - عملکرد - نیاز
 ۲) نیاز - کیفیت - زیبایی - عملکرد
 ۳) عملکرد - زیبایی - کیفیت - هویت
 ۴) کیفیت - عملکرد - هویت - زیبایی

سراسری - انسانی - تیرماه ۱۴۰۳

۱۰ سوال

درس چهاردهم : پس انداز

۱۹۳) فردی که درآمد سالیانه‌اش فقط از بورس می‌باشد، در ابتدای سال با ۶۰ میلیون تومان ۳۰۰۰ ورق سهام را در عرضه اولیه خریداری کرد. بعد از یک سال، کل سهام خود را به ارزش ۲۴۰ میلیون تومان در تالار بورس فروخت. در صورتی که مخارج ماهیانه او ۱۰ میلیون تومان باشد، پاسخ پرسش‌های زیر به ترتیب از راست به چپ کدام مورد است؟ (قیمت‌ها به تومان است).

الف) قیمت اسمی هر سهم چقدر است؟
 ب) قیمت بازاری هر سهم کدام است؟
 ج) خمس پرداختی در انتهای سال چقدر است؟

- ۱) ۵۰,۰۰۰ - ۶۰,۰۰۰ - ۶,۰۰۰,۰۰۰
 ۲) ۵۰,۰۰۰ - ۸۰,۰۰۰ - ۱۲,۰۰۰,۰۰۰
 ۳) ۲۰,۰۰۰ - ۸۰,۰۰۰ - ۱۲,۰۰۰,۰۰۰
 ۴) ۲۰,۰۰۰ - ۶۰,۰۰۰ - ۶,۰۰۰,۰۰۰

کنکورهای خارج از کشور - سراسری - انسانی

۱۹۴) کدام مورد درباره ویژگی سرمایه‌گذاری از طریق خرید طلا، نادرست است؟

- ۱) سود سالانه منظم دارد.
 ۲) سود سالانه منظم ندارد.
 ۳) حفظ ارزش خود در شرایط تورمی
 ۴) در هر زمان قابل خرید و فروش است.

سراسری - انسانی - اردیبهشت ۱۴۰۴

۱۹۵ فردی ۷۵۰ برگه سهم را در عرضه اولیه یک شرکت تولیدی به مبلغ ۱۵۰,۰۰۰,۰۰۰ تومان خریداری کرده است. اگر قیمت بازاری هر سهم ۱۰ درصد بیشتر از قیمت اسمی آن باشد، به ترتیب، «قیمت بازاری هر برگه سهم» و «ارزش اسمی هر برگه سهم» چند تومان است؟

۱ ۴۸۴,۰۰۰ و ۳۲۰,۰۰۰

۲ ۳۱۲,۰۰۰ و ۲۶۰,۰۰۰

۳ ۲۹۸,۰۰۰ و ۲۴۰,۰۰۰

۴ ۲۲۰,۰۰۰ و ۲۰۰,۰۰۰

سراسری-انسانی-اردیبهشت ۱۴۰۴

۱۹۶ اگر فردی ۴۰۰۰ ورقه سهم شرکتی را با قیمت اولیه به مبلغ ۸ میلیون تومان خریداری کرده باشد و بعد از یکسال هر سهم را به مبلغ ۵۵۰۰ تومان بفروشد، پاسخ پرسش‌های زیر، به ترتیب، کدام است؟

الف) قیمت اسمی هر سهم، چند تومان است؟

ب) سود هر سهم، چند تومان است؟

ج) ارزش بازاری فروخته شده کل سهام، چند میلیون تومان است؟

۱ ۲۰۰۰ - ۳۵۰۰ - ۲۲

۲ ۲۰۰۰ - ۱۵۰۰ - ۱۱

۳ ۳۵۰۰ - ۳۵۰۰ - ۱۹ / ۲۵۰

۴ ۳۵۰۰ - ۱۵۰۰ - ۱۹ / ۲۵۰

کنکورهای خارج از کشور-سراسری-انسانی

۱۹۷ کدامیک از روش‌های سرمایه‌گذاری هنگام برداشت، شامل جریمه و از دست رفتن بخشی از سود است؟

۱ خرید سهام

۲ خرید اوراق مشارکت

۳ حساب‌های پس‌انداز سرمایه‌گذاری کوتاه‌مدت

۴ حساب‌های سپرده سرمایه‌گذاری بلندمدت

کنکورهای خارج از کشور-سراسری-انسانی

۱۹۸ هر یک از عبارتهای زیر، به ترتیب مربوط به کدام قسمت در جدول است؟

- به ازای مدت زمان سپرده‌گذاری، به مشتری امتیاز دریافت وام تعلق می‌گیرد.
- نرخ سود این سپرده، تا پایان قرارداد تغییر نمی‌کند.
- نرخ سود این سپرده، می‌تواند همزمان با افزایش نرخ سود عمومی بانک‌ها افزایش یابد.
- معمولاً مقدار حداقلی باید در این حساب‌ها باشد، تا مشمول بستن قرارداد و دریافت سود گردد.

مزایای حساب‌های سپرده سرمایه‌گذاری	معایب حساب‌های سپرده سرمایه‌گذاری	
د	الف	کوتاه‌مدت
ب	هـ	بلندمدت
و	ج	قرض‌الحسنه

۱ و - ج - د - الف

۲ و - ب - د - هـ

۳ د - ب - و - ج

۴ د - ج - و - الف

سراسری-انسانی-تیرماه ۱۴۰۳

۱۹۹) فردی تعداد ۲۵۰۰ برگه سهام شرکتی را خریداری کرد. بعد از شش ماه کل سهام را به مبلغ ۱۶۰ میلیون فروخت و به میزان ۴۰ میلیون سود کرد. پاسخ پرسش‌های زیر، به ترتیب (از راست به چپ)، کدام است؟ (قیمت به تومان می‌باشد).

الف) مبلغ سرمایه‌گذاری، چند میلیون تومان بوده است؟
 ب) قیمت اسمی هر برگه سهام، کدام است؟
 ج) قیمت بازاری هر برگه سهام، چقدر است؟

- ۱) ۶۴,۰۰۰ - ۴۸,۰۰۰ - ۱۴۰ ۲) ۴۸,۰۰۰ - ۶۴,۰۰۰ - ۱۴۰ ۳) ۶۴,۰۰۰ - ۴۸,۰۰۰ - ۱۲۰ ۴) ۴۶,۰۰۰ - ۳۰,۰۰۰ - ۱۲۰

سراسری-انسانی-تیرماه ۱۴۰۳

۲۰۰) کدام مورد در رابطه با سرمایه‌گذاری از روش خرید سهام شرکت‌ها، درست است؟

- ۱) سود سرمایه‌گذاری قطعی است و معمولاً از سپرده‌گذاری در بانک هم بیشتر است.
 ۲) در سهام هر چقدر زمان طولانی‌تری سپرده‌گذاری شود، سود بیشتری هم به آن تعلق می‌گیرد.
 ۳) سود سرمایه‌گذاری در سهام قطعی نیست و تولیدکننده مستقیماً سرمایه خود را از مردم تهیه می‌کند.
 ۴) در این سرمایه‌گذاری برحسب فعالیت اقتصادی مرتبط، سود تعلق می‌گیرد و سهام بدون محدودیت قابل خرید و فروش است.

سراسری-انسانی-۱۴۰۳ اردیبهشت

۲۰۱) کدام گزینه دربردارنده‌ی پاسخ درست و کامل پرسش‌های زیر است؟

الف) به دلیل کدام‌یک از فعالیت‌های بانکی، که در بخش واقعی اقتصاد قرار دارد، سود بانکی چه علی‌الحساب و چه قطعی اعطایی به سپرده‌گذاران در قانون ربا تلقی نشده است؟
 ب) اثر و نتیجه‌ی این فعالیت بورس، یعنی تشویق مردم به پس‌انداز و به‌کارگیری پس‌اندازها در فعالیت‌های مفید اقتصادی کدام است؟
 ج) کدام گروه از فعالیت‌ها منحصراً مربوط به بخش دولتی است؟

- ۱) الف) حضور بانک‌ها در سرمایه‌گذاری غیرمستقیم از طریق استفاده از عقود اسلامی مجاز برای اعطای تسهیلات مالی به مشتریان خود ب) اثرگذاری در کاهش نرخ تورم ج) بانکداری، راه و راه‌آهن، بیمه و تأمین نیرو و صنایع مادر
 ۲) الف) دریافت مطالبات اسنادی و سود سهام و اوراق بهادار و اشیای قیمتی مشتریان ب) تنظیم معاملات بازار سرمایه ج) سدها، بازرگانی خارجی، کشاورزی، شبکه‌های آبرسانی
 ۳) الف) خرید و فروش ارز و نقل و انتقال وجود در داخل کشور ب) جلوگیری از نوسان شدید قیمت‌ها ج) صنایع بزرگ، دامداری، تجارت و خدمات، بازرگانی خارجی
 ۴) الف) سرمایه‌گذاری مستقیم بانک‌ها در طرح‌های تولیدی و عمرانی ب) افزایش حجم سرمایه‌گذاری در جامعه ج) صنایع، دامداری، صنعت، پست، تلگراف و تلفن

کنکورهای خارج از کشور-سراسری-انسانی

۲۰۲

کدام گزینه، بیان‌گر پاسخ درست و کامل سؤالات زیر است؟
 الف) کدام دو بانک اگر چه جزء بانک‌های تخصصی محسوب می‌شوند، ولی بیش‌تر نقش بانک تجاری را ایفا می‌کنند؟
 ب) انسان محصول آماده‌ی طبیعت را مستقیماً بدون هیچ‌گونه انجام کاری روی آن برداشت می‌کند، سه نمونه از آن کدام است؟ و نتیجه، این اقدام و نام اصطلاح اسلامی آن کدام است؟
 ج) گاهی توسعه‌یافتگی معادل غربی شدن تلقی شده است، دلیل آن کدام است؟
 د) هرگاه اقتصاددانان برای به دست آوردن شکاف درآمدی، شکاف هزینه‌ای را محاسبه کنند، در این حالت:

۱) الف) مسکن و ملت ب) بهره‌برداری از معادن، زراعت، باغبانی - مالکیت عمومی - احیاء ج) در واقع الگوهای توسعه، با توجه به زمان توسعه یافتن کشورهای غربی در عصر کنونی، کاملاً تغییر یافته و متفاوت شده است د) درآمد خانوار، نماینده‌ای از هزینه‌ی آن است.

۲) الف) مسکن و کشاورزی ب) بهره‌برداری از علف و مراتع، چوب جنگل‌ها و معادن - مالکیت فردی - حیات ج) زیرا الگوهای توسعه به طور معمول به تفاوت‌های بومی و محلی کشورها و هم‌چنین به تاریخ، فرهنگ، باورها و ارزش‌های آن‌ها توجه لازم ندارد. د) هزینه‌ی خانوار، نماینده‌ای از درآمد آن است.

۳) الف) ملّی و توسعه‌ی صادرات ب) بهره‌برداری از ماهی، دریاها، جنگل‌ها، کاشت گندم - مالکیت عمومی - حیات ج) چون این شاخص در زمان‌ها و مکان‌های متفاوت با الگوهای مختلفی باید مورد توجه اقتصاددانان قرار گیرد. د) شاخص دهک‌ها یکی از معیارهای تشخیص وضعیت «توزیع درآمد» تلقی می‌شود.

۴) الف) کشاورزی و صادرات ب) بهره‌برداری از چوب جنگل‌ها، معادن، پرورش ماهی، مالکیت فردی - احیاء ج) زیرا اقتصاددانان برای مقایسه‌ی بهتر کشورها و روند تغییرات آن‌ها علاوه بر شاخص‌های توسعه به شاخص‌های دیگر نیز توجه یافته‌اند. د) با محاسبه‌ی نسبت دهک دهم به دهک اول شاخصی مطمئن برای محاسبه به دست می‌آید.

گزینه ۱ پاسخ صحیح است. در مرحله اول سود نصف محصولات فروخته شده را حساب می‌کنیم:

$$\text{درآمد تولیدکننده} = ۴۰۰ \times ۲۰ / ۱۰۰ = ۸ / ۱۰۰ / ۱۰۰$$

در مرحله دوم هزینه‌ها را حساب می‌کنیم:

$$\text{هزینه تولیدکننده} = ۸۰۰ \times ۱۰ / ۱۰۰ = ۸ / ۱۰۰ / ۱۰۰$$

$$\Rightarrow \text{سود تولیدکننده} = \text{درآمد} - \text{هزینه} = ۸ / ۱۰۰ / ۱۰۰ - ۸ / ۱۰۰ / ۱۰۰ = ۰$$

پس نتیجه می‌گیریم که سودی نداشته است.

گزینه ۲ پاسخ صحیح است.

قیمت هر واحد کالا \times میزان کالای فروش رفته (= میزان کالای تقاضا شده) = درآمد

$$\text{درآمد در سال جاری} = Q \times P$$

$$C = \text{هزینه‌های تولید در سال جاری}$$

هزینه‌های تولید در سال جاری - درآمد در سال جاری = سود در سال جاری

$$\Rightarrow \text{سود در سال جاری} = (Q \times P) - C$$

تورم (افزایش سطح عمومی قیمت‌ها) در سال جاری باعث می‌شود هم قیمت هر واحد کالای تولیدی و هم میزان هزینه‌های تولید در سال آینده افزایشی به میزان ۳۲ درصد داشته باشند.

اگر تقاضا تغییری نکند در نتیجه میزان کالای به فروش رفته نیز تغییری نخواهد کرد. در نتیجه خواهیم داشت:

$$\text{درآمد در سال آینده} = Q \times (0.32)P = 0.32(Q \times P)$$

$$\text{هزینه‌های تولید در سال آینده} = 0.32C$$

سود در سال آینده \Rightarrow هزینه‌های تولید در سال آینده - درآمد در سال آینده = سود در سال آینده

$$= 0.32(Q \times P) - 0.32C = 0.32((Q \times P) - C) = 0.32 \text{ سود سال قبل}$$

$$\text{درآمد کل} = ۶ / ۵ \text{ میلیارد}$$

گزینه ۲ پاسخ صحیح است.

$$\text{برای ۱۲ ماه ۷۲۰ میلیون} = ۶۰ \times ۱۲ \Rightarrow \text{اجاره ماهیانه باغ}$$

حقوق متوسط ماهیانه هر کارگر:

$$\begin{array}{l} \text{میلیون ۷۵} \quad \uparrow \\ \frac{1}{3} \times \text{اجاره وسایل} = ۲۵ \text{ م} \times ۱۲ \times ۱۲ = ۳۶۰۰ \text{ میلیون} \\ \quad \downarrow \\ \text{تعداد کارگر} \quad \uparrow \\ \text{تعداد ماه} \quad \downarrow \end{array}$$

اجاره وسایل و ابزار \leftarrow ۷۵ میلیون

خرید سم و کود مناسب \leftarrow ۴۰ میلیون

کرایه حمل و نقل محصول \leftarrow ۲۰ میلیون

حقوق ماهیانه باغدار و مهندسی \leftarrow

ماه های سال

$$\uparrow \\ ۱۲۰ \times ۱۲ = ۱۴۴۰ \text{ میلیون}$$

مجموع هزینه‌ها در طول سال:

$$\text{میلیون ۵۸۹۵} = \text{م ۱۴۴۰} + \text{م ۲۰} + \text{م ۴۰} + \text{م ۷۵} + \text{م ۳۶۰۰} + \text{م ۷۲۰}$$

پنج میلیارد و هشتصد و نود و پنج میلیون

$$\text{میلیون ۶۰۵} = ۶,۵۰۰,۰۰۰ - ۵,۸۹۵,۰۰۰,۰۰۰ \Rightarrow \text{سود} = \text{هزینه} - \text{درآمد}$$

نکته: اگر میزان هزینه ما از درآمد بیشتر باشد ما ضرر کرده‌ایم و اگر میزان درآمد ما از هزینه بیشتر سود برده‌ایم.

جواب گزینه ۲: ۶۰۵ میلیون سود

گزینه ۳ پاسخ صحیح است. ۴

- اشتیاق و توانایی حل مسئله ← پرانگیزه
- دلگرم و مطمئن به موفقیت اقتصادی ← خوشبین
- نظم و پایداری تحسین برانگیزی ← پرانگیزه
- با شجاعت و تدبیر - راه اندازی فعالیت اقتصادی جدید ← ریسک پذیر

گزینه ۱ پاسخ صحیح است. ۵

$$\text{میلیون تومان } ۱۲۰۰ = \frac{۱}{۸} \times ۸۰۰ \times ۱۲ = \left(\frac{۱}{۸} \text{ اجاره سالانه کارگاه} \right) \times ۱۲ = \text{هزینه خرید سالانه ماده اولیه}$$

$$\text{میلیون تومان } ۴۸۰ = ۴ \times ۱۰ \times ۱۲ = \text{دستمزد سالانه مجموع کارگران}$$

$$\text{میلیون تومان } ۱۴۴۰ = \left(\frac{۲۵}{۱۰۰} \times \text{دستمزد کارگران در سال} \right) \times ۱۲ = \text{هزینه آب، برق، گاز و اجاره سالانه}$$

$$\text{میلیون تومان } ۱۴۴۰ = \frac{۲۵}{۱۰۰} \times ۴۸۰ \times ۱۲ =$$

$$\text{میلیون تومان } ۸۰۰ = \text{سرمایه فیزیکی}$$

$$\text{تومان } ۱۰,۸۰۰,۰۰۰,۰۰۰ = ۱۵۰۰ \times ۶۰۰,۰۰۰ \times ۱۲ = \text{درآمد سالانه حاصل از فروش محصولات}$$

$$\text{میلیون تومان } ۲۴۰ = ۲۰ \times ۱۲ = \text{هزینه فرصت سالانه}$$

$$= \text{مجموع هزینه های کارگاه تولید کف با احتساب هزینه فرصت}$$

$$\text{میلیون تومان } ۴۱۶۰ = ۱۲۰۰ + ۴۸۰ + ۱۴۴۰ + ۸۰۰ + ۲۴۰ =$$

چون میزان درآمد از هزینه ها بیشتر است، تولیدکننده از فعالیت خود سود برده است.

$$= \text{مجموع هزینه های تولید (هزینه های مستقیم و هزینه فرصت) - درآمد} = \text{سود واقعی}$$

$$\text{تومان } ۶,۶۴۰,۰۰۰,۰۰۰ = ۱۰,۸۰۰ - ۴۱۶۰ = \text{میلیون تومان } ۶۶۴۰ =$$

گزینه ۴ پاسخ صحیح است. ویژگی های مشترک کارآفرینان موفق: ۶

نوآور	ایده ها را به محصولات جدید، فرایندها و یا کسب و کارهای جدید تبدیل می کنند.
خوشبین	کارآفرینان واقع بین هستند اما مطمئن و دلگرم به موفقیت اقتصادی هستند.
یادگیرنده	از کارشناسان، همکاران و مشتریان می آموزند و خود را با شرایط بازار وفق می دهند.
پرانگیزه	نظم، انضباط، پایداری، اشتیاق و توانایی حل مسئله را دارند.

گزینه ۱ پاسخ صحیح است. ۷

$$\text{میلیون ریال } ۳۰ = \text{اجاره سالانه کارگاه}$$

$$\text{میلیون ریال } ۳۰۰ = ۱۰ \times ۳۰ = \text{اجاره سالانه کارگاه } ۱۰ \times = \text{هزینه خرید ماشین آلات}$$

$$\text{میلیون ریال } ۶۰ = ۲ \times ۳۰ = \text{اجاره سالانه کارگاه } ۲ \times = \text{هزینه خرید ماده اولیه}$$

$$\text{میلیون ریال } ۱۵۰ = \text{هزینه پرداخت حقوق سالانه}$$

$$\text{میلیون ریال } ۶۰۰ = ۱۰ \times ۶۰ = \text{هزینه خرید ماده اولیه } ۱۰ \times = \text{درآمد حاصل از فروش محصولات}$$

$$\text{میلیون ریال } ۵۴۰ = ۳۰ + ۳۰۰ + ۶۰ + ۱۵۰ = \text{مجموع هزینه های تولید کارگاه}$$

چون میزان درآمد از هزینه ها بیش تر است، تولیدکننده از فعالیت خود سود برده است.

$$\text{میلیون ریال } ۶۰ = ۶۰۰ - ۵۴۰ = \text{هزینه های تولید} - \text{درآمد} = \text{سود}$$

توجه: خرید ماشین فرزند مدیر کارخانه جزو هزینه های تولید کارگاه تولیدی نیست.

گزینه ۴ پاسخ صحیح است. ۸

میلیون تومان ۵۶۰ = درآمد سالانه

$$\text{میلیون تومان } ۱۴۰ = \frac{۱}{۴} \times ۵۶۰ = \text{درآمد سالانه شرکت} \times \frac{۱}{۴} = \text{هزینه سالانه}$$

$$\text{میلیون تومان } ۴۲۰ = ۵۶۰ - ۱۴۰ = \text{هزینه سالانه} - \text{درآمد سالانه شرکت} = \text{سود سالانه}$$

قیمت هر فعالیت خدماتی ارائه شده \times تعداد خدمات ارائه شده = درآمد سالانه

$$\Rightarrow ۵۶۰,۰۰۰,۰۰۰ = ۷۰۰ \times x \Rightarrow x = \frac{۵۶۰,۰۰۰,۰۰۰}{۷۰۰} = ۸۰۰,۰۰۰ \text{ تومان} = ۸۰۰,۰۰۰ \times ۱۰ = ۸,۰۰۰,۰۰۰ \text{ ریال}$$

نکته: برای تبدیل تومان به ریال، عدد موردنظر را در عدد ۱۰ ضرب می‌کنیم (به بیان ساده‌تر یک صفر به عدد اضافه می‌کنیم) و برعکس برای تبدیل ریال به تومان، عدد موردنظر را بر عدد ۱۰ تقسیم می‌کنیم (به بیان ساده‌تر یک صفر از عددمان کم می‌کنیم).

گزینه ۲ پاسخ صحیح است. تعاونی‌ها مراحل راه‌اندازی کم و بیش مشابهی با شرکت‌ها دارند، اما نحوه اداره آن‌ها بر اساس هر نفر یک رای است یعنی هر کدام از اعضا صرف نظر از اینکه چقدر از سرمایه تعاونی را تأمین کرده باشد یک رأی خواهند داشت اما توزیع سود احتمالی در پایان دوره به نسبت سرمایه هر عضو است. پس گزینه ۲ گزینه صحیح می‌باشد. ۹

گزینه ۱ پاسخ صحیح است. ۱۰

الف) تعاونی: شرکت تعاونی کسب‌وکاری است که با هدف تأمین نیازمندی‌های اعضا تشکیل می‌شود و به بهبود وضعیت اقتصادی آن‌ها کمک می‌کند. در تعاونی تولید، تعدادی تولیدکننده جهت بهره‌مندی از مزایای فعالیت‌های اقتصادی با مقیاس بزرگ، گرد هم می‌آیند و با اقدامات جمعی منفعت خود را بیشینه می‌کنند.

ب) شرکت سهامی: دولت برای شرکت‌ها قوانینی دارد تا به سرمایه‌گذاران اطمینان بدهد و کمک کند تا فریب نخورند. پذیرش و عمل به چنین قوانینی زمان‌بر و پرهزینه است و به مشاوره‌های حقوقی نیاز دارد. برای تشکیل شرکت، ممکن است به وکیل نیاز داشته باشید تا شما را برای تکمیل اساسنامه شرکت و سایر اسناد مورد نیاز کمک کند.

ج) کسب‌وکار شخصی: کسب و کار شخصی متعلق به یک شخص است. (بسیاری از کسب‌وکارها در ایران به شکل شخصی است.) بیشتر کسب‌وکارهای شخصی کوچک مقیاس‌اند و در همه نوع فعالیتی از کشاورزی تا صنعت به ویژه خدمات حضور دارند.

د) کسب‌وکار شخصی

گزینه ۳ پاسخ صحیح است. شرکت کسب‌وکاری است که خودش هویت قانونی دارد به این منظور که قانون با شرکت مانند انسان رفتار می‌کند و شرکت‌ها مانند انسان‌ها حقوق و تعهدات خاصی دارند. همچنین شرکت پیچیده‌ترین نوع کسب‌وکار نیز می‌باشد. ۱۱

گزینه ۱ پاسخ صحیح است.

- نمونه‌هایی از کسب‌وکارهای شخصی: مشاغل خویش‌فرمایی (مانند تعمیرکاران خودرو و لوازم خانگی)، بنگاه‌های معاملات ملکی، خرده‌فروشان، کشاورزان، صنعتگران خرد و هنرمندان / در زمینه‌های تخصصی مانند پزشکی، دندان‌پزشکی، وکالت و حسابداری اغلب کسب‌وکارها شخصی‌اند.

مزایای کسب و کار شخصی	معایب کسب و کار شخصی
راه‌اندازی آسان و هزینه‌های نسبتاً اندک	بار سنگین مسئولیت (همه‌چیز به شما برمی‌گردد، حتی در ناخوشی و سفر)
آزادی عمل و سهولت در تصمیم‌گیری (تصمیم‌گیری در مورد بازاریابی، تغییر شرایط بازار و ...)	مشکل تامین مالی (پس‌انداز شخصی و قرض از دوستان و خانواده)
مالکیت کامل سود	مسئولیت نامحدود در مقابل بدهی‌ها و دعاوی
منافع مالیاتی (فقط یک بار مالکیت بر درآمد می‌دهید)	-

تعاونی کشاورزان پنبه: تعاونی

تعدادی تولیدکننده جهت بهره‌مندی از مزایای فعالیت‌های اقتصادی با مقیاس بزرگ، گرد هم می‌آیند و با اقدامات جمعی منفعت خود را بیشینه می‌کنند.

- به عنوان مثال: تعاونی کشاورزی را عده‌ای از کشاورزان تشکیل می‌دهند تا برای تهیه بذر مرغوب و تهیه سموم و کود و نیز امکان بازاریابی، تبلیغات جمعی و ایجاد زنجیره توزیع به آن‌ها کمک کند.
شرکت سهامی:

مزایای ایجاد شرکت (سهامی)	معایب ایجاد شرکت (سهامی)
مسئولیت محدود برای سهام‌داران (ضرر و بدهی سهام‌داران محدود به میزان سهام)	هزینه‌های راه‌انداز بالاتر
امکان افزایش سرمایه و تامین مالی بانکی (از طریق افزایش سهام‌داران یا افزایش سرمایه آن‌ها و نیز وام‌های بانکی)	تاخیر در تصمیم‌گیری
امکان رقابت بالاتر (به دلیل مقیاس تولید بالا، امکان سرمایه‌گذاری بیشتر و قیمت پایین‌تر نسبت به رقبا)	پیچیدگی در رابطه مدیریت و مالکیت و موفقیت‌های غیرفردی
تخصص‌گرایی بیشتر (امکان جذب افراد توانمندتر در زمینه‌های تخصصی و ویژه)	تقسیم سود به تناسب مالکیت سهام
-	قوانین پیچیده‌تر و گزارش‌دهی بیشتر

مؤسسه حمایت از کودکان: مؤسسه غیرانتفاعی و خیریه

- یک مؤسسه غیرانتفاعی، نهادی قانونی است که برای انجام مأموریتی غیرسودآور، یعنی با هدفی غیرتجاری شکل گرفته است.

- این مأموریت‌ها اغلب زمینه‌هایی انسانی و اجتماعی دارند؛ مانند امور خیریه، آموزش، توسعه علمی و دینی، بهداشت و سلامت و ...

- محدوده عمل آن‌ها گاهی محلی، گاهی ملی و حتی جهانی است.

گزینه ۴ پاسخ صحیح است. ۱۳

الف) زنجیره‌ی خلق ارزش به تمامی مراحل ایجاد ارزش افزوده می‌گویند.
 ب) محصولات راهبردی: کالاها و خدماتی را که تولید آن‌ها بدون توجه به میزان سود، هزینه و بازار و ... انجام می‌شود.
 ج) در حسابداری ملی فقط آن دسته از فعالیت‌های تولیدی (اعم از تولید کالاها یا خدمات) در محاسبه و سنجش منظور می‌شود که دارای شروط زیر باشند:
 ۱) از بازار عبور کند: یعنی تولیدکننده در مقابل دریافت پول، آن کالا یا خدمت را به مصرف‌کننده تحویل دهد.
 - فعالیت تولیدی زنان در مزرعه‌ها (فعالیت تولیدی زنان در خانه و تولید کالاها و خدماتی به صورت غذا، بهداشت و تربیت فرزندان و یا کاشت سبزیجات در منزل برای مصرف خانگی در حسابداری ملی منظور نمی‌شود).
 ۲) فعالیت‌هایی که به تولید کالا یا خدمات نهایی منتهی شود.
 ۳) قانون و مجاز باشند.

گزینه ۳ پاسخ صحیح است. اشتباهات رایج در تصمیم‌گیری (عوامل رفتارهای غیرمنطقی): ۱۴
 ۱- اثرگذاری حقه‌های فروش بر تصمیم‌گیری‌ها: ترجیح دادن کالایی ۱۶۰ هزار تومانی که ۵۰ درصد تخفیف دارد بر کالایی با قیمت ۸۰ هزار تومان - خرید صرفاً به دلیل حراج یا فروش ویژه
 ۲- توجه به هزینه‌های هدر رفته: خوردن کامل غذایی که سفارش داده‌اید ولی آن را دوست ندارید، صرفاً به دلیل پول پرداخت شده بابت آن غذا - رفتن به کلاس بی‌کیفیت، صرفاً به دلیل پرداخت کامل شهریه آن. (ب)
 ۳- بی‌صبری زیاد: سراغ کالاهای کم‌ارزش آنی رفتن، به جای صبر در تحصیل و یادگیری و بهره‌مندی از منافع آنی - برای تأمین هزینه‌های مصرف فعلی، زیر بار سنگین انواع بدهی‌ها رفتن (الف)
 ۴- اعتماد به نفس بیش از حد یا خودرأی بودن: خوش‌بینی زیاد درباره درآمد آینده و پس‌انداز کمتر برای نیازهای آنی - سرمایه‌گذاری در زمینه‌های پرخطر، بدون آمادگی (ج)
 ۵- چسبیدن به وضعیت فعلی: چسبیدن به وضعیت فعلی و پرهیز از بررسی گزینه‌های جدید با رویکرد منطقی هزینه - فایده

گزینه ۴ پاسخ صحیح است. اصول و قوانین انتخاب درست:

قانون اول: منابع خود را شناسایی کنید و بدانید که آنها کمیاب‌اند!

توضیحات: طبقه‌بندی منابع تولید: منابع طبیعی، نیروی کار و سرمایه

افراد قبل از اخذ تصمیمات خود، در ذهن خود دو سؤال اساسی دارند:

اصل اول: منابعی که در اختیار دارید پایان‌ناپذیر نیست بلکه برعکس، کاملاً محدود است.

اصل دوم: در آن واحد نمی‌توانید از یک چیز دو استفاده متفاوت بکنید؛ (هر چیزی دارای محدودیت در استفاده است).

قانون دوم: هزینه فرصت هر انتخاب را محاسبه کنید!

توضیحات: محدودیت منابع، مفهوم «هزینه فرصت» را به همراه دارد. هزینه فرصت یک انتخاب، ارزش بهترین گزینه بعدی

است که فرد آن را هنگام انتخاب از دست داده است.

به دلیل وجود کمیابی در امکانات و داشته‌ها، همیشه باید بین گزینه‌های انتخاب، «بده - بستان» کرد. «بده بستان» یعنی:

چیزی را رها کرده تا چیز دیگری را به دست آوریم.

قانون سوم: قید بودجه خود را ترسیم کنید!

توضیحات: وقتی شما مقدار مشخص و محدودی پول برای خرج کردن دارید، در این حالت می‌گوییم شما یک «قید بودجه»

دارید. بودجه شما محدود است، بنابراین مجبورید بین گزینه‌های خود بده - بستان کنید.

قانون چهارم: هزینه‌های هدررفته را فراموش کنید!

توضیحات: هزینه‌هایی که پرداخت شده است و شما نمی‌توانید آن را بازگردانید «هزینه هدررفته» نام دارد؛ این هزینه‌ها نباید

تأثیری در انتخاب و تصمیم شما داشته باشد. هزینه‌های هدر رفته همانند پولی است که به یک چاه عمیق افتاده و دیگر قابل

دسترس نیست. تنها هزینه مؤثر بر تصمیم‌گیری: هزینه‌هایی که در زمان تصمیم‌گیری به وجود می‌آیند. برای اتخاذ یک تصمیم

خوب، تشخیص تفاوت هزینه‌هایی که بر تصمیم شما تأثیر می‌گذارد، بسیار مهم است و هزینه‌های هدر رفته مهم نیست.

(هزینه‌های هدررفته دیگر رفته‌اند و قابل برگشت نیست.) فهمیدن اینکه هزینه‌ها را چطور ارزیابی کنیم، تنها بخشی از گرفتن

یک تصمیم خوب است. باید هزینه‌ها در مقابل منافع سنجیده شوند.

قانون پنجم: بین هزینه‌ها و منافع خود، مقایسه کنید!

توضیحات: برای یک تصمیم‌گیری منطقی: باید تمام منافع با تمام هزینه‌ها مقایسه شود. (در نهایت به این نتیجه برسیم که در

گزینه انتخاب شده، منافع بیشتر از هزینه‌هاست.)

- بهترین تصمیم به نوع رویکرد فرد بستگی دارد.

دو نوع گسترده از انواع تصمیمات وجود دارد: ۱- انتخاب از میان گزینه‌های مختلف است. (گاهی اوقات گزینه‌های تصمیم ما

این است که مطالعه کنیم یا به گردش برویم) ۲- انتخاب چه مقدار از هر چیز. (گاهی درباره میزان مطالعه یا مدت زمان گردش

در حال تصمیم‌گیری هستیم.)

گزینه ۲ پاسخ صحیح است. ۱۶

- محدودیت منابع، مفهوم «هزینه فرصت» را به همراه دارد.
- هزینه فرصت یک انتخاب، ارزش بهترین گزینه بعدی است که فرد آن را هنگام انتخاب از دست داده است.
- پس از اولویت‌بندی گزینه‌ها، وقتی اولین اولویت را انتخاب کردیم، بهترین اولویت بعدی، هزینه فرصت انتخاب ما خواهد بود. (البته این اولویت‌بندی برای اشخاص مختلف، متفاوت است.)
- ابتدا باید میزان بازدهی (سود) ناشی از هر سرمایه‌گذاری را به دست آوریم:
- (نکته: ۲ میلیارد تومان برابر با ۲۰۰۰ میلیون تومان است.)

سود معاملاتی سهام + سود سهام = سود سالیانه سرمایه‌گذاری در سازمان بورس اوراق بهادار

$$= \left(2,000 \times \frac{15}{100} \right) + \left(2,000 \times \frac{10}{100} \right) = 300 + 200 = 500 \text{ میلیون تومان}$$

$$\text{میلیون تومان} = 2,000 \times \frac{20}{100} = 400 \text{ سود سالیانه بانک}$$

$$\text{میلیون تومان} = 225 = 225,000,000 = 250 \times 900,000 = \text{سود سالیانه راه‌اندازی شرکت خدمات ساختمانی}$$

در نتیجه سرمایه‌گذاری در بازار بورس بهترین و سودآورترین انتخاب است.

منافع بهترین انتخاب بعدی که سرمایه‌گذاری در بانک (با سود سالیانه ۴۰۰ میلیون تومان) است ولی فرد از آن صرف‌نظر کرده است، هزینه فرصت انتخاب فرد محسوب می‌شود.

نکته: تفاوت سود سهام و سود معاملاتی:

سود سهام: مبلغی است که شرکت از سود خالص خود به سهام‌داران پرداخت می‌کند. حتی اگر قیمت سهام تغییر نکند، باز هم ممکن است سود سهام دریافت کنید.

سود معاملاتی: سودی که از افزایش قیمت سهام به دست می‌آید، وقتی که سهام را به قیمتی بالاتر از قیمت خرید می‌فروشید.

این نوع سود ریسک‌پذیرتر است؛ چون قیمت سهام ممکن است کاهش هم پیدا کند.

گزینه ۳ پاسخ صحیح است. ۱۷

الف) در نقطه‌ای که در آن میزان تولید گندم بیشتر از سایر نقاط است، ارزش تولید گندم نیز بیشتر از سایر نقاط می‌باشد. در نقطه D میزان تولید گندم ۶۰ تن و بیشتر از سایر نقاط است.

ب) برای یک تصمیم‌گیری منطقی باید: تمام منافع با تمام هزینه‌ها مقایسه شود. در نهایت به این نتیجه برسیم که در گزینه انتخاب شده، منافع بیشتر از هزینه‌هاست.

۱۸

گزینه ۳ پاسخ صحیح است.

الف) هزینه فرصت حرکت از نقطه ب به نقطه الف میزان دارویی است که از داروخانه از خرید آن صرف نظر کرده است تا بتواند میزان بیشتری شامپو بخرد.

در نقطه ب ۳۲۰۰ واحد دارو و در نقطه الف ۲۰۰۰ دارو خریداری می‌شود، بنابراین هزینه فرصت حرکت از نقطه ب به نقطه الف، ۱۲۰۰ واحد دارویی است ($3,200 - 2,000 = 1,200$) که از خرید آن صرف نظر شده است، اما در صورت سؤال ارزش هزینه فرصت به ریال خواسته شده است و نه براساس واحد یا تعداد کالایی که از خرید آن صرف نظر کرده‌ایم؛ در نتیجه خواهیم داشت:

= ارزش هزینه فرصت

ارزش هر واحد از کالایی که از خرید آن صرف نظر شده است \times تعداد (واحد) کالایی که از خرید آن صرف نظر شده است

$$= (3,200 - 2,000) \times 450 = 1,200 \times 4,500 = 5,400,000 = 5,400 \text{ تومان} = 5,400,000 \times 10 = 54,000,000 \text{ ریال}$$

ب) هر نقطه بر روی نمودار خط بودجه، نشان‌دهنده مقدار کالای دارو و شامپو است که داروخانه می‌تواند با بودجه مشخص ۱۸ میلیون تومان بخرد، در نتیجه خواهیم داشت:

$$18,000,000 = (3,200 \times 4,500) + (x \times 6,000) \Rightarrow 18,000,000 = 14,400,000 + (x \times 6,000)$$

$$\Rightarrow 18,000,000 - 14,400,000 = x \times 6,000 \Rightarrow 3,600,000 = x \times 6,000 \Rightarrow \frac{3,600,000}{6,000} = 600 \text{ واحد}$$

گزینه ۴ پاسخ صحیح است. قبل از هر تصمیمی در انتخاب کسب‌وکار، قوانینی باید رعایت شود، این قوانین به ترتیب عبارت‌اند از:

قانون اول: منابع خود را شناسایی کنید و بدانید که آنها کمیاب‌اند!

قانون دوم: هزینه فرصت هر انتخاب را محاسبه کنید!

قانون سوم: قید بودجه خود را ترسیم کنید!

قانون چهارم: هزینه‌های هدررفته را فراموش کنید!

قانون پنجم: بین هزینه‌ها و منافع خود، مقایسه کنید!

۱۹

گزینه ۳ پاسخ صحیح است. هزینه فرصت: ارزش بهترین گزینه بعدی که هنگام انتخاب جدی از دست رفته سرمایه اولیه ۳۰۰ میلیون

$$300 \times \frac{20}{100} = 60 \text{ میلیون} \quad \leftarrow \text{خرید و فروش وسایل ورزشی سالانه ۲۰ درصد}$$

راه‌اندازی کارگاه \leftarrow سود ۱۰۲ میلیون در سال \leftarrow سود سالانه ۵۱ میلیون

$$300 \times \frac{18}{100} = 54 \text{ میلیون} \quad \leftarrow \text{سپرده‌گذاری در بانک (۱۸ درصد سود)}$$

بهترین انتخاب سرمایه‌گذاری در بورس \leftarrow ۸۴ میلیون

۲۰

گزینه ۱ پاسخ صحیح است. اشتباهات رایج در تصمیم‌گیری (عوامل رفتارهای غیرمنطقی):
عدم توجه به هزینه‌های در رفته:

- خوردن کامل غذایی که سفارش داده‌اید ولی آن را دوست ندارید، صرفاً به دلیل پرداخت شده بابت آن غذا
- رفتن به کلاس بی‌کیفیت، صرفاً به دلیل پرداخت کامل شهریه آن
- (وقتی کتابی را خریده‌ایم آن را دوست نداریم اما به خاطر پولی که داده‌ایم تا آخرش می‌خوانیم.)
- بی‌صبری زیاد:

- سراغ کارهای کم‌ارزش آنی رفتن، به جای صبر در تحصیل، یادگیری و بهره‌مندی از منافع آتی
- برای تأمین هزینه‌های مصرفی فعلی، زیر بار سنگین انواع بدهی‌ها رفتن
- (شخصی برای تکمیل نورپردازی باغچه منزل خود، زیر بار سنگین پرداخت اقساط آن می‌رود.)
- چسبیدن به وضعیت فعلی:

- چسبیدن به وضعیت فعلی و پرهیز از بررسی گزینه‌های جدید با رویکرد منطقی هزینه - فایده
- (لباس‌فروشی که حاضر نیست پیشنهاد شریک خود را برای فروش از طریق شبکه‌های اجتماعی بپذیرد.)

گزینه ۱ پاسخ صحیح است.

مثال	اشتباهات رایج در تصمیم‌گیری (عوامل رفتارهای غیرمنطقی)
	<p>اثرگذاری حقه‌های فروش بر تصمیم‌گیری‌ها</p> <p>- ترجیح دادن کالایی ۱۶۰ هزار تومانی که ۵۰ درصد تخفیف دارد بر کالایی با قیمت ۸۰ هزار تومان</p> <p>- خرید صرفاً به دلیل حراج یا فروش ویژه (مرتضی پیراهن ۴۵۰ هزار تومانی که ۵۰ درصد تخفیف دارد را بر پیراهن ۱۶۵ هزار تومانی ترجیح می‌دهد.)</p>
	<p>بی‌صبری زیاد</p> <p>- سراغ کارهای کم‌ارزش آنی رفتن، به جای صبر در تحصیل، یادگیری و بهره‌مندی از منافع آتی</p> <p>- برای تأمین هزینه‌های مصرف فعلی، زیر بار سنگین انواع بدهی‌ها رفتن</p> <p>(زیبا به چشن تولد دوستش دعوت شده است، همچنین برای کاهش زن و بیماری دیابت خود تحت رژیم غذایی خاصی است اما مقداری از کیک تولد را می‌خورد.)</p>
	<p>اعتماد به نفس بیش از حد یا خودرأی بودن</p> <p>- خوش‌بینی زیاد درباره درآمد آینده و پس‌انداز کمتر برای نیازهای آتی</p> <p>- سرمایه‌گذاری در زمینه‌های پرخطر، بدون آمادگی لازم (پدر مریم اخیراً علی‌رغم نبود مشتری کافی برای میوه آناناس تصمیم گرفته است زمین بیشتری به این محصول اختصاص دهد.)</p>

گزینه ۲ پاسخ صحیح است. ۲۳

ارزش محصول در مرحله‌ی قبل - ارزش محصول در مرحله = ارزش افزوده‌ی محصول در هر مرحله
 ریال $5,000 =$ ارزش محصول در مرحله‌ی اول = ارزش افزوده‌ی مرحله‌ی اول
 ارزش محصول در مرحله‌ی سوم - ارزش محصول در مرحله‌ی چهارم = ارزش افزوده‌ی مرحله‌ی چهارم
 \Rightarrow ارزش افزوده‌ی مرحله‌ی چهارم = $13,000 - 9,500 = 3,500$

ب و ج) روش‌های محاسبه‌ی تولید کل جامعه:

- ۱- روش هزینه‌ای: جمع ارزش پولی تولیدات نهایی که به خانوارها فروخته می‌شود. (چه به دست فروشنده نگاه کنیم و چه به دست مصرف‌کننده) در این روش ارزش پولی تولیدات نهایی را محاسبه می‌کنیم و بدیهی است که همه‌ی تولیدات واسطه‌ای و مواد اولیه در محاسبه‌ی کالاها و خدمات نهایی خودبه‌خود اندازه‌گیری شده است و نیازی به محاسبه‌ی مجدد آن‌ها نداریم.
- ۲- روش درآمدی: حاصل جمع درآمد تقسیم شده بین عوامل تولید (به صورت مزد، سود و اجاره)
- حاصل جمع درآمد همه‌ی بازیگران و فعالان اقتصادی داخلی یا ملی
- ۳- روش ارزش افزوده: مجموع ارزش‌های اضافه شده در هر مرحله‌ی تولیدی
- د) اقتصاددانان برای جلوگیری از اشتباه، حداقل دو روش را برای محاسبه به کار می‌گیرند و جواب‌ها را مقایسه می‌کنند.

گزینه ۱ پاسخ صحیح است. با افزایش قیمت یک کالا (با فرض ثابت بودن سایر عوامل)، مصرف‌کنندگان میزان مصرف با خرید خود را غالباً کاهش می‌دهند و بالعکس یا کاهش قیمت کالا، مقدار خرید آن افزایش می‌یابد.
 قیمت یک کالا و مقدار خرید آن به وسیله‌ی مصرف‌کنندگان با هم رابطه‌ی معکوس دارد. منحنی تقاضا نزولی است.
 نزولی بودن منحنی تقاضا به این معنا است که با افزایش قیمت کالا، مقدار تقاضای آن کاهش می‌یابد و در مقابل با کاهش قیمت، مقدار تقاضا افزایش می‌یابد.
 منحنی تقاضا نشان‌دهنده‌ی چگونگی رفتار اقتصادی مصرف‌کنندگان است. ۲۴

گزینه ۳ پاسخ صحیح است. ۲۵

ارزش محصول در مرحله‌ی قبل - ارزش محصول در مرحله = ارزش افزوده محصول در هر مرحله
 ریال $1000 = 7500 - 6500 =$ ارزش افزوده‌ی مرحله‌ی دوم
 ارزش مرحله در مرحله‌ی سوم - ارزش محصول در مرحله‌ی چهارم = ارزش افزوده‌ی مرحله‌ی چهارم
 ریال $800 = 1900 - 1100 =$ ارزش افزوده‌ی مرحله‌ی چهارم

ب) روش‌های محاسبه‌ی تولید کل جامعه:

- ۱- روش هزینه‌ای: جمع ارزش پولی تولیدات نهایی که به خانوارها فروخته می‌شود. (چه به دست فروشنده نگاه کنیم و چه به دست مصرف‌کننده) در این روش ارزش پولی تولیدات نهایی را محاسبه می‌کنیم و بدیهی است که همه‌ی تولیدات واسطه‌ای و مواد اولیه در محاسبه‌ی کالاها و خدمات نهایی خودبه‌خود اندازه‌گیری شده است و نیازی به محاسبه‌ی مجدد آن‌ها نداریم.
- ۲- روش درآمدی: حاصل جمع درآمد تقسیم شده بین عوامل تولید (به صورت مزد، سود و اجاره)
- حاصل جمع درآمد همه‌ی بازیگران و فعالان اقتصادی داخلی یا ملی
- ۳- روش ارزش افزوده: مجموع ارزش‌های اضافه شده در هر مرحله‌ی تولیدی
- ج) اقتصاددانان برای جلوگیری از اشتباه، حداقل دو روش را برای محاسبه به کار می‌گیرند و جواب‌ها را مقایسه می‌کنند.

۲۶ گزینه ۴ پاسخ صحیح است.

الف) کالای سرمایه‌ای: به کالاهای بادوامی که در فرایند تولید از سوی نیروی انسانی به کار گرفته می‌شود، کالای سرمایه‌ای گویند.

یخچال در منزل کالای بادوام مصرفی و یخچال در مغازه‌ی بستنی‌فروشی کالای سرمایه‌ای است. تراکتور، ماشین‌آلات کارخانه‌ها و ابزار تولیدی، مثال‌های دیگر کالای سرمایه‌ای است.

ب) انسان در بهره‌برداری از منابع و امکانات موجود محدودیت دارد و منابع و امکانات محدود نیز محدود است (کمیابی).

ج) نمونه کالاهای ضروری: خوراک، پوشاک، مسکن، نمک، دارو

نمونه کالاهای سرمایه‌ای: یخچال در مغازه‌ی بستنی‌فروشی، تراکتور و ماشین‌آلات کارخانه‌ها و ابزار تولیدی

نمونه کالاهای لوکس و تجملی: نورافشان، فرش‌های گران قیمت

۲۷ گزینه ؟ پاسخ صحیح است.

۲۸ گزینه ۱ پاسخ صحیح است.

الف) در نوع اول تولید، انسان با اختیار داشتن منابع و محصولات طبیعی، و همچنین با کار خود و استفاده از ابزار، منابع طبیعی را به تولید می‌رساند. مثل زراعت، باغبانی و پرورش ماهی. به این نوع از تولید احیا می‌گویند.

ب) اگر فردی به رغم تغییر زیاد قیمت کالا در بازار، مصرف آن‌را تغییر ندهد، به اصطلاح اقتصادی کالای ضروری است و اگر فرد با کوچک‌ترین تغییر در قیمت، مصرف کالا را تغییر دهد، اصطلاحاً آن کالا، کالای تجملی نام دارد.

ج) از نظر اقتصاددانان اصل فایده - هزینه در محاسبه‌ی هزینه‌ی فرصت لحاظ می‌شود.

۲۹ گزینه ۳ پاسخ صحیح است.

حالت درست گزینه الف) وقتی تولید در کشوری ناکارا باشد با تولید بیشتر از یک کالا شرایط برتر شدن تولید کالای دیگر فراهم نمی‌شود.

حالت درست گزینه د) با استفاده از تمام فرصت‌ها و منابع موجود کشور نمی‌توان به فراتر از مرز امکانات تولید دست پیدا کرد.

۳۰ گزینه ۱ پاسخ صحیح است. الگوی مرز امکانات تولید یکی از الگوهای اقتصادی است که اجازه می‌دهد تا درک بهتری از بده -

بستان‌های یک کشور در استفاده از منابع کمیاب پیدا کنید.

۳۱ گزینه ۲ پاسخ صحیح است. با حرکت در روی مرز امکانات تولید و جابه‌جا شدن بین نقاطی که روی مرز امکانات تولید قرار

می‌گیرند به معنای بده‌بستان بین کالاهای مختلف است. یعنی یکی را بیشتر انتخاب می‌کنیم و یکی کمتر، و در مثال روبه‌رو با

حرکت از نقطه الف به سمت نقطه ب، تولید کالای A کاهش می‌یابد و در مقابل میزان تولید کالای B افزایش می‌یابد و

جابه‌جایی مرز امکانات تولید و دسترسی به نقاط غیرقابل دسترسی بیانگر رشد و پیشرفت اقتصادی است که موجب دسترسی

به نقاطی می‌شود که پیش از رشد اقتصادی ممکن نبوده است.

گزینه ۲ پاسخ صحیح است. در نقطه الف ۹۰۰۰ عدد شکلات و ۲۰۰۰ عدد بستنی تولید می‌شود. ۳۲

در نقطه ب ۳۰۰۰ عدد شکلات و ۵۳۳۳ عدد بستنی تولید می‌شود.

بنابراین هزینه فرصت حرکت از نقطه الف به نقطه ب، ۶۰۰۰ عدد شکلاتی است ($۹,۰۰۰ - ۳,۰۰۰ = ۶,۰۰۰$) که از تولید آن صرف‌نظر شده است، اما در صورت سؤال ارزش هزینه فرصت به ریال خواسته شده است و نه براساس واحد یا تعداد کالایی که از خرید آن صرف‌نظر کرده‌ایم؛ در نتیجه خواهیم داشت:

تعداد (واحد) کالایی که از تولید آن صرف‌نظر شده است = ارزش هزینه فرصت

ارزش هر واحد از کالایی که از تولید آن صرف‌نظر شده است \times

= میلیون تومان ۱۵ = تومان ۱۵,۰۰۰,۰۰۰ = $۶,۰۰۰ \times ۲,۵۰۰$

گزینه ۱ پاسخ صحیح است. ۳۳

الف: تغییر مکان از نقطه ۳ به نقطه ۴ (تغییر مکان از یک نقطه ناکارا به یک نقطه کارا)

نقطه ۳ زیر منحنی مرز امکانات تولید است و تولید در این نقطه ناکارا است. (هر نقطه زیر منحنی مرز امکانات تولید،

نشان‌دهنده این است که اقتصاد از بیشترین منابع استفاده نکرده است، زیرا حداقل بیشتر از یک کالا می‌توانست تولید کند، بدون این‌که تولید کالاهای دیگر کاهش یافته یا حذف گردند.) در نتیجه برای تغییر مکان از نقطه ۳ به نقطه ۴ (تغییر مکان از یک نقطه ناکارا به یک نقطه کارا) نیازی به انتقال منابع از تولید یک کالا به تولید کالای دیگر نیست.

ب: تغییر مکان از نقطه ۴ به نقطه ۱: (تغییر مکان از یک نقطه کارا به یک نقطه کارای دیگر در طول منحنی مرز امکانات تولید) عوامل و منابع تولیدی در حالت کارا هستند و بنگاه تولیدی با این جابه‌جایی متحمل هزینه فرصت می‌شود چرا که در حالت کارایی برای تولید مقادیر بیشتری از یک کالا باید از میزان تولید کالای دیگر کاست.

ج: تغییر مکان از نقطه ۲ به نقطه ۳: (تغییر مکان از یک نقطه کارا به یک نقطه ناکارا)

ناکارایی منابع تولید و رکود اقتصادی سبب این تغییر وضعیت شده است.

گزینه ۱ پاسخ صحیح است. وقتی تولید ناکارا باشد این امکان وجود دارد که حداقل بیشتر از یک کالا تولید شود؛ بدون آنکه از ۳۴

تولید کالاهای دیگر کاسته شود.

گزینه ۱ پاسخ صحیح است. ۳۵

قسمت اول: زمان بیکاری دوره‌ای در زمان رکود اقتصادی اتفاق می‌افتد. در رکود اقتصادی شرکت‌ها نیروی خود را تعدیل می‌کند و میزان تولید داخلی کم می‌شود. پس مرز امکانات تولید منتقل می‌شود.

قسمت دوم: زمانی که منابع در دسترس ما افزایش پیدا می‌کند خود امکانات تولید منتقل می‌شود.

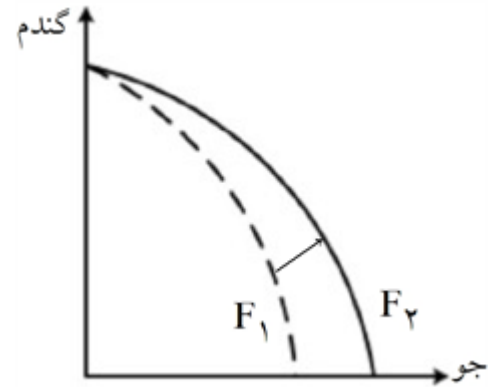
قسمت سوم: با فرض ثابت ماندن منابع در دسترس به دلیل تقاضای بیشتر غذا نسبت به پوشاک منابعی که داریم را بیشتر صرف تولید غذا می‌کنیم. در نتیجه روی منحنی مرز جابه‌جا می‌شویم.

۳۶

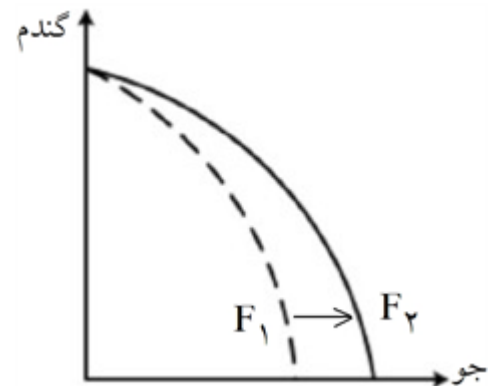
گزینه ۴ پاسخ صحیح است. عوامل مؤثر بر انتقال منحنی مرز امکانات تولید به خارج:

- هر عاملی که میزان مواد اولیه و منابع تولید یک کارخانه را افزایش دهد مانند افزایش مواد اولیه، افزایش نیروی کار، استخدامی، افزایش سرمایه‌های فیزیکی (ماشین‌آلات و ...) و سرمایه‌های مالی و یا پیدایش یک تکنولوژی و پیشرفت که امکان تولید بیشتر کالاها و خدمات را فراهم می‌آورد، منجر به انتقال منحنی مرز امکانات تولید به خارج می‌شود. این انتقال منحنی مرز امکانات تولید به خارج سه حالت دارد:

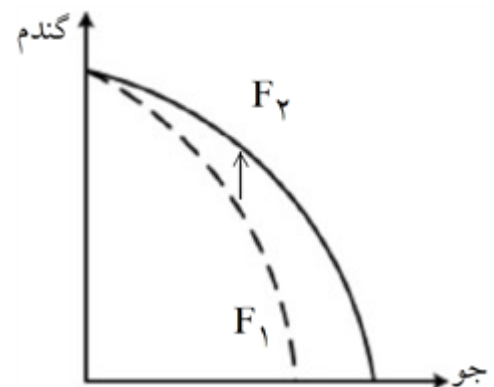
حالت اول: اگر منابع برای تولید هر دو کالا افزایش یابد منحنی به صورت زیر جابه‌جا می‌شود: (که در این سؤال نیز منابع برای تولید هر دو کالا افزایش یافته است.)



حالت دوم: اگر تنها منابع برای تولید یک کالا (در این‌جا مثلاً کالای جو) افزایش یابد و میزان تولید کالای دیگر ثابت بماند منحنی به صورت زیر جابه‌جا می‌شود:



حالت سوم: اگر تنها منابع برای تولید یک کالا (در این‌جا مثلاً کالای گندم) افزایش یابد و میزان تولید کالای دیگر ثابت بماند منحنی به صورت زیر جابه‌جا می‌شود:



۳۷

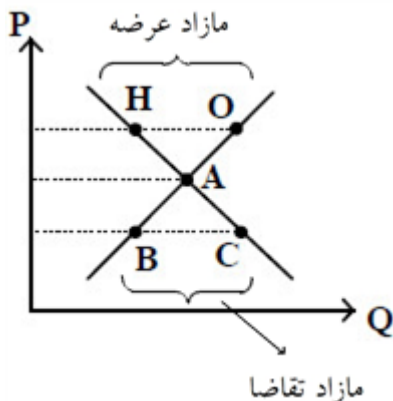
گزینه ۲ پاسخ صحیح است. برای به دست آوردن یک واحد y بیشتر، باید دو واحد x از دست داد.

به عنوان مثال در نقطه D ، ۲ واحد کالای x و ۳ واحد کالای y می‌توان خریداری کرد. در نقطه C ، ۴ واحد کالای x و ۲ واحد کالای y می‌توان خریداری کرد. در نتیجه برای حرکت از نقطه D به C (جهت به دست آوردن یک واحد y بیشتر) باید از دو واحد x صرف‌نظر کرد.

گزینه ۳ پاسخ صحیح است. به طور کلی بهتر است یک شرکت، به جای تولید در درون مرز امکانات تولید، بر روی مرز امکانات تولید کند و هر نقطه روی منحنی مرز امکانات تولید نشان می‌دهد که منابع کمیاب بین تولید دو کالای موردنظر تقسیم شده است.

گزینه ۳ پاسخ صحیح است. دارو ← کالای ضروری / تراکتور ← کالای سرمایه‌ای / نورافشان ← کالای تجملی
عوامل مولد انسانی ← کارفرما - نیروی کار - مدیر - سرمایه انسانی

گزینه ۱ پاسخ صحیح است. در نقاط H و O با مازاد عرضه روبه‌رو هستیم. در نتیجه قسمت محصول کاهش می‌یابد. و در نقاط B و C با مازاد تقاضا روبه‌رو هستیم در نتیجه قسمت افزایش می‌یابد.



گزینه ۳ پاسخ صحیح است.

قیمت محصول × میزان محصول فروش رفته (نه تولید شده) = درآمد فروشندگان در هر سطح از قیمت (الف)
در نقطه B درست است. تعداد ۳۰ عدد از کالا تولید شده، اما در این سطح از قیمت تنها ۱۰ عدد تقاضاکنندگان وجود دارد. در نتیجه درآمد فروشندگان در این نقطه برابر است با:

$$\text{تومان } 4000 = 40 \times 10 = \text{درآمد فروشندگان در هر نقطه B}$$

(ب) در نقطه D و سطح قیمت ۲۰۰ تومان

میزان تقاضا برابر با ۳۰ عدد و میزان عرضه برابر با ۱۰ عدد است. مشاهده می‌شود که در این سطح از قیمت میزان تقاضا بیشتر از میزان عرضه است و در اصطلاح گفته می‌شود بازار با مازاد تقاضا و یا کمبود عرضه مواجه است.

در بازار به دلیل پایین بودن قیمت و ارزان بودن کالا، تقاضاکنندگان میزان زیادی از کالا را تقاضا دارند؛ در حالیکه به دلیل ارزان بودن کالا و پایین بودن میزان سود، تولیدکنندگان تمایل چندانی به تولید کالا ندارند و تنها ۱۰ عدد از کالا را تولید می‌کنند. در نتیجه اگر تمامی ۱۰ عدد کالای تولید شده توسط تولیدکنندگان خریداری شود، هنوز تقاضاکنندگان در بازار برای کالا به میزان ۲۰ عدد تقاضا دارند ($30 - 10 = 20$) ولی تولیدکنندگان دیگر حاضر به تولید در این سطح از قیمت نیستند. در این شرایط اقتصاددانان می‌گویند بازار با مازاد تقاضایی معادل ۲۰ عدد مواجه است.

گزینه ۲ پاسخ صحیح است. بازار اشاره شده در صورت سؤال به بازار انحصاری فروش اشاره دارد. بازار انحصاری فروش بازاری است که در آن فقط یک فروشنده برای یک کالا یا خدمت خاص وجود دارد و هیچ رقیبی ندارد.
ویژگی‌های اصلی:

تنها تولیدکننده: فقط یک شرکت یا فروشنده وجود دارد.

نبود جایگزین: محصول یا خدمت مشابهی در بازار نیست.

کنترل قیمت: فروشنده می‌تواند قیمت را تا حد زیادی تعیین کند. در این بازار فروشنده قیمت‌گذار و خریداران قیمت‌پذیر هستند.)

گزینه ۳ پاسخ صحیح است. رابطه کالاهای مکمل به گونه‌ای است که افزایش قیمت یکی از کالاها بر روی تقاضای کالای دیگر تأثیر منفی می‌گذارد برای مثال، با افزایش قیمت چای میزان تقاضای مردم برای قند نیز کاهش می‌یابد و در گزینه ۳ هرگاه قیمت بنزین افزایش پیدا کند تقاضای مردم برای استفاده از اتومبیل شخصی نیز کاهش می‌یابد.

۴۳

گزینه ۳ پاسخ صحیح است.

۴۴

- مقدار تقاضا از یک کالا با قیمت آن رابطه‌ای عکس دارد.
- با افزایش قیمت، مقدار تقاضا کاهش می‌یابد و بالعکس
← به این رابطه، «قانون تقاضا» می‌گویند.

قانون تقاضا برای کلیه کالاها یکسان است به شرط اینکه فقط قیمت یک کالا تغییر کند و سایر عوامل ثابت باشد.
- در شرایطی که در جامعه تورم داریم و مصرف‌کنندگان پیش‌بینی افزایش قیمت کالاها را در آینده دارند، میزان خرید و تقاضای خود را افزایش می‌دهند.

- کالای پست: به کالایی گفته می‌شود که با افزایش درآمد، تقاضا برای آن کاهش می‌یابد. (علت کاهش تقاضا این است که مصرف‌کنندگان با افزایش درآمدشان به جای مصرف آن کالا روی به مصرف کالاهایی می‌آورند که کیفیت بالاتری داشته باشند.)
با فرض ثابت بودن قیمت کالا، تقاضا برای کالای پست به صورت معکوس با درآمد ارتباط دارد. افزایش در درآمد سبب کاهش در مقدار تقاضای کالای پست در هر قیمت می‌شود.

در نتیجه با توجه به این دو گزاره می‌توان نتیجه گرفت: «پیش‌بینی قیمت کالا در آینده و ویژگی کالای پست، دو رفتار مغایر با قانون تقاضا را توجیه می‌کند.»

گزینه ۳ پاسخ صحیح است.

۴۵

الف: کسب‌وکارهای خویش‌فرما: بنگاه

ب: ارائه سرمایه برای تولید کالاها و خدمات: خانوارها

ج: اجاره دادن زمین: خانوارها

دو گروه از مهم‌ترین تصمیم‌گیرندگان و بازیگران در اقتصاد: خانوارها و بنگاه‌ها هستند. خانوارها در دو حالت در اقتصاد مشارکت می‌کنند:

۱- خانوارها کالاها و خدمات موردنیاز را از کسب و کارها خریداری می‌کنند.

۲- خانوارها زمین، نیروی کار، سرمایه و کارآفرینی را برای تولید کالاها و خدمات خانوارها می‌کنند.

در اقتصاد بنگاه همان چیزی است که مردم معمولاً آن را به عنوان کسب‌وکار می‌شناسند. مؤسسات کسب‌وکارها یا همان بنگاه‌ها می‌توانند شامل: مزارع کشاورزی، فروشگاه‌ها، کسب‌وکارهای خویش‌فرمایی مثل: پیرایشگری، نقشه‌کشی و معماری ساختمان یا شرکت‌ها و کارگاه‌ها و کارخانه‌های تولیدی باشند.

برای تولید کالاها و خدمات، این بنگاه‌ها باید از خانوارها منابع را خریداری یا اجاره کنند. به عنوان مثال وقتی یک بنگاه مانند یک رستوران زنجیره‌ای افرادی را استخدام می‌کند، در واقع نیروی کار را از خانوارها اجاره می‌کند.

گزینه ۱ پاسخ صحیح است. ۴۶

قیمت کالا $(۵۰,۰۰۰) \times$ میزان کالای تولید شده و فروخته شده = درآمد تولیدکننده در قیمت ۵۰,۰۰۰ ریال (الف)

$$= ۲۰۰ \times ۵۰,۰۰۰ = ۱۰,۰۰۰,۰۰۰ \text{ ریال}$$

(ب) در سطوح قیمت پایین‌تر از قیمت تعادلی (قیمت تعادلی جایی است که در آن میزان عرضه و تقاضا با هم برابر شوند که با توجه به جدول در سطح قیمت ۲۵۰,۰۰۰ میزان عرضه و تقاضا با هم برابر می‌شوند ۱۰۰۰ کیلو) مصرف‌کنندگان به دلیل ارزان بودن کالا، مایل به خرید تعداد واحد بیش‌تری از کالا هستند. در این حالت در بازار این کالا، کمبود عرضه یا مازاد تقاضا وجود دارد. زیرا به دلیل ارزان بودن کالا، تقاضا برای آن زیاد است. در حالی‌که تولیدکنندگان برای تولید آن کالا به آن مقدار، انگیزه کافی ندارند. سطوح قیمت پایین‌تر از قیمت تعادلی، قیمت‌های ۵۰,۰۰۰ و ۱۰۰,۰۰۰ هستند.

قیمت کالا $(۱۰۰,۰۰۰) \times$ میزان تقاضای مصرف‌کنندگان = پرداختی مصرف‌کنندگان در قیمت ۱۰۰,۰۰۰ ریال (ج)

$$= ۲,۵۰۰ \times ۱۰۰,۰۰۰ = ۲۵۰,۰۰۰,۰۰۰ \text{ ریال} = ۲۵۰,۰۰۰,۰۰۰ \div ۱۰ = ۲۵,۰۰۰,۰۰۰ \text{ تومان} = ۲۵ \text{ میلیون تومان}$$

گزینه ۱ پاسخ صحیح است. با افزایش قیمت برنج، تقاضای ماکارانی بیشتر می‌شود. ۴۷

قیمت برنج \uparrow تقاضا \downarrow

کالاهای جانشین (ماکارانی) تقاضا \uparrow

گزینه ۳ پاسخ صحیح است. ۴۸

- نیمه بالایی نمودار، تبادل تولیدات را در بازار کالاها و خدمات (بازار محصولات) نشان می‌دهد.

- در بازار کالاها و خدمات، خانوارها خریدار و بنگاه‌ها فروشنده‌اند.

مسیر شماره ۱: جریان کالاها و خدمات را از بنگاه‌ها به خانوارها را نشان می‌دهد.

مسیر شماره ۲: پرداخت پول بابت کالا و خدمات خریداری شده در جهت مخالف جریان کالا و خدمات را نشان می‌دهد.

- پولی که خانوارها بابت خرید کالاها و خدمات پرداخت می‌کنند، با عبور از بازار محصولات به عنوان درآمد بنگاه دریافت می‌شود.

نکات مربوط به نیمه پایینی نمودار:

- تبادل عوامل تولید (زمین، نیروی کار، سرمایه و کارآفرینی) در بازار عوامل تولید را نشان می‌دهد.

- در بازار عوامل تولید، خانوارها فروشنده و بنگاه‌ها خریدار هستند.

- مسیر شماره ۳: پول بابت عوامل تولید خریداری شده (درآمد خانوارها) در جهت مخالف جریان عوامل تولید را نشان می‌دهد.

پولی که بنگاه‌ها بابت خرید عوامل تولید می‌پردازند، با عبور از بازار عوامل تولید، به عنوان درآمد خانوارها دریافت می‌شود.

درآمد خانوارها در بازار عوامل تولید: پرداخت‌هایی که بابت خرید منابع تولید به خانوارها پرداخت می‌شود.

مسیر شماره ۴: جریان عوامل تولید را از خانوارها به بنگاه‌ها را نشان می‌دهد.

گزینه ۱ پاسخ صحیح است. بررسی سایر گزینه‌ها: ۴۹

گزینه ۲: نادرست است؛ در بازار عوامل تولید داریم:

- تبادل عوامل تولید (زمین، نیروی کار، سرمایه و کارآفرینی) در بازار عوامل تولید را نشان می‌دهد.

- در بازار عوامل تولید، خانوارها فروشنده و بنگاه‌ها خریدار هستند.

- پولی که بنگاه‌ها بابت خرید عوامل تولید می‌پردازند، با عبور از بازار عوامل تولید، به عنوان درآمد خانوارها دریافت می‌شود.

درآمد خانوارها در بازار عوامل تولید: پرداخت‌هایی که بابت خرید منابع تولید به خانوارها پرداخت می‌شود.

گزینه ۳: نادرست است؛ بازار معنای خاصی در اقتصاد دارد. بازار به مجموعه خریداران و فروشندگان چیزی در هر جای ممکن اطلاق می‌شود.

گزینه ۴: نادرست است؛ مبادلات در بازار ممکن است حضوری و حقیقی نباشد و به صورت مجازی در اینترنت صورت گیرد.

۵۰ گزینه ۴ پاسخ صحیح است.

۱) سطوح چهارگانه خرد ← خانوارها و یا شرکت‌ها - مؤسسات تولیدی
 ۲) شیب منحنی عرضه نشان‌دهنده درجه حساسیت تولیدکننده نسبت به قیمت است و کشش قیمتی عرضه همواره رو به پایین خواهد بود.

۵۱ گزینه ۱ پاسخ صحیح است. قیمت از پایین به بالا می‌رود پس تقاضاست (رد گزینه‌های ۲ و ۳) و از B به A آمدن نوعی کاهش قیمت است و حرکت از D به N بیانگر افزایش قیمت است.

۵۲ گزینه ۳ پاسخ صحیح است. در سطح قیمت ۲۵۰ ریال که به ازای آن مقدار عرضه و تقاضا با هم برابرند، بازار به تعادل می‌رسد و در آن کمبود یا مازاد مشاهده نمی‌شود. بنابراین در ردیف ۴ برابری میان عرضه و تقاضا را داریم که به آن «قیمت و مقدار تعادلی» می‌گویند.

در سطح قیمت‌های پایین‌تر از ۲۵۰ ریال (ردیف‌های ۱، ۲ و ۳) در بازار با «کمبود عرضه» روبه‌رو می‌شویم.
 در سطح قیمت‌های بالاتر از ۲۵۰ ریال (ردیف‌های ۵، ۶ و ۷) در بازار با «مازاد عرضه» روبه‌رو می‌شویم.

۵۳ گزینه ۴ پاسخ صحیح است. نقاط بر روی خط صعودی قرار دارند، بنابراین این خط بیان‌گر منحنی عرضه است. (در منحنی عرضه با افزایش قیمت، مقدار عرضه کالا افزایش خواهد یافت و در مقابل با کاهش قیمت، عرضه‌ی آن نیز کاهش می‌یابد.)

۵۴ گزینه ۲ پاسخ صحیح است.

الف) فعالیت‌های بورس بین عرضه‌کنندگان و تقاضاکنندگان سرمایه ارتباط برقرار و معاملات بازار سرمایه را تنظیم می‌کند.
 ب)

مؤسسه‌ی تولیدی	نهاد‌های (عوامل تولید)
مؤسسه‌ی تولیدی محصولات کشاورزی	زمین کشاورزی / نیروی کار / آب / کود / انبار / سردخانه
مؤسسه‌ی تولید محصولات صنعتی	نیروی کار / ماشین‌آلات / مواد اولیه

ج) با توجه به مشکلات عدیده در دوران استفاده از کالاهای پولی انسان با استفاده از پول فلزی از به‌کارگیری کالاها رهایی یافت و استفاده از برخی از فلزات از جمله طلا و نقره را جایگزین آن‌ها نمود.

د) برخی دیگر از انواع بازارها را هم می‌توان در قالب حراجی‌ها دید که به دو صورت مزایده و مناقصه مشاهده می‌شود.
 «فروشندگان آثار هنری در نمایشگاه‌ها» مزایده و خریداران عمده کالا و خدمات (مثل خریدهای دولتی) مناقصه برگزار می‌کنند.

۵۵ گزینه ۱ پاسخ صحیح است.

الف) در سطح قیمت ۲۵۰ ریال که به ازای آن مقدار عرضه و تقاضا با هم برابرند، بازار به تعادل می‌رسد و در آن کمبود یا مازاد مشاهده نمی‌شود. بنابراین در ردیف ۴ برابری میان عرضه و تقاضا را داریم که به آن «قیمت و مقدار تعادلی» می‌گویند.

ب) در سطح قیمت‌های پایین‌تر از ۲۵۰ ریال (ردیف‌های ۱، ۲ و ۳) در بازار با «کمبود عرضه» روبه‌رو می‌شویم.

ج) در سطح قیمت‌های بالاتر از ۲۵۰ ریال (ردیف‌های ۵، ۶ و ۷) در بازار با «مازاد عرضه» روبه‌رو می‌شویم.

۵۶ گزینه ۱ پاسخ صحیح است.

الف) در سطوح قیمت بالاتر از قیمت تعادلی، (ناحیه ۱) مصرف‌کنندگان به دلیل قیمت بالا، مایل به خرید تعداد واحد کم‌تری از کالا هستند. در این حالت در بازار این کالا، مازاد عرضه یا کمبود تقاضا وجود دارد. زیرا گروهی از تولیدکنندگان برای محصولات خود خریدار پیدا نمی‌کنند.

ب) نقطه‌ی برخورد دو منحنی عرضه و تقاضا، نقطه‌ی تعادل در بازار را نشان می‌دهد که قیمت متناظر با آن، قیمت تعادلی و مقدار متناظر با آن را مقدار تعادلی در بازار می‌گویند. نقطه‌ی برخورد دو منحنی عرضه و تقاضا، نقطه‌ی تعادل در بازار را نشان می‌دهد که قیمت متناظر با آن، قیمت تعادلی و مقدار متناظر با آن را مقدار تعادلی در بازار می‌گویند. نقطه‌ی C نقطه‌ی تعادلی است:

مقدار تعادلی = ۶۰۰ کیلو (مقدار عرضه = مقدار تقاضا)

قیمت تعادلی = ۲۵۰ ریال (قیمت ارائه شده از سوی عرضه‌کنندگان = قیمت ارائه شده از سوی تقاضاکنندگان)

ج) در سطوح قیمت پایین‌تر از قیمت تعادلی، (ناحیه ۳) مصرف‌کنندگان به دلیل ارزان بودن کالا، مایل به خرید تعداد واحد بیشتری از کالا هستند. در این حالت در بازار این کالا، کمبود عرضه یا مازاد تقاضا وجود دارد. زیرا به دلیل ارزان بودن کالا، تقاضا برای آن زیاد است. در حالی‌که تولیدکنندگان برای تولید آن کالا به آن مقدار، انگیزه‌ی کافی ندارند؛ در نتیجه تولید و عرضه‌ی آن کم می‌شود.

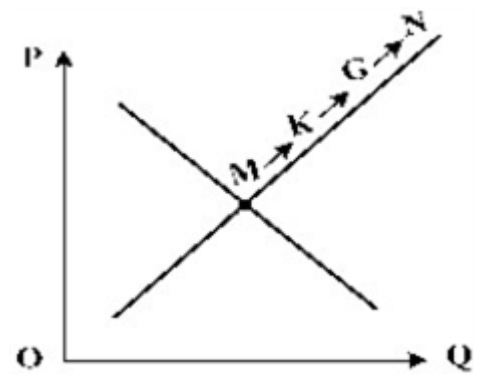
د) منحنی تقاضا M نزولی و منحنی عرضه N صعودی است.

هـ) در سطح قیمت ۱۰۰ ریال (به دلیل ارزان بودن کالا و به صرفه نبودن تولید برای تولیدکنندگان) میزان عرضه‌ی کالا صفر است.

همچنین در سطح قیمت ۴۰۰ ریال به دلیل گران بودن کالا میزان تقاضای کالا صفر است.

۵۷ گزینه ۳ پاسخ صحیح است.

نقاط بر روی خط صعودی قرار دارند، بنابراین این خط بیان‌گر منحنی عرضه است. (در منحنی عرضه با افزایش قیمت، مقدار عرضه‌ی کالا افزایش خواهد یافت و در مقابل با کاهش قیمت، عرضه‌ی آن نیز کاهش می‌یابد.) بنابراین علت حرکت از نقطه‌ی M به نقطه‌ی N قیمت بالاتر و عرضه‌ی بیشتر است.



۵۸ گزینه ؟ پاسخ صحیح است.

گزینه ۳ پاسخ صحیح است. ۵۹

الف) برخی از انواع بازارها را می‌توان دید که در قالب حراجی‌ها به دو صورت مزایده و مناقصه فعالیت می‌کنند. فروشندگان آثار هنری با برگزاری نمایشگاه‌ها و حراجی‌ها، از روش مزایده و خریداران عمده کالاها و خدمات (مثل خریدهای دولتی) از روش مناقصه استفاده می‌کنند.

ب) بانک‌های مسکن یا کشاورزی بانک‌های تخصصی هستند که در ایران بیش‌تر نقش بانک تجاری را ایفاء می‌کنند.
ج) بورس بین عرضه‌کنندگان و تقاضاکنندگان سرمایه ارتباط برقرار و معاملات بازار سرمایه را تنظیم می‌کند.
د)

نهاد‌های (عوامل) تولید	مؤسسه‌ی تولیدی
زمین کشاورزی / نیروی کار / آب / کود / انبار / سردخانه	مؤسسه‌ی تولیدی محصولات کشاورزی
نیروی کار / ماشین‌آلات / مواد اولیه	مؤسسه‌ی تولیدی محصولات صنعتی

ه) با توجه به مشکلات عدیده در دوران استفاده از کالاهای پولی، انسان با استفاده از پول فلزی از به‌کارگیری کالاها در مبادلات رهایی یافت و استفاده از برخی فلزات از جمله طلا و نقره را جایگزین آن‌ها نمود.
و) در اندازه‌گیری تولید هر کشور، براساس این‌که برای تحلیل‌گر اقتصادی مرزهای داخلی آن کشور مهم باشد یا ملت آن، شاخص تولید را به دو دسته داخلی و ملی تقسیم می‌کنند.

گزینه ۲ پاسخ صحیح است. ۶۰

الف) عوامل مولد انسانی شامل نیروی کار (کارگر ساده)، کارفرما (صاحب کسب و کار و محصول)، مدیر، متخصص و کارآفرین است. گاهی از متخصصان به عنوان سرمایه‌ی انسانی یاد می‌شود.

ب) شیب منحنی تقاضا نشان‌دهنده‌ی: میزان حساسیت میزان تقاضای فرد نسبت به قیمت براساس شیب منحنی تقاضا، کالاها به دو دسته‌ی (ضروری و لوکس) تقسیم می‌شوند.

اگر شیب منحنی تقاضا زیاد باشد: عکس‌العمل مصرف‌کننده در برابر قیمت کم است = کشش قیمتی تقاضا کم است = کالا ضروری است.

اگر شیب منحنی تقاضا کم باشد = عکس‌العمل مصرف‌کننده در برابر قیمت زیاد است = کشش قیمتی تقاضا زیاد است = کالا لوکس است.

ج) حسابداری ملی: شاخه‌ای از مطالعات اقتصادی است که با ارائه شاخص‌های گوناگون به بررسی و اندازه‌گیری میزان فعالیت‌های اقتصادی در سطح ملی می‌پردازد. مثلاً، میزان تولید کالا و خدمات، صادرات، واردات، مصرف و پس‌انداز کل کشور، حجم نقدینگی و سطح عمومی قیمت‌ها و سایر متغیرهای کلان را در جامعه محاسبه می‌کند.

د) قبل از شکل‌گیری خدمات نوین بانکی، نقدینگی کل مساوی مجموع مسکوکات و اسکناس‌های در گردش و خارج از گردش (پس‌انداز خانگی) بود.

ه) سپرده‌ی پس‌انداز: حسابی است که پول مشتری برای مدتی نامعین در آن نگه‌داری می‌شود، اما مشتری می‌تواند با مراجعه به بانک موجودی این حساب را هر زمان که بخواهد دریافت کند.

گزینه ۲ پاسخ صحیح است. این گزینه به تعریف مالیات بر مصرف اشاره دارد نه به تعریف مالیات بر ارزش افزوده. ۶۱

۶۲ گزینه ۳ پاسخ صحیح است.

قیمت هر واحد از محصول \times تعداد محصول تولید و فروخته شده = درآمد سالیانه کارگاه (الف)

$$= ۲۰,۰۰۰ \times ۱۲۰,۰۰۰ = ۲,۴۰۰,۰۰۰,۰۰۰ \text{ تومان}$$

$$\text{تومان} = ۷۸۰,۰۰۰,۰۰۰ \times ۱۲ = ۹۳,۶۰۰,۰۰۰,۰۰۰ \text{ هزینه‌های سالیانه کارگاه}$$

هزینه‌های سالیانه کارگاه - درآمد سالیانه کارگاه = سود سالیانه کارگاه

$$\text{تومان} = ۱,۶۲۰,۰۰۰,۰۰۰ - ۷۸۰,۰۰۰,۰۰۰ = ۸۴۰,۰۰۰,۰۰۰$$

$$\text{تومان} = ۱۶۲,۰۰۰,۰۰۰ \times \frac{۱۰}{۱۰۰} = سود سالیانه کارگاه = \frac{۱۰}{۱۰۰} \times \text{مالیات سالیانه کارگاه}$$

$$\text{تومان} = ۱۳,۵۰۰,۰۰۰ \times ۱۲ = ۱۶۲,۰۰۰,۰۰۰ \text{ مالیات ماهانه کارگاه}$$

مالیات سالیانه کارگاه - سود سالیانه کارگاه = مانده خالص سالیانه کارگاه (ب)

$$\text{میلیون تومان} = ۱,۴۵۸,۰۰۰,۰۰۰ - ۱۶۲,۰۰۰,۰۰۰ = ۱,۲۹۶,۰۰۰,۰۰۰ \text{ تومان}$$

۶۳ گزینه ۲ پاسخ صحیح است.

مالیات بر ارزش افزوده (ج): با ایجاد شفافیت، فرار مالیاتی را کاهش می‌دهد و از مالیات‌ستانی مضاعف جلوگیری می‌کند، چرا که مالیات پرداخت‌شده تولیدکنندگان قبلی از مالیات بر فروش بعدی کسر می‌شود. در این نوع از مالیات، کالا و خدمات واسطه‌ای از پرداخت مالیات معاف می‌شوند.

حقوق و عوارض گمرکی (د): که با نام «تعرفه‌های گمرکی» نیز شناخته می‌شود، در واقع مالیات هر کشور بر صادرات و واردات کالاهای مختلف است. این نوع از مالیات، تابع سیاست‌های کلان بازرگانی و شرایط اقتصادی کشورها هستند.

مالیات بر مصرف (ب): مالیاتی است که مصرف‌کنندگان کالاهای خاص در زمان خرید آن کالا (به همراه قیمت کالا) پرداخت می‌کنند. اگر فرد میزان بیشتری از کالا را مصرف کند، در نهایت مالیات بیشتری نیز پرداخت می‌کند. این نوع مالیات نهایتاً به وسیله مصرف‌کننده نهایی پرداخت می‌شود، اما وظیفه قانونی پرداخت آن به عهده تولیدکنندگان و فروشندگان است.

مالیات‌های مستقیم (الف): به دو دسته مالیات بر دارایی و مالیات بر درآمد تقسیم می‌شوند، در مالیات بر درآمد، درآمد افراد و شرکت‌ها مبنای مالیات است. مالیات بر درآمد از هر کدام از انواع درآمدها جداگانه دریافت می‌شود. (مثلاً مالیات بر حقوق و مالیات بر درآمد املاک).

گزینه ۲ پاسخ صحیح است. وظایف دولت:

۶۴

۱- بهبود عملکرد بازار:

- قوانین و مقرراتی که توسط دولت وضع و اجرا می‌شود به منظور:

۱- تسهیل و تشویق مبادلاتی است که به نفع خریداران و فروشندگان است.

۲- از بروز شرایطی که به مبادلات آن‌ها آسیب می‌زند، جلوگیری می‌کند.

- حضور دولت و عملکرد قوی آن سبب می‌شود: افراد به حقوق یکدیگر تعرض نکنند و مثلاً دارایی‌هایی را که متعلق به آن‌ها نیست تصرف نکنند. (در این حالت دولت به عنوان یک داور، در میدان فعالیت‌های اقتصادی، حضور دارد.)

- دولت با تعریف و اجرای حقوق مالکیت: امنیت خرید و فروش و مبادلات را بهبود می‌بخشد.

تا زمانی که فروشنده اثبات نکند که مالک واقعی چیزی است، دولت اجازه نمی‌دهد آن را بفروشد.

دولت با وضع قوانین و مقرراتی ویژه در زمینه‌های مختلف: می‌کوشد تا وجود اطلاعات و آگاهی‌های لازم را برای مبادله بین افراد تضمین کند. به عنوان مثال:

* شرکت‌های دارویی و غذایی نمی‌توانند پیش از انجام برخی آزمایش‌ها و اخذ گواهی معتبر، محصولات خود را به بازار عرضه کنند.

* افراد بدون دارا بودن صلاحیت‌های لازم نمی‌توانند به مشاغل مختلف وارد شوند.

* سازمان استاندارد وظیفه دارد کیفیت یا عدم کیفیت محصولات را تأیید کند.

۲- ارائه کالاهای عمومی:

تعریف کالای عمومی: کالای عمومی، به کالا و خدماتی گفته می‌شود که توسط افراد زیادی می‌تواند همزمان استفاده شود و شما نمی‌توانید مردم را از استفاده آن محروم سازید.

مثال‌هایی برای کالای عمومی: خیابان، بوستان، تیرهای چراغ برق، پل‌ها، آتش‌نشانی و پلیس (این کالاها بسیار باارزش‌اند ولی هیچ‌کس نمی‌تواند این امکانات را فقط برای خودش داشته باشد).

گزینه ۲ پاسخ صحیح است. دولت‌های با تعریف و اجرای دقیق حقوق مالکیت موجب بهبود عملکرد بازار می‌شوند و امنیت خرید و فروش در مبادلات را تضمین می‌کند به گونه‌ای که دولت اجازه نمی‌دهد قبل از اینکه مردم ثابت کنند مالک واقعی کالایی هستند آن را بفروشند.

۶۵

گزینه ۱ پاسخ صحیح است. دولت برای تأمین بخشی از هزینه‌های خود از مردم قرض می‌گیرد. برای مثال با فروش اوراق مشارکت و ایجاد بدهی، مردم را در طرح‌های عمرانی و ... شرکت می‌دهد و از این راه سودی نیز به آنها می‌دهد و همچنین عوارض نوسازی و عوارض شهرداری و ... نیز از مصادیق راه‌های تأمین مالی دولت برای ارائه کالاها و خدمات عمومی به مردم می‌باشد.

۶۶

گزینه ۴ پاسخ صحیح است.

۶۷

- حقوق و عوارض گمرکی (تعرفه‌های گمرکی) علاوه بر این‌که یکی از راه‌های درآمدزایی دولت‌ها هستند، معمولاً برای حمایت از صنایع داخلی نیز به کار گرفته می‌شوند.

- مالیات بر درآمد اشخاص مهم‌ترین نوع مالیات است.

- مالیات بر ارزش افزوده از مالیات‌ستانی مضاعف جلوگیری می‌کند، چرا که مالیات پرداخت شده تولیدکنندگان قبلی از مالیات بر فروش بعدی کسر می‌شود.

گزینه ۴ پاسخ صحیح است. ۶۸

هزینه‌های تولید $\times 4 =$ درآمد کارگاه (الف)

$$x = \text{هزینه‌های تولید}$$

$$\text{سود} = 24 \text{ میلیون تومان}$$

$$\text{سود} = \text{هزینه‌های تولید} - \text{درآمد} = 4x - x$$

$$\Rightarrow 24 = 4x - x \Rightarrow 24 = 3x \Rightarrow x = \frac{24}{3} = 8 \text{ میلیون تومان}$$

$$\text{ب) میلیون تومان } 32 = 4 \times 8 = \text{هزینه‌های تولید} \times 4 = \text{درآمد کارگاه}$$

ج) اگر طراح به این قسمت از کتاب که متأسفانه در قسمت بیشتر بدانیم طرح شده است توجه کند، مبلغ موردنظر برای پرداخت مالیات سود (۲۴ میلیون تومان) خواهد بود و گزینه ۳ پاسخ صحیح خواهد بود.
اما اگر به این قسمت توجه نشود و صرفاً منظور عنوان مالیات باشد، مبلغ موردنظر برای پرداخت مالیات درآمد (۳۲ میلیون تومان) خواهد بود و گزینه ۴ پاسخ صحیح خواهد بود.

گزینه ۲ پاسخ صحیح است. ۶۹

$$\left. \begin{array}{l} \text{مالیات بر دارایی} \\ \text{مالیات بر درآمد اشخاص و مالیات بر درآمد} \end{array} \right\} \text{مالیات مستقیم (الف)}$$

$$\text{مالیات مستقیم} = 330 + 80 + \frac{1}{3}(330) = 330 + 80 + 110 = 520$$

$$80 = \text{مالیات بر درآمد اشخاص} = \text{مهم‌ترین نوع مالیات}$$

$$200 = \text{مالیات بر مصرف}$$

$$\Rightarrow \left. \begin{array}{l} \text{عوارض نوسازی : مالیات غیرمستقیم} \\ \text{VAT} = 110 \times 2 = 220 \end{array} \right\} 200 + 50 + 220 = 470$$

گزینه ۴ پاسخ صحیح است. ۷۰

- مالیاتی که از مالیات‌ستانی مضاعف جلوگیری می‌کند ← مالیات بر ارزش افزوده
- معمولاً برای حمایت از صنایع داخلی نیز به کار گرفته می‌شود ← عوارض گمرکی
- مهم‌ترین نوع مالیات است ← مالیات بر درآمد اشخاص
- اساس و مبنای آن ثروت مؤدی ← مالیات بر دارایی

گزینه ۲ پاسخ صحیح است. دولت سالیانه بخشی از درآمد موردنیاز خود را از طریق ایجاد بدهی (یعنی قرض گرفتن از مردم یا ۷۱

شریک کردن آن‌ها در طرح‌های عمرانی و سرمایه‌گذاری‌های دولت و تقسیم سود بین آن‌ها) تأمین می‌کند. (این درآمد نیز تا ابد نمی‌تواند پایدار باشد.)

گزینه ۱ پاسخ صحیح است. برای حل مسائل مالیات بر ارزش افزوده باید جدول زیر را به خاطر بسپارید.

مراحل	توضیحات
قیمت فروش با مالیات بر ارزش افزوده	(نرخ مالیات بر ارزش افزوده \times قیمت کالا در آن مرحله) + قیمت کالا در آن مرحله
مالیات بر ارزش افزوده جمع آوری شده توسط فروشنده	نرخ مالیات بر ارزش افزوده \times قیمت کالا در آن مرحله
اعتبار مالیات بر ارزش افزوده‌هایی که در مرحله قبل پرداخت شده	برابر است با مالیات بر ارزش افزوده جمع آوری شده توسط فروشنده در مرحله قبل
مالیات بر ارزش افزوده خالص جمع آوری شده	مالیات بر ارزش افزوده جمع آوری شده توسط فروشنده در مرحله قبل - مالیات بر ارزش افزوده جمع آوری شده توسط فروشنده در آن مرحله یا نرخ مالیات بر ارزش افزوده \times میزان ارزش افزوده آن مرحله
مجموع مالیات بر ارزش افزوده جمع آوری شده	مجموع مالیات بر ارزش افزوده خالص جمع آوری شده تمامی مراحل یا مالیات بر ارزش افزوده جمع آوری شده توسط فروشنده در مرحله آخر

در نتیجه خواهیم داشت:

= مجموع مالیات بر ارزش افزوده جمع آوری شده

$$\text{هزار تومان } ۵۰۰ = \frac{۱۰}{۱۰۰} \times ۵,۰۰۰ = \text{مالیات بر ارزش افزوده جمع آوری شده توسط فروشنده در مرحله آخر}$$

راه حل اول:

= مالیات بر ارزش افزوده خالص جمع آوری شده توسط مغازه‌دار

نرخ مالیات بر ارزش افزوده \times میزان ارزش افزوده آن مرحله

$$= (۵,۰۰۰ - ۴,۰۰۰) \times \frac{۱۰}{۱۰۰} = ۱,۰۰۰ \times \frac{۱۰}{۱۰۰} = ۱۰۰ \text{ هزار تومان}$$

راه حل دوم:

= مالیات بر ارزش افزوده خالص جمع آوری شده توسط مغازه‌دار

مالیات بر ارزش افزوده جمع آوری شده توسط فروشنده در مرحله قبل - مالیات بر ارزش افزوده جمع آوری شده توسط فروشنده
در آن مرحله

$$= \left(۵,۰۰۰ \times \frac{۱۰}{۱۰۰} \right) - \left(۴,۰۰۰ \times \frac{۱۰}{۱۰۰} \right) = ۵۰۰ - ۴۰۰ = ۱۰۰ \text{ هزار تومان}$$

۷۳ گزینه ۲ پاسخ صحیح است. انواع مالیات مستقیم: مالیات بر دارایی و مالیات بر درآمد
انواع مالیات غیرمستقیم: عوارض گمرکی و خدماتی، مالیات بر مصرف، مالیات بر ارزش افزوده

$$\text{الف) میلیون تومان } ۴۸ = \frac{۱}{۵} \times ۲۴۰ = \text{مالیات بر دارایی} \times \frac{۱}{۵} = \text{مالیات بر درآمد اشخاص}$$

مالیات بر دارایی + مالیات بر درآمد اشخاص = مجموع میزان مالیات مستقیم پرداختی

$$= ۴۸ + ۲۴۰ = ۲۸۸ \text{ میلیون تومان}$$

عوارض خودرو + تعرفه‌های گمرکی = مجموع میزان مالیات غیرمستقیم پرداختی (ب)

$$+ \text{ میلیون تومان } ۲۳۰ = ۱۵ + ۳۵ + ۱۸۰ = \text{مالیات بر شکر (مالیات بر مصرف)}$$

۷۴ گزینه ۳ پاسخ صحیح است. در سطوح قیمت بالاتر از قیمت تعادلی، مصرف‌کنندگان به دلیل قیمت بالا، مایل به خرید تعداد واحد کمتری از کالا هستند. در این حالت در بازار این کالا، مازاد عرضه یا کمبود تقاضا وجود دارد. زیرا گروهی از تولیدکنندگان برای محصولات خود خریدار پیدا نمی‌کنند. در این حالت به دلیل گران بودن کالا، تولیدکنندگان که به دنبال کسب سود بیش‌تری هستند، به تولید بیش‌تر می‌پردازند در حالی‌که مصرف‌کنندگان به خرید و مصرف این کالای گران تمایل نشان نمی‌دهند.

حال اگر دولت جهت بهبود عملکرد بازار از ابزار مالیات بخواهد استفاده کند، از مالیات غیرمستقیم (مالیات بر مصرف) و با هدف حمایت از مصرف‌کننده (به دلیل بالا بودن قیمت کالاها) استفاده خواهد کرد.

در نتیجه قیمت پایین خواهد آمد. در این حالت از یک سو، مصرف‌کنندگان با پایین آمدن قیمت، مقدار خرید خود را افزایش می‌دهند و از سوی دیگر، تولیدکنندگان از مقدار تولید خود می‌کاهند. این کاهش قیمت تا رسیدن به سطح قیمت تعادلی و از بین رفتن فاصله بین عرضه و تقاضا ادامه می‌یابد.

۷۵ گزینه ۱ پاسخ صحیح است.

۱) حقوق و عوارض گمرکی ← مالیات بر تجارت خارجی

۲) راه گسترش توسعه اقتصادی و افزایش سرعت و روند توسعه‌یافتگی جامعه ← رفع فقر و حمایت از افشار کم‌درآمد جامعه - مانع بر سر راه پیشرفت همه‌جانبه کشور ← فقر گسترده

۷۶ گزینه ۱ پاسخ صحیح است.

۱) دستمزدها و درآمد صاحبان سرمایه و درآمد صاحبان املاک و سود شرکت‌ها و مؤسسات، جزئی از شاخص درآمد مالی است.

۲) اگر سرمایه‌گذاری‌های دولتی با هدف کسب و سودآوری باشد، یکی از منابع تأمین درآمد دولت محسوب می‌شود.

۳) رعایت نکردن اصل مزیت مطلق و نسبی، باعث اسراف و تبذیر منابع و سرمایه‌ها در همه‌جا می‌شود و باعث کاهش رفاه جوامع می‌شود.

۷۷ گزینه ۳ پاسخ صحیح است.

- سود یک شرکت یا حقوق یک کارمند که ماهانه تحقق پیدا می‌کند ← جاری

- اتموبیل یا ساختمان یک شرکت که دارایی یا ثروت است ← انباره

۷۸ گزینه ۴ پاسخ صحیح است.

۷۹ گزینه ۴ پاسخ صحیح است. هزینه فرصت بیانگر چیزی است که از آن صرف‌نظر می‌کنیم. در این سؤال با اختصاص منابع به کمک‌های بلاعوض به فقرا، از اختصاص این سرمایه‌ها به فعالیت‌های مولد صرف‌نظر می‌کنیم.

۸۰ گزینه ۴ پاسخ صحیح است.

انواع تحریم‌های اقتصادی	تحریم تجاری (مانع‌تراشی در مقابل صادرات و واردات کالا، خدمات و عوامل تولید مثل سرمایه) تحریم مالی (مانع‌تراشی در مقابل مبادلات مالی، بانک‌ها و بیمه‌ها)
-------------------------	--

لذا افزایش نسبت صادرات غیرنفتی به تولید کل جهت مقابله با تحریم‌های تجاری مناسب است.

۸۱ گزینه ۲ پاسخ صحیح است. هزینه فرصت تولید چای در کشور الف کمتر از هزینه فرصت تولید چای در کشور ب است و همین امر باعث می‌شود تا کشور الف منابع کمیاب خود را بیشتر به تولید چای اختصاص دهد. بنابراین کشور الف در تولید چای مزیت نسبی دارد.

۸۲ گزینه ؟ پاسخ صحیح است.

۸۳ گزینه ۳ پاسخ صحیح است.

الف) بانک توسعه اسلامی مستقر در جدّه (وابسته به سازمان کنفرانس اسلامی) نیز بانک توسعه‌ای است. ب) بانک توسعه اسلامی مستقر در جدّه (وابسته به سازمان کنفرانس اسلامی) نیز بانک توسعه‌ای است.

ب) علاوه بر خرید حضوری، به صورت اینترنتی نیز می‌توان اقدام کرد و پس از عملیات نمونه‌ی چاپی آن‌را به عنوان رسید دریافت نمود.

ج) مبادلات بین‌المللی در بازارهای نیروی کار و سرمایه: روابط اقتصادی بین کشورها فقط به تجارت بین‌الملل (مبادله‌ی کالا و خدمات) محدود نمی‌شود بلکه به مهاجرت نیروی کار و حرکت سرمایه (جابه‌جایی عوامل تولید) از نقطه‌ای از دنیا به نقطه‌ای دیگر که وضع بهتری دارد، نیز اطلاق می‌شود. هر کشوری در پی جذب سرمایه‌گذاری‌های خارجی برای کشور خود است تا بدین ترتیب نه تنها پس‌اندازهای داخلی خود، بلکه پس‌اندازهای کشورهای دیگر را نیز در جهت رشد و افزایش کارخانه‌ها و بخش‌های تولیدی داخلی به کار گیرد.

د) در مقدمه‌ی قانون اساسی آماده است: «در تحکیم بنیان‌های اقتصادی، اصل، رفع نیازهای انسان در جریان رشد و تکامل اوست، نه همچون دیگر نظام‌های اقتصادی تمرکز و تکاثر ثروت و سودجویی، زیرا که در مکاتب مادی، اقتصاد خود هدف است و بدین جهت در مراحل رشد، اقتصاد عامل تخریب و فساد و تباهی می‌شود ولی در اسلام، اقتصاد وسیله است و از وسیله انتظاری جز کارایی بهتر در راه وصول به هدف نمی‌توان داشت.»

۸۴ گزینه ۲ پاسخ صحیح است. دایره‌های الف و ب نشان‌دهنده‌ی رابطه عموم و خصوص مطلق هستند که همین رابطه بین مفاهیم جسم الف و میز ب برقرار است.

دایره‌های ج و ب نشان‌دهنده‌ی رابطه عموم و خصوص من‌وجه هستند که همین رابطه بین مفاهیم چوبی ج و میز ب برقرار است.

دایره‌های د و ب نیز نشان‌دهنده‌ی رابطه عموم و خصوص من‌وجه هستند که همین رابطه بین مفاهیم سبز د و میز ب برقرار است.

۸۵ گزینه ۳ پاسخ صحیح است. کالاهای راهبری و ضروری به ترتیب زیر می‌باشد:

دارو - غذا و محصولات کشاورزی - حوزه انرژی مثل نفت و انرژی هسته‌ای و انرژی‌های نو و صنایع نظامی و دفاعی می‌باشند.

۸۶ گزینه ۱ پاسخ صحیح است. در مزیت مطلق بهتر است کشور در محصولی که مزیت دارد تخصص و تمرکز یابد و محصولات خود را با سایر کشورها مبادله کند پس در گزینه ۱ باید فقط بر مزیت مطلق تأکید شود.

گزینه ۱ پاسخ صحیح است. نکته: هر کشوری که بتواند میان بیشتری از یک کالا را در مقایسه با سایر کشورها تولید کند، در تولید آن کالا مزیت مطلق خواهد داشت.

- کشور الف در مقایسه با سایر کشورها کالای A بیشتری تولید می‌کند (۱۲۵ واحد) در نتیجه در تولید کالای A مزیت مطلق دارد.

- کشور ج نیز در مقایسه با سایر کشورها کالای B بیشتری تولید می‌کند (۲۵۰ واحد) در نتیجه در تولید کالای B مزیت مطلق دارد.

- کشور ب از نظر عوامل تولید با دو کشور فوق یکسان است. اگر کشور ب همه امکانات خود را بر تولید کالای A متمرکز کند، ۹۸ واحد و اگر به تولید کالای B تخصیص دهد ۸۷ واحد تولید می‌کند. ملاحظه می‌شود که کشور ب در تولید کالاهای A و B نسبت به دیگر کشورها مزیت مطلق ندارد اما در کشور خود در تولید کالای A (۹۸ واحد) نسبت به کالای B (۸۷ واحد) مزیت نسبی دارد. بنابراین باید در تولید کالای A متمرکز شود و کالای B مورد نیاز خود را از کشور ج وارد کند.

گزینه ۳ پاسخ صحیح است.

الف) زندگی عمومی انسان‌ها در جامعه شهری به دلیل: تخصص‌گرایی و تولید بر اساس مزیت اقتصادی (مزیت مطلق یا نسبی) تک‌محصولی است.

ب) در فضای جهانی، اقتصاد تک‌محصولی اقتصادی شکننده و آسیب‌پذیر است، زیرا: اقتصاد تک‌محصولی در مواقع بحرانی، امکان تاب‌آوری و انعطاف‌پذیری مقابل تکانه‌ها، مشکلات و تحریم‌ها را ندارد.

ج) اگر اصل مزیت‌های مطلق و نسبی رعایت نشود:

* منابع و سرمایه‌ها به بهترین نحو ممکن استفاده نمی‌شوند (هدر می‌روند چرا که منابع کمیاب هستند).

* با تولید محصولات کمتر و بی‌کیفیت، رفاه جوامع کاهش می‌یابد.

گزینه ۳ پاسخ صحیح است.

کشور	قیمت تمام شده خرما	قیمت تمام شده گندم
A	۵۵۰ واحد	۴۷۰ واحد
B	۶۸۰ واحد	۵۲۰ واحد

نکته: هر کشوری که بتواند کالایی را با قیمت تمام شده کمتری در مقایسه با سایر کشورها تولید کند، در تولید آن کالا مزیت مطلق خواهد داشت.

- کشور A در مقایسه با کشور B خرما و گندم را ارزان‌تر و با قیمت تمام شده کمتری تولید می‌کند در نتیجه در تولید هر دو کالا مزیت مطلق دارد.

- کشور B از نظر عوامل تولید با کشور A یکسان است اما محصولات را با قیمت تمام شده بیشتری تولید می‌کند. اقتصاددانان در این حالت از مفهوم مزیت نسبی استفاده می‌کنند.

هر چند کشور B در تولید خرما و گندم نسبت به کشور A مزیت مطلق ندارد اما در کشور خود گندم را ارزان‌تر از خرما تولید می‌کند و در نتیجه در تولید گندم مزیت نسبی دارد. بنابراین باید در تولید گندم متمرکز شود و خرمای مورد نیاز خود را از کشور A وارد کند.

گزینه ۴ پاسخ صحیح است. برای اینکه کشوری در تولید یک کالا مزیت مطلق داشته باشد باید آن کالا را بیشتر از سایر کشورها

تولید کند و کشور A، دارو را بیشتر از سایر کشورها تولید می‌کند، از این رو در تولید دارو مزیت مطلق دارد. کشور C در تولید

هیچ‌یک از کالاها مزیت مطلق ندارد، بنابراین باید بر روی کالایی متمرکز شود که میزان بیشتری از آن تولید می‌کند (یعنی دارو)

و پوشاک مورد نیاز خود را وارد کند. همچنین کشور B نیز باید منابع خود را به تولید دارو اختصاص دهد زیرا در دارو مزیت

نسبی دارد.

۹۱ گزینه ۲ پاسخ صحیح است.

سیاست اخذ شده	هدف دولت
وضع و یا افزایش تعرفه‌های گوناگون بر واردات برخی از کالاها	حمایت از صنایع داخلی خود و کاهش وابستگی اقتصادی به کشورهای دیگر
وضع پیمان‌های تجاری و کاهش تعرفه‌ها	گسترش روابط اقتصادی خود با کشورهایی با دیدگاه‌های سیاسی نزدیک

۹۲ گزینه ۲ پاسخ صحیح است.

الف) ترکیه در مقایسه با سایر کشورها کالای ب بیشتری تولید می‌کند (۱۵۴۰ واحد) در نتیجه در تولید کالای ب مزیت مطلق دارد.

نام کشور	هزینه فرصت		
	الف (واحد)	ب (واحد)	ج (واحد)
کنیا	۴۵۰	۵۴۰	۳۹۹

در کشور کنیا کالای ج با هزینه فرصت کمتری در مقایسه با سایر کشورها تولید می‌شود، در نتیجه کنیا در تولید کالای ج مزیت نسبی دارد و باید منابع کمیاب خود را بیشتر به تولید این کالا اختصاص دهد.

ج) آلمان در مقایسه با سایر کشورها کالای الف بیشتری تولید می‌کند (۹۷۰ واحد) در نتیجه در تولید کالای الف مزیت مطلق دارد.

ترکیه در مقایسه با سایر کشورها کالای ج بیشتری تولید می‌کند (۱۲۳۵ واحد) در نتیجه در تولید کالای ج مزیت مطلق دارد. بهتر است هر کشور در محصولی که مزیت دارد، تخصص و تمرکز یابد و سایر محصولات را از یکدیگر بگیرند.

آلمان کالای الف را در داخل تولید کند (و همچنین کالای الف مازاد خود را به سایر کشورها صادر کند) و کالای ج مورد نیاز خود را از کشور ترکیه وارد کند.

۹۳ گزینه ۲ پاسخ صحیح است.

الف) در دوره بین دو جنگ جهانی، کارگران و تولیدکنندگان، کنگره آمریکا را متقاعد کردند که تعرفه‌های گمرکی را تا ۵۲ درصد افزایش دهد.

ب) کشور انگلستان در سال ۱۷۰۱، قانونی را در مجلس خود تصویب کرد که براساس آن واردات هر نوع پوشاک با ابریشم ایرانی یا هندی یا چینی به کشور ممنوع اعلام می‌کرد. این قانون در حمایت از صنعت منسوجات داخلی انگلستان صورت گرفته بود.

ج) در اواخر قرن هجدهم و اوایل قرن نوزدهم، کشورهای آلمان، اروپای شرقی و ایالات متحده در جهت تقویت و حمایت از صنایع داخلی خود، تعرفه‌های حمایتی متعددی بر کالاهای وارداتی وضع کردند.

۹۴ گزینه ۳ پاسخ صحیح است. مقرون به صرفه بودن با «مزیت اقتصادی» در ارتباط است.

۹۵ گزینه ۴ پاسخ صحیح است. ۲۳ کشور قراردادی غیررسمی به نام قرارداد گات را امضا کردند. (برای جلوگیری از اقدامات

حمایت‌گرایانه کشورهای علیه یکدیگر و حفظ روابط تجاری بین خودشان) بعدها این قرارداد به سازمان دائمی تجارت جهانی تبدیل شد.

$$\text{نرخ بیکاری} = \frac{\text{جمعیت بیکار}}{\text{جمعیت فعال}} \times 100$$

گزینه ۴ پاسخ صحیح است. ۹۶

جمعیت بیکار + جمعیت شاغل = جمعیت فعال

$$15,500,000 + 4,500,000 = 20,000,000$$

$$\frac{4,500,000}{20,000,000} = 0.225$$

$$0.225 \times 100 = 22.5\% \text{ نرخ بیکاری}$$

$$24,000,000 - 20,000,000 = 44,000,000 \Rightarrow \text{جمعیت فعال} - \text{جمعیت بالای ۱۵ سال} = \text{جمعیت غیرفعال}$$

گزینه ۲ پاسخ صحیح است. بیکاری دوره‌ای: بیکاری‌ای که هنگام رکود اقتصادی رخ می‌دهد. در دوره رکود، تولید کاهش می‌یابد و به همین دلیل شرکت‌ها استخدام خود را متوقف می‌کنند یا بخشی از نیروهای خود را بیکار می‌کنند. ۹۷

جمعیت زیر ۱۵ سال - جمعیت کل = جمعیت ۱۵ سال و بالاتر

$$\text{نفر} = 2,900,000 = 900,000 - 3,800,000 = \text{جمعیت ۱۵ سال و بالاتر}$$

جمعیت غیرفعال - جمعیت ۱۵ سال و بالاتر = جمعیت فعال

$$\text{نفر} = 2,500,000 = 400,000 - 2,900,000 = \text{جمعیت فعال}$$

جمعیت شاغل - جمعیت فعال = جمعیت بیکار

$$\text{نفر} = 500,000 = 2,000,000 - 2,500,000 = \text{جمعیت بیکار}$$

$$\text{نرخ بیکاری} = \frac{\text{جمعیت بیکار}}{\text{جمعیت فعال}} \times 100 = \frac{500,000}{2,500,000} \times 100 = 20\% \text{ درصد}$$

گزینه ۳ پاسخ صحیح است. سیاست‌های فقرزدایی دولت‌ها: ۹۸

- حمایت از شرکت‌های تولیدی

- مبارزه با فساد

- ثبات قوانین و بهبود فضاهای کسب‌وکار

- تثبیت قیمت‌ها

مردم می‌توانند از طریق: ۱- ایجاد نهادهای توانمندسازی ۲- خیریه و کمک‌های مردمی ۳- تأسیس صندوق‌های قرض‌الحسنه ۴- فعالیت‌های جهادی از یکدیگر در برابر خطر فقر و نابرابری محافظت کنند.

گزینه ۱ پاسخ صحیح است. ۹۹

الف) بیکاری که هنگام رکود اقتصادی رخ می‌دهد بیکاری دوره‌ای است که در نتیجه رکود اقتصادی کارخانه عده‌ای از کارگران خود را بیکار می‌کند.

ب) برای به دست آوردن نرخ بیکاری ابتدا جمعیت فعال و غیرفعال را حساب می‌کنیم پس طبق فرمول جایگذاری

$$\text{نرخ بیکاری} = \frac{\text{جمعیت بیکار}}{\text{جمعیت فعال}} \times 100 \Rightarrow \text{نرخ بیکاری} = \frac{3}{12} \times 100 = 25\% \text{ درصد می‌کنیم.}$$

ج) برای جمعیت غیرفعال، ابتدا جمعیت بیکار و شاغل را جمع می‌کنیم و جمعیت فعال را به دست می‌آوریم. سپس جمعیت فعال را از کل جمعیت کم می‌کنیم و جمعیت غیرفعال را به دست می‌آوریم که ۲۳ میلیون نفر می‌شود.

گزینه ۴ پاسخ صحیح است.

۱۰۰



جمعیت زیر ۱۵ سال + جمعیت ۱۵ سال و بالاتر = جمعیت کل کشور

جمعیت ۱۵ سال و بالاتر - جمعیت کل = جمعیت زیر ۱۵ سال \Rightarrow

$$= ۷۸,۶۰۰,۰۰۰ - ۵۵,۲۰۰,۰۰۰ = ۲۳,۴۰۰,۰۰۰ \text{ نفر}$$

$$\text{نفر} = ۲۷,۴۰۰,۰۰۰ + ۴,۹۵۰,۰۰۰ = ۳۲,۳۵۰,۰۰۰$$

جمعیت غیرفعال \Rightarrow جمعیت فعال + جمعیت غیرفعال = جمعیت ۱۵ سال و بالاتر

$$\text{نفر} = ۵۵,۲۰۰,۰۰۰ - ۳۲,۳۵۰,۰۰۰ = ۲۲,۸۵۰,۰۰۰$$

$$\text{نرخ بیکاری} = \frac{\text{جمعیت بیکار}}{\text{جمعیت فعال}} \times ۱۰۰ = \frac{۴,۹۵۰,۰۰۰}{۳۲,۳۵۰,۰۰۰} \times ۱۰۰ \approx ۱۵/۳ \text{ درصد}$$

گزینه ۲ پاسخ صحیح است.

۱۰۱

- بیکاری دوره‌ای: ج

بیکاری‌ای که هنگام رکود اقتصادی رخ می‌دهد. در دوره رکود، تولید کاهش می‌یابد و به همین دلیل شرکت‌ها استخدام خود را متوقف می‌کنند یا بخشی از نیروی خود را بیکار می‌کنند.

- بیکاری ساختاری: د

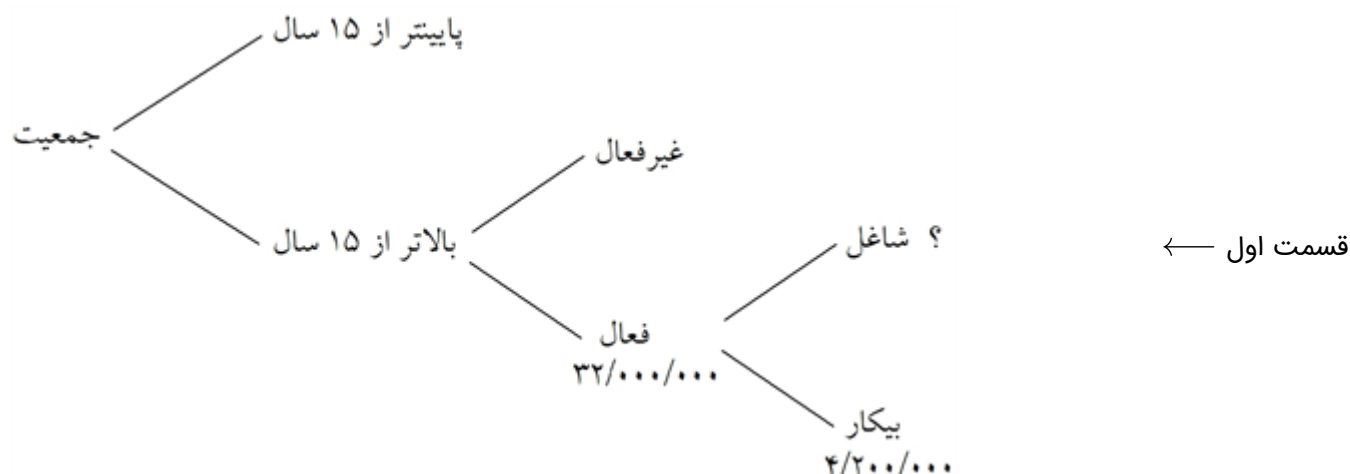
بیکاری‌ای که ناشی از عدم تطبیق بین افراد جویای کار و انواع شغل‌های موجود به دلایلی از جمله عدم تطابق مهارت‌هاست.

مثلاً نیروی کار ساده در اقتصاد وجود دارد؛ ولی نیروی کار متخصص مورد نیاز است.

- بیکاری اصطکاکی: ب

- بیکاری اصطکاکی: الف

نوعی بیکاری شامل کسانی می‌شود که شغل قبلی خود را به دلایلی رها کرده و به امید یافتن شغلی بهتر در جست‌وجو هستند. همچنین شامل کسانی است که به تازگی در حال ورود به بازار کار هستند. این نوع بیکاری کوتاه‌مدت است و در همه کشورها وجود دارد.

گزینه ۱ پاسخ صحیح است. ۱۰۲

$$\text{چکھین شاغل} = ۳۲/۰۰۰/۰۰۰ - ۴/۲۰۰/۰۰۰ = ۲۷/۸۰۰/۰۰۰$$

قسمت دوم ← در زمان رکود اقتصادی بیکای دوره‌ای داریم.

قسمت سوم ← نرخ بیکاری در این کشور ←

$$\times ۱۰۰ = \text{نرخ بیکاری} = \frac{\text{جمعیت فعال ۱۵ سال و بشر} \div \text{جمعیت بیکار ۱۵ سال و بشر}}{\text{جمعیت کل}} \times ۱۰۰$$

$$\frac{۴/۲۰۰/۰۰۰}{۳۲/۰۰۰/۰۰۰} \times ۱۰۰ = ۱۳\%$$

گزینه ۲ پاسخ صحیح است. بیکاری اصطکاکی: ۱۰۳

- این نوع بیکاری شامل کسانی می‌شود که شغل قبلی خود را به دلایلی رها کرده و به امید یافتن شغلی بهتر در جست‌وجو هستند.

- همچنین شامل کسانی است که به تازگی در حال ورود به بازار کار هستند.

- این نوع بیکاری کوتاه‌مدت است و در همه کشورهای وجود دارد.

جمعیت زیر ۱۵ سال - جمعیت کل = جمعیت ۱۵ سال و بالاتر

$$\text{نفر} = ۱۰,۰۰۰,۰۰۰ - \left(۱۰,۰۰۰,۰۰۰ \times \frac{۱۵}{۱۰۰} \right) = ۱۰,۰۰۰,۰۰۰ - ۱,۵۰۰,۰۰۰ = ۸,۵۰۰,۰۰۰$$

جمعیت غیرفعال - جمعیت ۱۵ سال و بالاتر = جمعیت فعال

$$\text{نفر} = ۸,۵۰۰,۰۰۰ - \left(۸,۵۰۰,۰۰۰ \times \frac{۳۰}{۱۰۰} \right) = ۸,۵۰۰,۰۰۰ - ۲,۵۵۰,۰۰۰ = ۵,۹۵۰,۰۰۰$$

جمعیت بیکار - جمعیت فعال = جمعیت شاغل

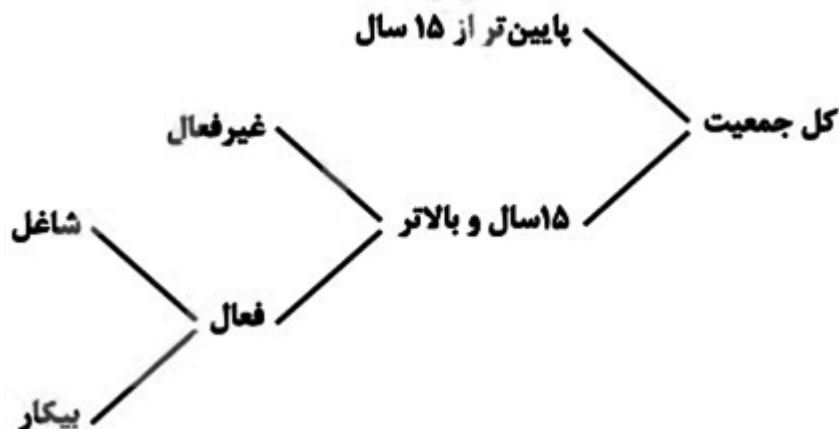
$$\text{نفر} = ۵,۹۵۰,۰۰۰ - ۲,۰۰۰,۰۰۰ = ۳,۹۵۰,۰۰۰$$

یک درصد از جمعیت شاغل به امید پیدا کردن شغل بهتر، کار خود را ترک کرده‌اند، در نتیجه ۹۹ درصد آن‌ها همچنان شاغل هستند و خواهیم داشت:

$$\text{نفر} = ۳,۹۵۰,۰۰۰ \times \frac{۹۹}{۱۰۰} = ۳,۹۱۰,۵۰۰$$

گزینه ۱ پاسخ صحیح است. ۱۰۴

بیکاری دوره‌ای	- بیکاری‌ای که هنگام رکود اقتصادی رخ می‌دهد. - در دوره رکود، تولید کاهش می‌یابد و به همین دلیل شرکت‌ها استخدام خود را متوقف می‌کنند یا بخشی از نیروهای خود را بیکار می‌کنند.
----------------	---



جمعیت زیر ۱۵ سال - جمعیت کل = جمعیت ۱۵ سال و بالاتر

نفر $۲,۹۰۰,۰۰۰ = ۹۰۰,۰۰۰ - ۳,۸۰۰,۰۰۰ =$ جمعیت ۱۵ سال و بالاتر

جمعیت غیرفعال - جمعیت ۱۵ سال و بالاتر = جمعیت فعال

نفر $۲,۵۰۰,۰۰۰ = ۴۰۰,۰۰۰ - ۲,۹۰۰,۰۰۰ =$ جمعیت فعال \Rightarrow

جمعیت شاغل - جمعیت فعال = جمعیت بیکار

نفر $۵۰۰,۰۰۰ = ۲,۰۰۰,۰۰۰ - ۲,۵۰۰,۰۰۰ =$ جمعیت بیکار \Rightarrow

درصد $۲۰ = \frac{۵۰۰,۰۰۰}{۲,۵۰۰,۰۰۰} \times ۱۰۰ = \frac{\text{جمعیت بیکار}}{\text{جمعیت فعال}} \times ۱۰۰ =$ نرخ بیکاری

گزینه ۴ پاسخ صحیح است. ۱۰۵

الف) به کالاهای بادوام سرمایه‌ای که در جریان تولید به کار گرفته می‌شود. نظیر: تراکتور برای کشاورز و کامیون برای شرکت‌های حمل‌ونقل سرمایه‌ای فیزیکی گفته می‌شود، کالاهای سرمایه‌ای بادوام می‌گویند و تولیدکننده با آن‌ها ارزش افزوده ایجاد می‌کند.

ب) نفت خام، ثروت عمومی است و همان‌طور که فروش فرش و اثاث خانه، نباید، برای خانوار درآمد به شمار رود، منابع حاصل از صادرات و فروش نفت نیز درآمد محسوب نمی‌شود. این مطلب چند سالی است در بودجه‌ی کشور رعایت می‌شود و با تشکیل صندوق توسعه‌ی ملی، وجوه حاصل از فروش نفت خام و گاز طبیعی تولید شده پس از کسر هزینه‌های تولید، درآمد دولت به شمار نمی‌رود، بلکه ناشی از فروش ثروت عمومی است و برای زاینده‌گی مستمر و حفظ این ثروت طبیعی باید به سرمایه مولد تبدیل شود.

ج) گاهی به مواردی مثل سفته، چک، پول، برات، حوالجات، تمبر و ... در زبان مردم، اوراق بهادار گفته می‌شود که کارکرد آن‌ها تضمین تعهدات است نه تأمین مالی. اما در اصطلاح اقتصاددانان به آن‌ها اوراق بهادار نمی‌گویند. همچنین اوراق مبادله شده در بورس کالا نیز از نظر مردم اوراق بهادار شمرده می‌شود در حالی که از نظر اقتصاددانان، اوراق بهادار صرفاً شامل اوراق سهام و اوراق مشارکت می‌شود.

گزینه ۴ پاسخ صحیح است. (۱۰۶)

$$\begin{aligned} \text{سپرده دیداری} + \text{مسکوکات} + \text{اسکناس} + \text{چک پول} &= \text{حجم پول (الف)} \\ 25000 &= 18000 + 7000 + \text{چک پول} \\ 25000 - 7000 &= 18000 \\ 18000 &= 7000 + \text{چک پول} \\ \text{چک پول} &= 11000 \\ 30000 - 8000 &= 22000 \\ 22000 &= \text{سپرده دیداری} + \text{چک پول} \\ 22000 - 11000 &= 11000 \end{aligned}$$

گزینه ۴ پاسخ صحیح است. امروزه پول فلزی، کاغذی، تحریری و الکترونیکی که در دست افراد است یا در حساب آنها است پشتوانه‌ای جز قدرت اقتصادی ندارد پس در نتیجه در گزینه ۴ نیز به این موضوع اشاره شده است که قدرت اقتصادی پشتوانه پول هر کشوری محسوب می‌شود. (۱۰۷)

گزینه ۱ پاسخ صحیح است. (۱۰۸)

$$\begin{aligned} \text{واحد } 25,200 &= 3 \times 8,400 = \text{مجموع ارزش مسکوکات و اسکناسها} \times 3 = \text{حجم پول} \\ \text{سپرده‌های دیداری} + \text{چک پول} + \text{ارزش مسکوکات و اسکناسها} &= \text{حجم پول} \\ \text{سپرده‌های دیداری} + 3600 + 8,400 &= 25,200 \\ \text{واحد } 13,200 &= 25,200 - 12,000 \\ \text{واحد پولی } 11000 &= \text{حساب‌های پس‌انداز بلندمدت} + \text{حساب‌های پس‌انداز کوتاه‌مدت} = \text{شبه پول} \\ \text{واحد پولی } 36,200 &= 25,200 + 11,000 = \text{نقدینگی} = \text{شبه پول} + \text{حجم پول} = \text{نقدینگی} \end{aligned}$$

گزینه ۴ پاسخ صحیح است. درصد تغییر شاخص قیمت مصرف‌کننده (CPI) همان نرخ تورم است. (۱۰۹)

$$\text{درصد تغییر CPI} = \frac{\text{CPI در ماه (قبل - CPI در سال معین)}}{\text{CPI در سال (قبل)}} \times 100$$

گزینه ۳ پاسخ صحیح است. (۱۱۰)

$$\text{هزینه سبد بازار در ماه (قبل - هزینه سبد بازار در ماه معین)} = \text{CPI برای یک ماده (یا یک سال معین)} - \text{CPI برای یک ماده (یا یک سال معین)}$$

$$\begin{aligned} \times 100 \\ = \text{درصد تغییر شاخص قیمت مصرف‌کننده در سال } 1383 \\ \frac{\text{شاخص قیمت ها در ابتدای سال} - \text{شاخص قیمت ها در انتهای سال}}{\text{شاخص قیمت ها در ابتدای سال}} \times 100 \end{aligned}$$

$$\frac{30}{100} = \frac{x - 360,000}{360,000} \Rightarrow 360,000 \times \frac{0}{3} = x - 360,000 \Rightarrow 108,000 = x - 360,000 \Rightarrow x = 468,000$$

نکته: شاخص قیمت‌ها در انتهای سال ۸۳ - شاخص قیمت‌ها در ابتدای سال ۸۴
راه حل ساده‌تر:

نرخ تورم برابر با ۳۰ درصد است که به صورت اعشار می‌شود: ۰/۳ و سپس با یک جمع می‌کنیم و برابر می‌شود با: ۱/۳
حال شاخص قیمت‌ها در ابتدای سال را داریم و باید شاخص قیمت‌ها در انتهای سال را به دست بیاوریم. در این حالت باید شاخص قیمت‌ها در ابتدای سال را در عدد به دست آمده (۱/۳) ضرب کنیم:

$$1/3 \times 360,000 = 468,000$$

گزینه ۳ پاسخ صحیح است. ۱۱۱

(الف) وسیله پرداخت‌های آینده $\xleftarrow{\text{مثال}}$ رد و بدل کردن حواله‌های بانکی

(ب) وسیله پس‌انداز و حفظ ارزش $\xleftarrow{\text{مثال}}$ هزینه‌های غیرقابل پیش‌بینی

(ج) وسیله پرداخت در مبادلات $\xleftarrow{\text{مثال}}$ آسان‌سازی مبادله

گزینه ۲ پاسخ صحیح است. ۱۱۲

الف)
$$\text{قیمت کالا در سال قبل} - \text{قیمت کالا در سال جاری} = \frac{\text{تغییر شاخص قیمت مصرف کننده}}{\text{قیمت کالا در سال قبل}} \times 100$$

$$\text{cpi} = \frac{25 - 20}{20} \times 100 = 25 \text{ درصد}$$

(ب) یکی از راه‌های کاهش cpi افزایش ظرفیت‌های تولیدی کشور است که باعث می‌شود عرضه و تقاضا در بازار به تعادل برسد و نرخ تورم کاهش یابد.

گزینه ۴ پاسخ صحیح است. در هنگام تورم بانک مرکزی سیاست پولی انقباضی اعمال می‌کند یعنی تلاش می‌کند که از میزان پول‌های موجود در دست مردم بکاهد و گزینه ۴ از مصادیق سیاست‌های پولی انقباضی است. ۱۱۳

گزینه ۱ پاسخ صحیح است. ۱۱۴

تورم =
$$\frac{\text{شاخص قیمت ها در ابتدای سال} - \text{شاخص قیمت ها در انتهای سال}}{\text{شاخص قیمت ها در ابتدای سال}} \times 100$$

$$\text{تورم کشور ب} = \frac{661,200 - 570,000}{570,000} \times 100 = 16 \text{ درصد}$$

درصد ۱۶ = تورم کشور ج = تورم کشور ب = تورم کشور الف

$$\Rightarrow \frac{16}{100} = \frac{x - 76,800}{76,800} \Rightarrow 0.16 \times 76,800 = x - 76,800$$

$$\Rightarrow x = 12,288 + 76,800 = 89,088$$

$$\Rightarrow \frac{16}{100} = \frac{363,040 - y}{y} \Rightarrow 0.16y = 363,040 - y \Rightarrow 1.16y = 363,040$$

$$\Rightarrow y = \frac{363,040}{1.16} \approx 312,965 / 5$$

راه‌حل میانبر:

در سؤال‌های این شکلی که نرخ تورم را به ما داده است و شاخص قیمت‌ها در ابتدا و یا انتهای سال را از ما می‌خواهد، می‌شود خیلی راحت به جواب رسید:

اول باید عدد تورم را به صورت اعشاری بنویسیم (۰/۱۶)، و بعد آن را با عدد ۱ جمع کنیم: (۱ + ۰/۱۶ = ۱/۱۶) حالا دو تا حالت پیش می‌آید:

حالت اول (مانند کشور الف): شاخص قیمت‌ها در ابتدای سال را داریم و باید شاخص قیمت‌ها در انتهای سال را به دست بیاوریم. در نتیجه باید عدد به دست آمده (۱/۱۶) را در شاخص قیمت‌ها در ابتدای سال ضرب کنیم.

$$1/16 \times 76,800 = 89,088$$

حالت دوم (مانند کشور ج): شاخص قیمت‌ها در انتهای سال را داریم و باید شاخص قیمت‌ها در ابتدای سال را به دست بیاوریم. پس باید شاخص قیمت‌ها در انتهای سال را بر عدد به دست آمده (۱/۱۶) تقسیم کنیم.

$$\frac{363,040}{1/16} \approx 312,965 / 5$$

گزینه ۳ پاسخ صحیح است. امروزه پشتوانه پول‌ها، قدرت اقتصادی کشور است نه طلا و ارزهای نگهداری شده نزد بانک مرکزی. در نتیجه اگر «بیت‌کوبین» بخواهد به عنوان پول رایج در میان مردم شناخته شود باید مانند پول تحریری (چک)، خصوصیات اعتباری آن مورد قبول همه باشد.

گزینه ۴ پاسخ صحیح است. بی‌مبالاتی یا سوءاستفاده برخی از صرافان از اعتماد مردم یا تعداد زیاد انواع رسیده‌ها و صرافی‌ها که آشنایی و اعتبارسنجی آن‌ها را برای مردم سخت کرده بود، موجب شد تا دولت‌ها برای جلوگیری از بروز این مشکلات به ناچار چاپ و انتشار اسکناس را برعهده گیرند. فکر سپردن نشر پول به یک بانک تجاری از این‌جا شکل گرفت.

گزینه ۴ پاسخ صحیح است.
گزینه ۱: تورم بدون افزایش تولید (ناهماهنگی افزایش تولید و افزایش نقدینگی باعث تورم است)
گزینه ۲: این سیاست برای مهار نرخ تورم نامناسب است.
گزینه ۳: با افزایش نقدینگی توانایی سرمایه‌گذاران افزایش پیدا نمی‌کند.

گزینه ۳ پاسخ صحیح است.

$$\text{cpi} = \frac{\text{ابتدای سال} - \text{انتهای سال}}{\text{ابتدای سال}} \times 100 = \text{نرخ تورم کالا}$$

$$A \text{ کالای} = \frac{192000 - 153600}{153600} \times 100 = 25$$

کالا ۲۵ درصد افزایش قیمت داشته است.

$$B \text{ کالای} = \frac{25}{100} = \frac{n - 740/100}{740/100}$$

قیمت کالای B در انتهای سال ۹۲۵۰۰۰

$$C \text{ کالای} = \frac{25}{100} = \frac{726250 - x}{x} \Rightarrow x = 581/1000 \text{ سال ابتدای سال}$$

گزینه ۴ پاسخ صحیح است.

- مبادلات با کالای بادوام جایگزین تهاتری (پایاپای) شد.
- استفاده از طلا و نقره سبب رونق دریاوردی گردید.
- اصطلاح ثبتي برای چک به کار برده می‌شود.
- پشتوانه نخستین اسکناس‌ها طلا و نقره‌هایی بود که نزد صرافان بوده است.

گزینه ۳ پاسخ صحیح است. به سیاست‌هایی که دولت از طریق بانک مرکزی برای «مدیریت حجم نقدینگی» و «حفظ ارزش پول» اعمال می‌کند، «سیاست‌های پولی» می‌گویند.

انواع سیاست‌های پولی:

۱) کاهش نقدینگی در گردش (سیاست پولی انقباضی): مانند: فروش اوراق مشارکت به مردم

۲) افزایش نقدینگی در گردش (سیاست پولی انبساطی): مانند: خرید اوراق مشارکت در دست مردم

انواع سیاست‌های پولی	در چه شرایطی این سیاست توسط بانک مرکزی به کار گرفته می‌شود؟	یکی از روش‌های اعمال این سیاست: (سیاست بازار باز (فروش یا خرید اوراق مشارکت))
کاهش نقدینگی در گردش (سیاست پولی انقباضی)	زمانی که اقتصاد کشور دچار تورم می‌شود، برای پیشگیری از افزایش قیمت‌ها یا کاهش سرعت آن	بانک مرکزی می‌تواند با فروش اوراق مشارکت، به مردم به طور مستقیم از مقدار پول در دست مردم بکاهد و تورم را کنترل و نقدینگی در گردش را کاهش دهد.
افزایش نقدینگی در گردش (سیاست پولی انبساطی)	در حالت رکود اقتصادی که سطح تولید کاهش و بیکاری افزایش می‌یابد.	بانک مرکزی می‌تواند با خرید اوراق مشارکت در دست مردم به طور مستقیم نقدینگی بیشتری را به جامعه تزریق کند.

گزینه ۳ پاسخ صحیح است. پول‌های کاغذی، تحریری یا الکترونیکی، خصوصیتی اعتباری دارند. ۱۲۱

گزینه ۴ پاسخ صحیح است. نقش اصلی پول در مبادلات، تسهیل مبادله است. ۱۲۲

یکی از وظایف پول، وسیلهٔ پس‌انداز و حفظ ارزش است. افراد پول‌هایی را که نزد خود پس‌انداز کرده‌اند، به عنوان وسیلهٔ حفظ ارزش در زمان لازم مورد استفاده قرار می‌دهند. این وظیفه زمانی تحقق می‌یابد که پول بتواند در مقابل سطح عمومی قیمت‌ها ارزش خود را حفظ کند.

گزینه ۱ پاسخ صحیح است. ۱۲۳

$$\text{تورم} = \frac{\text{سطح عمومی قیمت ها در ابتدای سال} - \text{سطح عمومی قیمت ها در انتهای سال}}{\text{سطح عمومی قیمت ها در ابتدای سال}} \times 100$$

$$C \text{ کشور} = \frac{280 - 200}{200} \times 100 = 40 \text{ درصد}$$

$$A \text{ کشور} = \frac{1}{2} C \text{ کشور} = \frac{1}{2} \times 40 = 20 \text{ درصد}$$

$$A \text{ برای کشور} \Rightarrow \frac{20}{100} = \frac{x - 400}{400} \Rightarrow 0.2 \times 400 = x - 400 \Rightarrow x = 400 + 80 = 480$$

$$B \text{ کشور} = 3 \times A \text{ کشور} = 3 \times 20 = 60 \text{ درصد}$$

$$B \text{ برای کشور} \Rightarrow \frac{60}{100} = \frac{448 - y}{y} \Rightarrow 0.6y = 448 - y \Rightarrow 1.6y = 448 \Rightarrow y = \frac{448}{1.6} = 280$$

راه حل میان بر:

تو سؤال‌های این شکلی که نرخ تورم رو به ما داده و قیمت سال قبل و یا سال جدید رو از ما می‌خواهد، می‌شود خیلی راحت به جواب رسید: اول باید عدد تورم را به صورت اعشاری بنویسیم، و بعد آن را با عدد ۱ جمع کنیم:

حالا دو تا حالت پیش می‌آید:

حالت اول (مانند کشور A):

قیمت سال قبل رو داریم و باید قیمت سال جدید را به دست بیاوریم. در نتیجه باید عدد به دست آمده (۱/۲۰) را در قیمت سال قبل ضرب کنیم.

$$1/20 \times 400 = 480$$

حالت دوم (مانند کشور B):

قیمت سال جدید را داریم و باید قیمت سال قبل را به دست بیاوریم. پس باید قیمت سال جدید را بر عدد به دست آمده

$$\frac{448}{1.60} = 280 \text{ (تقسیم کنیم)}$$

گزینه ۴ پاسخ صحیح است. ۱۲۴

مسیر تکامل پول: کالاهای بادوام ← پول فلزی ← پول تحریری ← پول الکترونیکی

گزینه ۲ پاسخ صحیح است. ۱۲۵

گزینه ۳ پاسخ صحیح است. ۱۲۶

گزینه ۳ پاسخ صحیح است. ۱۲۷

الف) برای اینکه مصرف‌کنندگان از کالاهای گوناگون و ارزان استفاده کنند، باید کالاهای خارجی از مشابه داخلی، ارزان‌تر و مرغوب‌تر باشد و می‌تواند مشابه آنها در داخل تولید نشود تا اجازه ورود داشته باشند.
ب) خلق اعتبار زمانی به مؤسسات و بانک‌های ادوار گذشته به پول کاغذی رسیدند.
ج) اوراق مشارکت برای این است که اعتبار طرح‌های توسعه‌ای و عمرانی در کشور را به دست بیاورند.

گزینه ؟ پاسخ صحیح است. ۱۲۸

گزینه ۴ پاسخ صحیح است. ۱۲۹

(الف) دو وظیفه‌ی وسیله‌ی پس‌انداز و حفظ ارزش و وسیله‌ی پرداخت‌های آتی پول در ارتباط نزدیک با هم قرار دارند. در صورتی که پول بتواند حفظ ارزش کند می‌تواند وسیله‌ی مناسبی برای پرداخت‌های آتی نیز می‌باشد.
 (ب) تحریم‌ها هزینه‌هایی را بر کشور تحريم‌شونده تحمیل می‌کند. اما بر خلاف تصویر اولیه، کشور تحریم‌کننده و سایر کشورها نیز از تحریم زیان می‌بینند. هم‌چنین برخلاف تصور عمومی، تحریم می‌تواند منافع نیز داشته باشد. تحریم موجب می‌شود که کشور تحریم‌شونده با نیروهای داخلی اقدام به تولید دست بزند و مزیت‌های اقتصادی و رقابتی کسب کند. با اجرای صحیح این سیاست اقتصاد درون‌زا تحقق می‌یابد.
 (ج) انواع مالیات‌های غیرمستقیم: مالیات بر نقل و انتقالات دارایی، حقوق و عوارض گمرکی، عوارض، مالیات بر فروش

گزینه ۲ پاسخ صحیح است. مقام‌سازی اقتصادی یعنی مجموع نیروهای مولد، شرکت‌ها، مؤسسات تولیدی و خدماتی یک کشور که روی پای خود بایستند تا بتوانند در صورت به وجود آمدن بحران، تمامی نیازهای اساسی و حیاتی‌شان را خودشان تولید و تأمین کنند و وابسته به بیگانگان نباشند. ۱۳۰

گزینه ۴ پاسخ صحیح است. ۱۳۱

(الف) (نادرست است) وقف‌نامه‌های باقیمانده از زنان مسلمان ایرانی (دوران شکوفایی تمدن اسلامی)
 (ب) (نادرست است) کاروان‌سراها و فعالیت‌های خیریه‌ها (حکومت صفویه)
 (ج) صحیح است.
 (د) صحیح است.
 (ه) صحیح است.

گزینه ۴ پاسخ صحیح است. موارد زیر حکایت از اهمیت و بزرگی اقتصاد ایران در دوران باستان داشت: ۱۳۲

- | | |
|--|---|
| ۱ - وجود حکومت‌ها و سلسله‌های بزرگ | } |
| ۲ - لشکرکشی‌ها و جنگ‌ها | |
| ۳ - پهناوری مرزهای ایران باستان | |
| ۴ - جاده ابریشم و تجارت با چین و امپراتوری روم | |

گزینه ۲ پاسخ صحیح است. در صورتی یک کشور می‌تواند به وضعیت استقلال و استحکام اقتصادی نزدیک شود که با خلق مزیت‌های جدید اقتصادی امکان تأمین برخی نیازهای مهم و اساسی را در داخل فراهم کند. ۱۳۳

گزینه ۱ پاسخ صحیح است. ۱۳۴

- بهبود خدمات پستی و انتقال وجوه بین شهرها: دوره قاجار
- اقتصاد یکپارچه و مستقل هماهنگ با لایه‌های دینی و اجتماعی و فرهنگی کشور: نیمه اول حکومت صفویه
- نظام نوین در مالیات‌ستانی: دوره پهلوی
- تأسیس شرکت اسلامی: دوره قاجار

گزینه ۲ پاسخ صحیح است. برای مقابله با تورم، سیاست پولی انقباضی مناسب است. / برای مقابله با فقر، بهبود توزیع درآمد مناسب است. / برای مقابله با تحریم، تنوع شرکای تجاری مناسب است. ۱۳۵

گزینه ۲ پاسخ صحیح است. ۱۳۶

(الف) در مقدمه‌ی قانون اساسی آمده است:

«در تحکیم بنیان‌های اقتصادی، اصل، رفع نیازهای انسان در جریان رشد و تکامل اوست، نه هم‌چون دیگر نظام‌های اقتصادی متمرکز و تکاثر ثروت و سودجویی، زیرا که در مکاتب مادی، اقتصاد خود هدف است و بدین جهت در مراحل رشد، اقتصاد عامل تخریب و فساد و تباهی می‌شود ولی در اسلام، اقتصاد وسیله است و از وسیله انتظاری جز کارایی بهتر در راه وصول به هدف نمی‌توان داشت.»

(ب) بانک توسعه اسلامی مستقر در جده (وابسته به سازمان کنفرانس اسلامی)، نیز بانک توسعه‌ای است.

(ج) مبادلات بین‌المللی در بازارهای کار و سرمایه:

- روابط اقتصادی در فضای بین‌المللی تنها به مبادله‌ی کالاها و خدمات محدود نمی‌شود بلکه به حرکت نیروی کار و سرمایه از نقطه‌ای به نقطه‌ی دیگر که شرایط بهتری دارد، گسترش می‌یابد.

- هر کشوری به دنبال جذب سرمایه‌گذاری‌های خارجی برای کشور خود است تا علاوه بر پس‌اندازهای داخلی خود،

پس‌اندازهای کشورهای دیگر را نیز در رشد و افزایش کارخانه‌ها و بخش‌های تولیدی داخلی به کار گیرد.

(د) علاوه بر خرید حضوری، اشخاص می‌توانند از طریق اینترنت نیز به خرید اقدام کنند و پس از عملیات، نمونه‌ی چاپی آن‌را به عنوان رسید دریافت نمایند.

گزینه ؟ پاسخ صحیح است. ۱۳۷

گزینه ۱ پاسخ صحیح است. تولید ناخالصی داخلی (GDP) یعنی مجموع ارزش پولی کالاها و خدمات نهایی که در یک کشور در طول یک دوره زمانی مشخص تولید شده است پس این گزینه از سایر گزینه‌ها درست‌تر می‌باشد. ۱۳۸

گزینه ۲ پاسخ صحیح است. ۱۳۹

- کارایی (استفاده اقتصاد از بیشترین منابع خود): تولید بر روی منحنی مرز امکانات تولید

- رشد اقتصادی: انتقال منحنی مرز امکانات تولید، به نقاطی که خارج از مرز امکانات تولید بودند و کشور آرزوی رسیدن به آن نقاط را داشته است.

گزینه ۲ پاسخ صحیح است. فرض کنید: در جامعه‌ای تنها دو کالای A و B تولید می‌شود. ۱۴۰

فرمول محاسبه تولید ناخالص داخلی واقعی در هر سال:

= تولید ناخالص داخلی واقعی در سال مورد نظر

+ (قیمت کالای A در سال پایه × مقدار تولید کالای A در سال مورد نظر)

(قیمت کالای B در سال پایه × مقدار تولید کالای B در سال مورد نظر)

فرمول محاسبه تولید ناخالص داخلی اسمی در هر سال:

= تولید ناخالص داخلی اسمی در سال مورد نظر

+ (قیمت کالای A در همان سال × مقدار تولید کالای A در سال مورد نظر)

(قیمت کالای B در همان سال × مقدار تولید کالای B در سال مورد نظر)

میلیارد ریال $940,000 = 840,000 + 100,000 = (700 \times 1,200) + (200 \times 500)$ GDP واقعی سال ۱۳۹۹

میلیارد ریال $1,260,000 = 1,120,000 + 140,000 = (700 \times 1,600) + (200 \times 700)$ GDP اسمی سال ۱۳۹۹

گزینه ۱ پاسخ صحیح است. یکی از شاخص‌های سنجش وضعیت توزیع درآمد شاخص دهک‌هاست ۱۴۱

شاخص توسعه انسانی (Human Development Index) HDI یکی از شاخص‌های رایج جهانی برای اندازه‌گیری پیشرفت‌های اقتصادی کشورهای گوناگون است.

شاخص قیمت مصرف‌کننده (CPI) یا همان نرخ تورم

گزینه ۳ پاسخ صحیح است. هرگاه اقتصاددانان در محاسبه درآمد مردم برای شاخص دهک‌ها به مشکل برخوردند از هزینه خانوار استفاده می‌کنند زیرا هزینه خانوار بیانگر درآمد آنهاست. یعنی اقتصاددانان به جای اختلاف درآمدی اختلاف هزینه‌ای را محاسبه می‌کنند و از آن برای شاخص دهک‌ها استفاده می‌کنند.

۱۴۲

گزینه ۳ پاسخ صحیح است. محاسبه GDP واقعی در هر سال (سال ۱۳۹۵ سال پایه است).

۱۴۳

$$1395 \text{ سال واقعی GDP} = (50 \times 100) + (16 \times 50) = 50,000 + 800 = 50,800$$

$$1396 \text{ سال واقعی GDP} = (60 \times 100) + (20 \times 50) = 60,000 + 1,000 = 61,000$$

$$1397 \text{ سال واقعی GDP} = (70 \times 100) + (25 \times 50) = 70,000 + 1,250 = 71,250$$

$$\text{نرخ رشد تولید واقعی (از سال ۱۳۹۵ تا ۱۳۹۶)} = \frac{61,000 - 50,800}{50,800} \times 100 \approx 20 \text{ درصد}$$

$$\text{نرخ رشد تولید واقعی (از سال ۱۳۹۶ تا ۱۳۹۷)} = \frac{71,250 - 61,000}{61,000} \times 100 \approx 16/8 \text{ درصد}$$

گزینه ۱ پاسخ صحیح است. گاهی درآمدهای مردم برای به دست آوردن شاخص دهک‌ها، قابل ثبت نیست. به همین دلیل اقتصاددانان برای به دست آوردن اختلاف درآمدی، اختلاف هزینه‌ای را محاسبه می‌کنند. در این حالت هزینه خانوار نماینده درآمد آن است.

۱۴۴

گزینه ۱ پاسخ صحیح است. $\frac{\text{سهم دهک دهم}}{\text{سهم دهک اول}} = \text{شاخص دهک‌ها}$

۱۴۵

$$1400 \text{ سال الف در کشور} = \frac{22}{2} = 11$$

$$1401 \text{ سال الف در کشور} = \frac{21}{3} = 7$$

$$1402 \text{ سال الف در کشور} = \frac{20}{4} = 5$$

هر چه شاخص وضعیت توزیع درآمد (شاخص دهک‌ها - نسبت سهم دهک دهم به سهم دهک اول) کمتر باشد: توزیع درآمد در آن جامعه مناسب‌تر است و بالعکس. مشاهده می‌شود شاخص دهک‌ها در کشور الف از سال ۱۴۰۰ تا سال ۱۴۰۲ رو به کاهش است، در نتیجه وضعیت توزیع درآمد در این کشور رو به بهبود و به سمت عادلانه‌تر شدن است.

$$1400 \text{ سال الف در کشور} = \frac{20}{4} = 5$$

$$1401 \text{ سال الف در کشور} = \frac{19}{5} = 3/8$$

$$1402 \text{ سال الف در کشور} = \frac{18}{6} = 3$$

مشاهده می‌شود شاخص دهک‌ها در کشور ب نیز از سال ۱۴۰۰ تا سال ۱۴۰۲ رو به کاهش است، در نتیجه وضعیت توزیع درآمد در این کشور رو به بهبود و به سمت عادلانه‌تر شدن است.

به طور کلی شاخص دهک‌ها در کشور ب در مقایسه با شاخص دهک‌ها در کشور الف در هر سال، عددی کوچک‌تر است، در نتیجه می‌توان گفت وضعیت توزیع درآمد در کشور ب عادلانه‌تر از وضعیت توزیع درآمد در کشور الف است.

گزینه ۱ پاسخ صحیح است. با توجه به اطلاعاتی که از ۲ کشور داریم به نتایج زیر می‌رسیم: ۱۴۶

$$\frac{\text{دهک ۱۰}}{\text{دهک ۱}} = \text{شاخص دهک}$$

۱- توزیع درآمد به صورت کاملاً بهبود یافته می‌باشد در سال‌های اخیر یعنی هر چه جلوتر می‌رویم شاخص دهک بهبود پیدا کرده است. پس به این نکته می‌رسیم که هر چه شاخص دهک دورتر شود یعنی اینکه کشور درآمد توزیع شده عادلانه‌تری دارد.

$$\left(\text{کشور الف } ۱۳۷۰ \Rightarrow \frac{۲۱}{۳} = ۷ \right)$$

$$۱۳۸۰ \Rightarrow \frac{۲۰}{۴} = ۵$$

$$۱۴۰۰ \Rightarrow \frac{۱۹}{۴} = ۴/۷۵$$

$$۱۳۷۰ \Rightarrow \frac{۱۸}{۵} = ۳/۶ \text{ (کشور ب)}$$

$$۱۳۸۰ \Rightarrow \frac{۱۵}{۶} = ۲/۵$$

$$۱۴۰۰ \Rightarrow \frac{۱۶}{۷} = ۲/۲$$

گزینه ۲ پاسخ صحیح است. ۱۴۷

مورد اول: در کشورهای پیشرفته روحیه اعتماد و همبستگی برای تلاش اقتصادی در این کشورها برجسته است.
مورد آخر: در همه کشورهای ما بیکاری و نرخ بیکاری داریم.
مورد صحیح می‌باشد.

گزینه ۲ پاسخ صحیح است. ۱۴۸

$$\text{A شاخص دهکها در کشور} = \frac{\text{سهم دهک دهم}}{\text{سهم دهک اول}} = \frac{۲۸}{۴} = ۷$$

$$\text{B شاخص دهکها در کشور} = \frac{\text{سهم دهک دهم}}{\text{سهم دهک اول}} = \frac{۴ \times ۸}{۵} = ۶/۴$$

$$\text{C شاخص دهکها در کشور} = \frac{\text{سهم دهک دهم}}{\text{سهم دهک اول}} = \frac{۳۰}{۳۰ \times \frac{۱}{۱۰}} = \frac{۳۰}{۳} = ۱۰$$

هر چه شاخص وضعیت توزیع درآمد (شاخص دهکها - نسبت سهم دهک دهم به سهم دهک اول) بیشتر باشد؛ توزیع درآمد در آن جامعه نامناسب‌تر است و بالعکس. در نتیجه:

- وضعیت توزیع درآمد در کشور C با شاخص دهکهای ۱۰، مناسب‌تر از وضعیت توزیع درآمد در سایر کشورها است.
- وضعیت توزیع درآمد در کشور B با شاخص دهکهای ۶/۴، عادلانه‌تر از وضعیت توزیع درآمد در سایر کشورها است.
- دهک اول کشور C که برابر با ۳ درصد است در مقایسه با سایر دهکها کمتر است و کمترین درصد درآمد ملی را دارد.

۱۴۹) گزینه ۳ پاسخ صحیح است.

$$\begin{aligned} 1386 \text{ سال در شاخص دهکها} &= \frac{\text{سهم دهک دهم}}{\text{سهم دهک اول}} = \frac{20}{4} = 5 \\ 1387 \text{ سال در شاخص دهکها} &= \frac{\text{سهم دهک دهم}}{\text{سهم دهک اول}} = \frac{27/5}{5} = 5/5 \\ 1388 \text{ سال در شاخص دهکها} &= \frac{\text{سهم دهک دهم}}{\text{سهم دهک اول}} = \frac{32}{8} = 4 \\ 1389 \text{ سال در شاخص دهکها} &= \frac{\text{سهم دهک دهم}}{\text{سهم دهک اول}} = \frac{21}{6} = 3/5 \end{aligned}$$

هر چه شاخص وضعیت توزیع درآمد (شاخص دهکها - نسبت سهم دهک دهم به سهم دهک اول) بیشتر باشد؛ توزیع درآمد در آن جامعه نامناسبتر است و بالعکس. در نتیجه:

- وضعیت توزیع درآمد در سال ۱۳۸۷ با شاخص دهکهای ۵/۵، نامناسبتر از وضعیت توزیع درآمد در سایر کشورها است.
- وضعیت توزیع درآمد در سال ۱۳۸۹ با شاخص دهکهای ۳/۵، عادلانهتر از وضعیت توزیع درآمد در سایر کشورها است.

۱۵۰) گزینه ۲ پاسخ صحیح است. یک منشأ رشد اقتصادی، افزایش در منابع (جمعیت، سرمایه‌های فیزیکی، سرمایه انسانی) است.

- جمعیت در طول زمان رشد می کند، در نتیجه عرضه نیروی کار هم افزایش می یابد -
- سرمایه های فیزیکی هم می توانند با سرمایه گذاری در کارخانه ها، ساختمان ادارات - ماشینآلات و مغازه ها افزایش یابد
- سرمایه انسانی با آموزش افزایش می یابد -

مؤلفه‌های پیشرفت اقتصادی:

- رشد اقتصادی
- شاخص های توسعه انسانی (نظیر بهداشت، سواد) میانگین سالهای تحصیل (و امید زندگی)
- شاخص توزیع عادلانه درآمد

۱۵۱) گزینه ۲ پاسخ صحیح است.

۱۵۲) گزینه ۴ پاسخ صحیح است.

بررسی و شفاف‌سازی اطلاعات مالی شرکتها و ... ← جلوگیری از نوسان شدید قیمت محصولات راهبردی ← کالاها و خدماتی هستند که قیمت و موضوعات مربوط به قیمت (سود و زیان و ...) اهمیت چندانی ندارد.

۱۵۳) گزینه ۲ پاسخ صحیح است.

۱۵۴) گزینه ۳ پاسخ صحیح است.

۱۵۵) گزینه ۴ پاسخ صحیح است.

گزینه ۲ پاسخ صحیح است. ۱۵۶

کشورها	شاخصها	نرخ مرگ و میر نوزادان در هر ۱۰۰۰ تولد	امید به زندگی «سال»	نرخ باسواد بزرگسالان به درصد	تولید ناخالص داخلی سرانه به دلار PPP ثابت سال ۲۰۱۱
الف	نروژ رتبه‌ی اول	۲/۳	۸۱/۶	حدود ۱۰۰	۶۲۴۴۸
ب	موزامبیک رتبه‌ی ۱۸۰	۶۱/۵	۵۵/۱	۵۰/۶	۱۰۷۰
ج	ایران رتبه‌ی ۶۹	۱۴/۴	۷۵/۴	۸۴/۳	۱۵۰۹۰
د	چین رتبه‌ی ۹۰	۱۰/۹	۷۵	۹۵/۱	۱۱۵۲۵

گزینه ۳ پاسخ صحیح است. با توجه به عبارت نسبت به مزد، نرخ مالیاتی مورد محاسبه تصاعدی طبقه‌ای است، در این نرخ مالیاتی با جزئی افزایش یا کاهش درآمد مالیات فرد به شدت تغییر نمی‌کند. ۱۵۷

$$(250 - 150) \times \frac{15}{100} = 15 \text{ میلیون ریال}$$

$$(350 - 250) \times \frac{20}{100} = 20 \text{ میلیون ریال}$$

$$(450 - 350) \times \frac{25}{100} = 25 \text{ میلیون ریال}$$

$$(900 - 450) \times \frac{35}{100} = 157.5 \text{ میلیون ریال}$$

$$(15,000 - 900) \times \frac{45}{100} = 6,345 \text{ میلیون ریال}$$

$$\text{ریال } 6,562,500,000 = 6,562,500,000 + 157.5 = 6,562,500,000 + 15 + 20 + 25 + 157.5$$

$$\text{ریال } 8,437,500,000 = 15,000,000,000 - 6,562,500,000$$

گزینه ۱ پاسخ صحیح است. ۱۵۸

الف) گاهی سازمان تولید مشارکتی است و همه‌ی عوامل تولید صاحب محصول هستند. در این صورت همه با هم در فرایند تولید مشارکت می‌کنند و محصول یا ارزش محصول به طور مساوی و یا با نسبتی تقسیم می‌شود که به توافق رسیده‌اند؛ برای مثال صاحبان زمین، بذر، تراکتور و نیروی کار همه با هم، یک واحد تعاونی کشت و صنعت راه‌اندازی می‌کنند و به تولید گندم می‌پردازند و عواید را نیز بین خود تقسیم می‌کنند: مثل سازمان‌ها و شرکت‌های تعاونی و سهامی.

ب) انگیزه‌ی «مصرف‌کنندگان» تقاضای کالا، رفع نیاز است و تصمیم آن‌ها در مورد مصرف کالا از عواملی مانند «قیمت کالا»، «درآمد»، «سلیقه‌ی خودشان»، «تبلیغات» و «قیمت سایر کالاها» تأثیر می‌پذیرد.

ج) نظر اقتصاددانان در رابطه با توجه یا عدم توجه به مفاهیم اقتصادی و نسبی، استقلال اقتصادی، خودکفایی، عدم وابستگی و تولید و مصرف کالاهای ملی: ایجاد ترکیبی جامع بین منافع ملی و بین‌المللی

د) پنج اصل ۵۱ تا ۵۵ به مباحث مالی دولت شامل دریافت‌ها و درآمدهای دولت، بحث بودجه و نهادهای تصویب‌کننده و ناظر بر حسن اجرای آن تأکید دارد.

۱۵۹

گزینه ۱ پاسخ صحیح است.

الف) نرخ دلار در بازار ارز کشور به طور روزانه نوسان و تغییر دارد. در نتیجه نرخ دلار در بازار کشورها معیار مناسبی برای تبدیل تولید ملی کشورها به آن و مقایسه با هم نیست. به همین دلیل از دلار دیگری به نام «دلار رفاهی یا دلار برابری قدرت خرید» (PPP) استفاده می‌کنند به این شکل که یک سبد کالایی یکسان سالانه در کشور ایران قیمت‌گذاری و هم‌زمان همان سبد کالایی در کشور آمریکا تعیین قیمت می‌شود. تقسیم این دو بر هم، قدرت خرید دلار را در ایران نشان می‌دهد.

ب) به کالاهای بادوام سرمایه‌ای که در جریان تولید به کار گرفته می‌شود، نظیر تراکتور برای کشاورز و کامیون برای شرکت‌های حمل‌ونقل «سرمایه‌ی فیزیکی» گفته می‌شود، و به آنچه که در طول زمان، خدمتشان در جریان تولید استفاده می‌شود، «کالاهای سرمایه‌ای بادوام» می‌گویند و تولیدکننده با آن‌ها ارزش افزوده ایجاد می‌کند.

ج) نفت خام، ثروت عمومی است و همان‌طور که فروش فرش و اثاث خانه، نباید برای خانوار درآمد به شمار رود، منابع حاصل از صادرات و فروش نفت نیز درآمد محسوب نمی‌شود. این مطلب چند سالی است در بودجه کشور رعایت می‌شود و با تشکیل صندوق توسعه ملی، وجوه حاصل از فروش نفت خام و گاز طبیعی تولید شده پس از کسر هزینه‌های تولید، درآمد دولت به شمار نمی‌رود، بلکه ناشی از فروش ثروت عمومی است و برای زاینده‌گی مستمر و حفظ این ثروت طبیعی باید به سرمایه مولد تبدیل شود.

د) گاهی به مواردی مثل سفته، چک، پول، برات، حوالجات، تمبر و ... در زبان مردم، اوراق بهادار گفته می‌شود که کارکرد آن‌ها تضمین تعهدات است نه تأمین مالی. اما در اصطلاح اقتصاددانان به آن‌ها بهادار نمی‌گویند. هم‌چنین اوراق مبادله شده در بورس کالا نیز از نظر مردم اوراق بهادار شمرده می‌شود در حالی‌که از نظر اقتصاددانان، اوراق بهادار صرفاً شامل اوراق سهام و اوراق مشارکت می‌شود.

۱۶۰

گزینه ۳ پاسخ صحیح است.

$$\text{ارزش تولید مردم کشور که در خارج ساکن هستند} = \frac{1}{3} \times \text{ارزش خدمات}$$

$$\text{ارزش خدمات} = \frac{1}{3} \times 45 = 15 \text{ میلیارد ریال}$$

$$\text{هزینه‌ی استهلاک} = \frac{1}{5} = \text{ارزش تولید خارجی‌ان مقیم کشور}$$

$$\Rightarrow \text{ارزش تولید خارجی‌ان مقیم کشور} = \frac{1}{5} \times 14 = 21 \text{ میلیارد ریال}$$

$$\text{ارزش خدمات} + \text{ارزش پوشاک} + \text{ارزش مواد غذایی} + \text{ارزش ماشین‌آلات} = \text{تولید ناخالص داخلی} + \text{ارزش تولید خارجی‌ان مقیم کشور}$$

$$\Rightarrow \text{میلیارد ریال} = 171 = 135 + 15 + 21 = \text{تولید ناخالص داخلی}$$

$$\text{هزینه‌ی استهلاک} - \text{تولید ناخالص داخلی} = \text{تولید خالص داخلی}$$

$$\Rightarrow \text{میلیارد ریال} = 157 = 171 - 14 = \text{تولید خالص داخلی}$$

$$\text{هزار ریال} = \frac{157}{50} = \frac{\text{تولید خالص داخلی}}{\text{جمعیت کشور}} = \text{تولید خالص داخلی سرانه}$$

$$\text{ارزش تولید خارجی‌ان مقیم کشور} - \text{تولید خالص داخلی} = \text{تولید خالص ملی}$$

$$+ \text{ارزش تولید مردم کشور که در خارج ساکن هستند}$$

$$\text{میلیارد ریال} = 181 = 157 - 21 + 45 = \text{تولید خالص ملی}$$

گزینه ۲ پاسخ صحیح است. ۱۶۱

$$\text{میلیارد ریال } 17 = 85 \div 5 = \text{هزینه‌ی استهلاک سالانه}$$

$$\text{میلیون ریال } 5950 = 85,000 \times \frac{7}{100} = \text{میزان افزایش قیمت کالا}$$

$$\text{میلیون ریال } 90,950 = 85,000 + 5950 = \text{بهای جدید کالا}$$

$$\text{میلیون ریال } 8,190 = 90,950 \div 5 = \text{هزینه‌ی استهلاک سالانه با احتساب قیمت جدید}$$

$$\text{میلیون ریال } 36,380 = 8,190 \times 2 = \text{هزینه‌ی استهلاک دو سال آخر}$$

گزینه ۴ پاسخ صحیح است. ۱۶۲

الف) مالیات بر ارزش افزوده نوعی مالیات چندمرحله‌ای است که کالاها و خدمات واسطه‌ای را از پرداخت مالیات معاف می‌کند. ب) مسکین در ادبیات اقتصادی وضعی بدتر از فقیر دارد، مسکین کسی است که حتی در صورت دسترسی به امکانات معیشتی، توانایی استفاده از آن‌ها را هم ندارد.

ج) افزایش در مخارج (جاری یا عمرانی) دولت و کاهش در نرخ‌ها یا پایه‌های مالیاتی (سیاست مالی انبساطی) بهترین راه تحریک تقاضای عمومی است که در مواقع رکود می‌تواند رونق را به بازار برگرداند.

گزینه ۴ پاسخ صحیح است. ۱۶۳

گروه کشورها	متوسط درصد نرخ باسوادی بزرگسالان (به طور متوسط)	متوسط نرخ مرگ‌ومیر نوزادان (در هر ۱۰۰۰ نفر)	متوسط امید به زندگی در آغاز تولد
۴۳ کشور با توسعه‌ی انسانی ضعیف	۵۷/۱	۸۹/۴	۶۰/۵ سال
۴۹ کشور با توسعه‌ی انسانی زیاد	نزدیک به ۱۰۰٪	۶	۸۰/۵ سال

درآمد سرانه‌ی سالانه در بیش از ۵۰ کشور در حال توسعه‌ی فقیر از ۱۶۰۰ دلار کمتر است در حالی که هیچ‌یک از ۲۰ کشور توسعه‌یافته‌ی دنیا درآمد سرانه‌ی سالانه کمتر از ۴۰,۰۰۰ دلار در سال ندارند.

در سال ۲۰۱۵ میلادی تولید ناخالص داخلی سرانه در کشور سوئیس بیش از ۸۰۶۷۵ دلار و در سودان حدود ۲۲۱ دلار بوده است.

گزینه ۳ پاسخ صحیح است. با توجه به عبارت نسبت به مازاد، نرخ مالیاتی مورد محاسبه تصاعدی طبقه‌ای است، در این نرخ مالیاتی با جزئی افزایش یا کاهش درآمد مالیات فرد به شدت تغییر نمی‌کند.

$$(250 - 150) \times \frac{15}{100} = 15 \text{ میلیون ریال}$$

$$(350 - 250) \times \frac{20}{100} = 20 \text{ میلیون ریال}$$

$$(450 - 350) \times \frac{25}{100} = 25 \text{ میلیون ریال}$$

$$(900 - 450) \times \frac{35}{100} = 157.5 \text{ میلیون ریال}$$

$$(15,000 - 900) \times \frac{45}{100} = 6,345 \text{ میلیون ریال}$$

$$\text{میلیون ریال} = 15 + 20 + 25 + 157.5 + 6,345 = 6562.5$$

$$\text{میلیون ریال} = 6562.5 \times 12 = 78,750$$

$$\text{ریال} = 15,000,000,000 - 78,750,000,000 = 8,437,500,000$$

گزینه ۱ پاسخ صحیح است.

(الف) کاهش قدرت خرید پول در جامعه نتیجه‌ی وجود تورم در آن جامعه است.

(ب) پول در مقابل «سطح عمومی قیمت‌ها» ارزش خود را حفظ نکرده است.

(ج) یکی از دلایل کاهش قدرت خرید پول، حجم زیاد پول نسبت به تولید در یک جامعه است.

(د) رابطه‌ی قدرت خرید پول با «سطح عمومی قیمت‌ها» یک رابطه‌ی معکوس است. هر چه سطح عمومی قیمت‌ها افزایش

یابد، قدرت خرید پول کاهش می‌یابد و برعکس، با پایین رفتن سطح عمومی قیمت‌ها، قدرت خرید پول افزایش می‌یابد.

(ه) چون یک واحد پول نتوانسته است در طول زمان ارزش خود را حفظ کند، می‌گوییم قدرت خرید آن دستخوش تغییر است.

(و) قدرت خرید پول به «سطح عمومی قیمت‌ها» در جامعه بستگی دارد.

گزینه ۴ پاسخ صحیح است.

(الف) به طور کلی سیاست‌های تثبیت اقتصادی به دو دسته سیاست‌های پولی و سیاست‌های مالی تقسیم می‌شود.

(ب) دولت‌ها برای مدیریت کلان کشور، علاوه بر سیاست‌های پولی، از ابزارها و سیاست‌های مالی استفاده می‌کنند.

(ج) برای تداوم پیشرفت اقتصادی، علاوه بر ارتقای توان تولید (به عنوان عنصر اساسی پیشرفت)، مقاومت‌سازی اقتصاد و

آسیب‌ناپذیری اقتصاد از فشارها و تکان‌های مختلف الزامی است. اقتصاددانان با اصلاحاتی مانند ثبات اقتصادی، استحکام

اقتصادی، ضدشکنندگی، تاب‌آوری اقتصاد و پایداری مسئله‌ی مقاومت‌سازی اقتصاد را پیگیری و اجرا می‌کنند.

(د) نفت خام، ثروت عمومی است و همان‌طور که فروش فرس و اثاث خانه، نباید، برای خانوار درآمد به شمار رود، منابع حاصل

از صادرات و فروش نفت نیز درآمد محسوب نمی‌شود.

گزینه ۲ پاسخ صحیح است. ۱۶۷

ارزش ماشین‌آلات + ارزش مواد غذایی + ارزش پوشاک = تولید ناخالص داخلی

تولید خارجیان مقیم کشور + ارزش خدمات ارائه شده +

میلیارد ریال $222 = 145 + 44 + 33$ = تولید ناخالص داخلی

میلیارد ریال $11 = \frac{1}{4} \times 44 = \frac{1}{4} \times (\text{ارزش خدمات ارائه شده})$ = هزینه استهلاک

(ارزش تولید خارجیان مقیم کشور) $\times \frac{1}{3} =$ ارزش تولید مردم کشور که در خارج اقامت دارند

$= \frac{1}{3} \times 33 = 11$ میلیارد ریال

تولید مردم کشور که در خارج اقامت دارند + هزینه استهلاک - تولید ناخالص داخل = تولید خالص ملی

میلیارد ریال $189 = 222 - 11 + 11 - 33$ = تولید خالص ملی \Rightarrow تولید خارجیان مقیم کشور -

هزینه استهلاک - تولید ناخالص داخلی = تولید خالص داخلی

میلیارد ریال $211 = 222 - 11$ = تولید خالص داخلی \Rightarrow

هزار ریال $\frac{211}{25} = \frac{8}{44}$ = $\frac{\text{تولید خالص داخلی}}{\text{جمعیت کشور}}$ = تولید خالص داخلی سرانه

میلیارد ریال $6 = \frac{72}{12}$ = هزینه استهلاک سالانه

گزینه ۱ پاسخ صحیح است. ۱۶۸

میلیارد ریال $\frac{3}{6} = 72 \times \frac{5}{100}$ = میزان کاهش بها

میلیون ریال $68,400,000 = 68 \frac{1}{4}$ = میلیارد ریال $\frac{68}{4} = 72 - \frac{3}{6}$ = بهای جدید کالا

میلیارد ریال $\frac{5}{7} = \frac{68/4}{12}$ = هزینه استهلاک سالانه جدید

میلیارد ریال $17 \frac{1}{1} = 5/7 \times 3$ = مجموع هزینه استهلاک سه سال آخر کالا با احتساب قیمت جدید

= ۱۷,۱۰۰ میلیون ریال

گزینه ؟ پاسخ صحیح است. ۱۶۹

گزینه ؟ پاسخ صحیح است. ۱۷۰

گزینه ؟ پاسخ صحیح است. ۱۷۱

گزینه ۴ پاسخ صحیح است. ۱۷۲

الف) تعدادی از کشورهای در حال توسعه که با پیش‌بینی و اجرای برنامه‌های بلندمدت توانسته‌اند در وضعیت شاخص‌های توسعه‌ی خود بهبود نسبی ایجاد کنند. چین (با رتبه‌ی ۹۰) از جمله‌ی این کشورهاست که با وجود درآمدسرانه نه چندان زیاد از نظر بسیاری از شاخص‌های توسعه وضعیت نسبتاً مطلوبی دارد.

ب) معمولاً با در نظر گرفتن دو شاخص درآمد سرانه و میزان نابرابری در توزیع درآمد می‌توان تصویری از وسعت و اندازه‌ی فقر در هر کشور به دست آورد.

ج) دولت با سیاست‌هایی نظیر افزایش بهره‌وری و امنیت اقتصادی، بهبود محیط کسب و کار، برنامه‌ریزی در جهت به‌کارگیری فناوری‌های نوین، فعالیت‌های بخش تولید و عرضه را بهبود می‌بخشد.

د) به واسطه‌ی مالیات بر ارزش افزوده، شفافیت مالیاتی افزایش و انگیزه‌ی فرار مالیاتی کاهش می‌یابد.

هـ) منازعات و جنگ‌های اقتصادی قرون اخیر و رفتار استکباری قدرت‌های جهان موجب شده است که اقتصاددانان به اهمیت خودکفایی در بعضی از تولیدات داخلی و عدم وابستگی برای تأمین آن‌ها از خارج تأکید کنند.

و) اصل ۴۳ قانون اساسی: (اقتصاد مردمی و رد تسلط بیگانگان) «برای تأمین استقلال اقتصادی جامعه، ریشه‌کن کردن فقر و محرومیت و برآوردن نیازهای انسان در جریان رشد با حفظ آزادی او، اقتصاد جمهوری اسلامی ایران براساس ضوابطی استوار شده است.»

گزینه ۲ پاسخ صحیح است. ۱۷۳

درصد ۱۹ = سهم دهک اول - سهم دهک دهم
 \Rightarrow درصد ۴ = سهم دهک اول \Rightarrow ۱۹ = سهم دهک اول - ۲۳ \Rightarrow
 \Rightarrow ۹/۵ = سهم دهک نهم - ۵ = درصد ۹/۵ = سهم دهک دوم - سهم دهک نهم
 درصد ۱۴/۵ = سهم دهک نهم
 \Rightarrow ۸/۵ = سهم دهک سوم - ۱۴/۵ = ۸/۵ = سهم دهک سوم - سهم دهک نهم
 \Rightarrow درصد ۶ = سهم دهک سوم \Rightarrow
 \Rightarrow ۷/۵ = سهم دهک هفتم - ۴ = ۷/۵ = سهم دهک اول - سهم دهک هفتم
 درصد ۱۱/۵ = سهم دهک هفتم

گزینه ۲ پاسخ صحیح است. ۱۷۴

واحد ۸۰۰ = ارزش پولی مسکوکات $= \frac{2}{5} \times 2000$
 واحد ۸۲۰ = سپرده‌ی غیردیداری = ۱۰۰۰ - ۱۸۰ = سپرده‌ی دیداری + سپرده‌ی غیردیداری
 سپرده‌ی غیردیداری + سپرده‌ی دیداری + اسکناس + مسکوکات + قرض‌الحسنه = نقدینگی
 واحد ۵۰۸۰ = ۱۲۸۰ + ۸۰۰ + ۲۰۰۰ + ۱۰۰۰ = نقدینگی
 ارزش پولی موجودی حساب‌های قرض‌الحسنه + سپرده‌ی غیردیداری = شبه پول
 واحد ۲۱۰۰ = ۸۲۰ + ۱۲۸۰ = شبه پول

گزینه ۲ پاسخ صحیح است. ۱۷۵

الف) نرخ دلار در بازار ارز کشور به طور روزانه نوسان و تغییر دارد. ضمن این که تعیین قیمت دلار در هر کشور به سیاست‌های آن کشور بستگی دارد. در نتیجه نرخ دلار در بازار کشورها معیار مناسبی برای تبدیل تولید ملی کشورها به آن و مقایسه با هم نیست. به همین دلیل از دلار دیگری به نام «دلار رفاهی یا دلار برابری قدرت خرید» (PPP) استفاده می‌شود. به این شکل که: یک سبد کالایی یکسان سالانه در کشور ایران قیمت‌گذاری و هم‌زمان همان سبد کالایی در کشور آمریکا تعیین قیمت می‌شود. تقسیم این دو قیمت برهم، قدرت خرید دلار را در ایران نشان می‌دهد.

ب) درآمدها گاهی قابل ثبت نیست، به همین دلیل اقتصاددانان برای به دست آوردن شکاف درآمدی، شکاف هزینه‌ای را محاسبه می‌کنند.

ج) دولت‌ها برای مدیریت کلان اقتصاد کشور و اجرای وظایف خود «سیاست‌های مالی» را اجرا می‌کنند که از دو ابزار درآمد و مخارج دولت تشکیل شده است.

د) نفت خام، ثروت عمومی است و همان طور که فروش فرش و اثاث خانه، برای خانوار درآمد به شمار رود، منافع حاصل از صادرات و فروش نفت نیز درآمد محسوب نمی‌شود. این مطلب چند سالی است در بودجه کشور رعایت می‌شود و با تشکیل صندوق توسعه ملی، وجوه حاصل از فروش نفت خام و گاز طبیعی تولید شده پس از کسر هزینه‌های تولید، درآمد دولت به شمار نمی‌رود، بلکه ناشی از فروش ثروت عمومی است و برای زاینده‌گی مستمر و حفظ این ثروت طبیعی باید به سرمایه مولد تبدیل شود.

ه) متخصصان اقتصاد تحریم با مطالعه‌ی بیش از ۱۴۰ نمونه‌ی تحریم اقتصادی در یک‌صد سال گذشته، معتقدند به طور متوسط پس از چهار سال، کفهی هزینه - فایده، تحریم به سمت فایده و منافع کشور تحریم‌شونده چرخیده است.

گزینه ۱ پاسخ صحیح است. ۱۷۶

تورم در سال دوم (افزایش قیمت‌ها در سال دوم)

تولید در سال دوم به قیمت پایه - تولید در سال دوم به قیمت جاری =

$$= ۱۷۰۰ - ۱۶۵۰ = ۵۰ \text{ هزار میلیارد ریال}$$

تورم در سال سوم (افزایش قیمت‌ها در سال سوم)

تولید در سال سوم به قیمت پایه - تولید در سال سوم به قیمت جاری =

$$= ۱۸۷۵ - ۱۷۱۰ = ۱۶۵ \text{ هزار میلیارد ریال}$$

تولید در سال پایه - تولید در سال دوم به قیمت پایه = افزایش مقدار تولید در سال دوم

$$= ۱۶۵۰ - ۱۵۰۰ = ۱۵۰ \text{ هزار میلیارد ریال}$$

تولید در سال پایه - تولید در سال سوم به قیمت پایه = افزایش مقدار تولید در سال سوم

$$= ۱۷۱۰ - ۱۵۰۰ = ۲۱۰ \text{ هزار میلیارد ریال}$$

افزایش قیمت‌ها در سال دوم و سوم همان اعداد مربوط به پدیده‌ی تورم در این سال‌هاست که در قسمت اول محاسبه شدند.

گزینه ۳ پاسخ صحیح است. الف) ۱۷۷

= میزان افزایش قیمت (تورم) در یک سال

تولید کل به قیمت ثابت در همان سال - تولید کل به قیمت جاری در همان سال

= میزان افزایش قیمت (تورم) در سال دوم

تولید کل به قیمت ثابت در سال دوم - تولید کل به قیمت جاری در سال دوم

۵۸۳۰ - تولید کل به قیمت جاری در سال دوم = ۲۴۷

هزار میلیارد ریال $6077 = 5830 + 247 =$ تولید کل به قیمت جاری در سال دوم

= میزان افزایش قیمت (تورم) در سال سوم

تولید کل به قیمت ثابت در سال سوم - تولید کل به قیمت جاری در سال سوم

تولید کل به قیمت ثابت در سال سوم - ۷۸۰۰ = ۱۶۳۱

تولید کل به قیمت ثابت در سال پایه - تولید کل به قیمت ثابت در سال موردنظر افزایش مقدار تولید در یک سال (ب)

هزار میلیارد ریال $1540 = 5830 - 4290 =$ افزایش مقدار تولید در سال دومهزار میلیارد ریال $1879 = 4290 - 6169 =$ افزایش مقدار تولید در سال سومگزینه ۴ پاسخ صحیح است. درآمد ملی دربرگیرنده‌ی مجموع درآمدهایی است که در طول سال نصیب اعضای جامعه می‌شود، ۱۷۸

این درآمدها عبارتند از: درآمد حقوق‌بگیران (دستمزدها)، درآمد صاحبان سرمایه (قیمت خدمات سرمایه (ردیف ۴))، درآمد

صاحبان املاک و مستغلات (اجازه (ردیف ۱))، درآمد صاحبان مشاغل آزاد و سودی که نصیب شرکت‌ها و مؤسسه‌ها می‌شود.

الف) درآمد صاحبان سرمایه (قیمت خدمات سرمایه (ردیف ۴))، درآمد صاحبان املاک و مستغلات (اجازه (ردیف ۱))

$$\text{ب) (درآمد صاحبان سرمایه)} = \frac{2}{3} \times \text{سود شرکت‌ها و مؤسسه‌ها}$$

$$\text{میلیارد ریال } 232 = \frac{2}{3} \times (348) = \text{سود شرکت‌ها و مؤسسات}$$

$$\text{درآمد حقوق‌بگیران} = \frac{2}{6} \times (\text{مجموع درآمد ردیف‌های ۱ و ۶})$$

$$\text{میلیارد ریال } 187 = \frac{2}{6} \times (328 + 232) = \text{درآمد حقوق‌بگیران}$$

$$\text{درآمد صاحبان مشاغل آزاد} = \frac{1}{3} \times (\text{مجموع درآمد ردیف‌های ۴ و ۶})$$

$$\text{میلیارد ریال } 193 \simeq \frac{1}{3} \times (348 + 232) = \text{درآمد صاحبان مشاغل آزاد}$$

$$\text{میلیارد ریال } 1521 = 328 + 232 + 187 + 348 + 193 + 232 = \text{درآمد ملی}$$

$$\text{ج) درآمد سرانه} = \frac{\text{درآمد ملی}}{\text{جمعیت کشور}} = \frac{1521}{50} = 30.42$$

د) درآمد سرانه عبارت از سهم متوسط هر فرد جامعه در میزان تولید یا درآمد آن جامعه است.

گزینه ۱ پاسخ صحیح است. (۱۷۹)

$$\text{میلیارد ریال } ۳۹ = \frac{۳}{۵} \times ۶۵ = \text{ارزش خدمات ارائه شده}$$

ارزش خدمات ارائه شده + ارزش مواد غذایی + ارزش پوشاک + ارزش ماشین آلات = تولید ناخالص داخلی
+ ارزش تولید خارجیان مقیم کشور

$$\text{میلیارد ریال } ۲۱۹ = ۱۶۵ + ۳۹ + ۱۵ = \text{تولید ناخالص داخلی}$$

$$\text{میلیارد ریال } ۱۰ = \frac{۲}{۳} \times ۱۵ = \text{هزینه‌ی استهلاک}$$

هزینه‌ی استهلاک - تولید ناخالص داخلی = تولید خالص داخلی

$$\text{میلیارد ریال } ۲۰۹ = ۲۱۹ - ۱۰ = \text{تولید خالص داخلی}$$

$$\frac{\text{تولید خالص داخلی}}{\text{جمعیت کشور}} = \frac{۲۰۹}{۶۵} = ۳/۲۱ = \text{تولید خالص سرانه}$$

تولید مردم کشور در خارج اقامت دارند + تولید خارجیان مقیم کشور - تولید خالص داخلی = تولید خالص ملی

$$\text{میلیارد ریال } ۲۵۹ = ۲۰۹ - ۱۵ + ۶۵ = \text{تولید خالص ملی}$$

گزینه ۳ پاسخ صحیح است. (۱۸۰)

$$\text{ریال } ۳۶۰,۰۰۰,۰۰۰ = ۴۰۰ \times ۹۰۰,۰۰۰ = \text{درآمد سالانه‌ی بنگاه}$$

$$\text{ریال } ۱۲۰,۰۰۰,۰۰۰ = ۱۰,۰۰۰,۰۰۰ \times ۱۲ = \text{اجازه‌ی سالانه‌ی بنگاه}$$

$$\text{ریال } ۱۰۰,۸۰۰,۰۰۰ = ۷۰۰,۰۰۰ \times ۱۲ \times ۱۲ = \text{مجموع حقوق سالانه‌ی تمامی کارمندان بنگاه}$$

$$\text{ریال } ۲۵,۲۰۰,۰۰۰ = \frac{۲۵}{۱۰۰} \times ۱۰۰,۸۰۰,۰۰۰ = \text{هزینه‌ی استهلاک سالانه}$$

$$\text{ریال } ۴۲۴,۰۰۰,۰۰۰ = ۱۲۰,۰۰۰,۰۰۰ + ۱۰۰,۸۰۰,۰۰۰ + ۲۵,۲۰۰,۰۰۰ + ۱۷۸,۰۰۰,۰۰۰ = \text{هزینه‌ی سالانه‌ی بنگاه}$$

هزینه‌ها - درآمد = سود یا زیان

$$\text{ریال } -۶۴,۰۰۰,۰۰۰ = ۳۶۰,۰۰۰,۰۰۰ - ۴۲۴,۰۰۰,۰۰۰ = \text{(ضرر یا زیان)}$$

گزینه ۴ پاسخ صحیح است. (۱۸۱)

$$\text{وات } ۶۰۰ = ۳ \times ۲۰۰ = \text{میزان مصرف هر خانوار}$$

$$\text{مگاوات } ۱۱,۴۰۰ = ۱۱,۴۰۰,۰۰۰,۰۰۰ \div ۱۰۰۰ = \text{میزان مصرف کل خانوارها}$$

$$\text{وات } ۴۰۰ = ۲ \times ۲۰۰ = \text{میزان مصرف هر خانوار (الف)}$$

$$\text{وات } ۲۰۰ = ۶۰۰ - ۴۰۰ = \text{میزان صرفه‌جویی هر خانوار}$$

$$\text{مگاوات } ۳۸۰۰ = ۳۸۰۰,۰۰۰,۰۰۰ \div ۱۰۰۰ = \text{میزان صرفه‌جویی کل خانوارها}$$

$$\text{مگاوات } ۱۴۲۵۰ = \frac{۱۱,۴۰۰ \times ۵}{۴} = \text{ظرفیت تولید برق نیروگاه} \Rightarrow ۱۱,۴۰۰ = \text{ظرفیت تولید برق نیروگاه (ب)}$$

$$\text{درصد } ۲۶/۶۶ = \frac{۳۸۰۰}{۱۴,۲۵۰} \times ۱۰۰ = \text{میزان افزایش ظرفیت تولید برق نیروگاه (ج)}$$

گزینه ۱ پاسخ صحیح است. (۱۸۲)

$$\text{میلیون تومان } ۵۶ = x - (۶ \times ۱۲) = \text{سود} = \text{هزینه} - \text{درآمد}$$

$$۷۲ - ۵۶ = \text{میلیون تومان } ۱۶ = ?$$

$$\text{درآمد } ۱۲۸ = ۵۶ + ۷۲$$

$$\text{میلیون ریال } ۳۵۰ \text{ یا } ۳۵ \text{ میلیون تومان } ۳۵ = ۲۱ - ۵۶ \Rightarrow \text{پولی که باید خمس دهیم} = \text{مخارج} - \text{سود}$$

گزینه ۳ پاسخ صحیح است. صرفه‌جویی در هزینه‌های متغیر تصمیم درست در شرایط فوریت مالی و حفظ توازن کار و زندگی است.

نکته: مخارج ثابت سخت‌تر و ممکن است توازن زندگی را به هم بزند.

گزینه ۱ پاسخ صحیح است.

میلیون تومان $240 = 20 \times 12 =$ هزینه‌های سالانه فرد (الف)

میلیون تومان $8/4 =$ خمس پرداختی

(هزینه‌های سالانه فرد - درآمد سالانه) $\times \frac{1}{5} =$ خمس پرداختی

میلیون تومان $282 = 42 + 240 = x \Rightarrow x - 240 = 42 \Rightarrow x = 42 + 240 = 282$

هزینه‌های سالانه فرد - درآمد سالانه = درآمد مشمول خمس (ب)

میلیون ریال $420 = 42 \times 10 =$ میلیون تومان $42 = 282 - 240 =$

گزینه ۲ پاسخ صحیح است.

(الف) میزان سرمایه اولیه فرد: ۸۰ میلیون تومان

وی با همین ۸۰ میلیون تومان، ۲۵۰۰ ورقه سهام خریداری کرد؛ همینجا می‌توان قیمت اسمی هر ورق سهم را مشخص کرد:

تومان $32,000 = \frac{80,000,000}{2,500} =$ ارزش سهام خریداری شده توسط فرد = ارزش اسمی هر سهم

(ب) در پایان سال این فرد همه سهام خود را به ارزش ۲۲۵ میلیون تومان فروخت، با این اطلاعات می‌توان قیمت بازاری هر ورق سهم را مشخص کرد:

تومان $90,000 = \frac{225,000,000}{2,500} =$ ارزش سهام خریداری شده توسط فرد در پایان سال = ارزش بازاری هر سهم

ریال $900,000 = 90,000 \times 10 =$

(ج) میزان سود فرد در پایان سال برابر ۱۴۵ میلیون تومان است ($145 = 225 - 80$) که پس از کسر مخارج، به آن خمس تعلق می‌گیرد، در نتیجه خواهیم داشت:

میلیون تومان $10 = \frac{1}{5} \times 50 = \frac{1}{5} (225 - 80 - 95) =$ میزان خمس پرداختی

گزینه ۴ پاسخ صحیح است. مراحل بودجه‌ریزی ماهیانه:

۱- از هر منبعی که درآمدی به دست آوردید، آن درآمد را ماهیانه مشخص کنید و بنویسید.

۲- هزینه‌های متغیر و ثابت خود را به صورت ماهیانه فهرست کنید.

۳- مجموع درآمد و هزینه‌های خود را ماهیانه با یکدیگر مقایسه کنید.

۴- اگر هزینه‌ها بیشتر از درآمد بود، مخارج غیرضروری را کم کنید یا فرصت‌هایی را که فراموش کردید، به نظر آورید تا درآمدها افزایش یابد.

گزینه ۲ پاسخ صحیح است.

حالت درست گزینه (ب) بر اساس گزارش فائو - سازمان خواروبار و کشاورزی ملل متحد - سالیانه $\frac{1}{3}$ مواد غذایی دور ریخته

می‌شود.

حالت درست مورد (د) گزارش‌ها نشان می‌دهد که ائتلاف مواد غذایی بسیار فراتر از متوسط جهانی است.

۱۸۸

گزینه ۴ پاسخ صحیح است. هر کدام از مراحل را به صورت زیر مشخص می‌کنیم.
تعریف مسئله: سهراب با ۶۰۰ هزار تومان می‌خواهد یک کفش کتانی برای مسابقه دو میدانی هفته آینده بخرد.
فهرست گزینه: رنگ و سایر و شرکت سازنده
تعیین معیارها: خدمات پس از فروش داشته باشد.
ارزیابی: اصلاً ارزیابی انجام شده است.
تصمیم‌گیری: از همان‌جا می‌خرد در واقع تصمیم‌گیری او می‌باشد.

۱۸۹

گزینه ۴ پاسخ صحیح است. بررسی گزینه‌ها:
گزینه ۱: نادرست است - برای کالای گران‌تر و پیچیده‌تر، نیاز بیشتری به خرید هوشمندانه وجود دارد تا گزینه‌های مختلف را قبل از انتخاب با هم مقایسه کنید.
گزینه ۲: نادرست است. در خرید مقایسه‌ای لازم است عوامل مختلفی مانند: ۱- تفاوت در ویژگی‌ها ۲- اندازه‌ها ۳- کیفیت محصول ۴- هویت محصول ۵- عملکرد آن ۶- قیمت ۷- خدمات پس از فروش در نظر گرفته شود.
گزینه ۳: نادرست است. در خرید مقایسه‌ای انتخاب را به گونه‌ای انجام دهید که اقتصاد شما، خانواده و جامعه بیشترین منفعت و کمترین هزینه را ببرد.
گزینه ۴: صحیح است. منظور از خرید مقایسه‌ای: فرایند بررسی قیمت‌ها و ویژگی‌های محصولات مشابه قبل از تصمیم‌گیری برای خرید.

۱۹۰

گزینه ۳ پاسخ صحیح است. خرید باید آگاهانه و هوشمندانه باشد. (ولی همه خریدهای ما این گونه نیست. خریدهای ما گاهی از روی هوس، بدون فکر و از روی احساسات آنی است.)
برای خرید هوشمندانه باید به این نکات توجه داشته باشید:
- شما اکنون به عنوان عضوی از یک خانواده و عضو یک جامعه در حال خرید کردن هستید.
- اگر به فکر رونق و پیشرفت اقتصادی خود هستید، این پیشرفت اقتصادی در گرو پیشرفت خانواده و جامعه شماست.
- برای خرید هوشمندانه مراقب باشید که نقش اجتماعی خود را در میدان اقتصاد فراموش نکنید.

۱۹۱

گزینه ۲ پاسخ صحیح است. دومین مرحله از خرید مقایسه‌ای فهرست گزینه‌ها است برای مثال مواردی که می‌توان با آن مشکل را حل کرد. همچنین سومین مرحله از خرید مقایسه‌ای تعیین معیار می‌باشد مثلاً مواردی که هنگام خرید برای فرد حائز اهمیت است مثل رنگ و کیفیت و قیمت و ...

۱۹۲

گزینه ۱ پاسخ صحیح است.
در خرید مقایسه‌ای لازم است عوامل مختلفی از قبیل تفاوت در ویژگی‌ها، اندازه‌ها، کیفیت محصول، هویت محصول، عملکرد آن، قیمت و خدمات پس از فروش و ... در نظر گرفته شود، انتخاب را به گونه‌ای انجام دهید که اقتصاد شما، خانواده و جامعه، بیشترین منفعت و کمترین هزینه را ببرد.
پاسخ پیشنهادی:
کارمند بخش بازرگانی: زیبایی
راهنمای تور گردشگری: هویت
پزشک و پرستار بیمارستان: عملکرد
لباس راحتی در منزل: نیاز

گزینه ۳ پاسخ صحیح است. ۱۹۳

$$\text{الف) قیمت سهمی هر اسم} = \frac{\text{سرمایه اولیه}}{\text{تعداد سهام}} = \frac{۶۰,۰۰۰,۰۰۰}{۳۰۰} = ۲۰,۰۰۰$$

$$\text{ب) قیمت بازاری سهام} = \frac{\text{قیمت فروش سهام}}{\text{تعداد سهم}} = \frac{۲۴۰,۰۰۰,۰۰۰}{۳۰۰} = ۸۰,۰۰۰$$

$$\text{ج) خمس} = \frac{۱}{۵} (\text{خرج سالیانه} - \text{درآمد کل})$$

$$\text{تومان درآمد کل} = ۲۴۰,۰۰۰,۰۰۰ - ۶۰,۰۰۰,۰۰۰ = ۱۸۰,۰۰۰,۰۰۰$$

$$\text{تومان خرج سالیانه} = ۱۰,۰۰۰,۰۰۰ \times ۱۲ = ۱۲۰,۰۰۰,۰۰۰$$

$$\Rightarrow \text{تومان خمس} = (۱۸۰,۰۰۰,۰۰۰ - ۱۲۰,۰۰۰,۰۰۰) \times \frac{۱}{۵} = ۶۰,۰۰۰,۰۰۰ \times \frac{۱}{۵} = ۱۲,۰۰۰,۰۰۰$$

تذکر: صورت سؤال نسبت به دفترچه کنکور سراسری ۱۴۰۴ ویرایش و اصلاح شد.

گزینه ۱ پاسخ صحیح است. ۱۹۴

تفاوت طلا با سهام	
طلا	سهام
در هر زمان قابل فروش است.	در هر زمان قابل فروش نیست.
خرید طلا با دریافت سود سالیانه منظم همراه نیست و از محل تفاوت قیمت خرید و فروش آن می‌تواند برای خریدارش سود داشته باشد.	سهام‌داری حتی اگر قیمت ورقه سهام تغییر نکند، با دریافت سود شرکت در هر سال همراه است و از این محل دارندگان اوراق سهام نفع می‌برند.

گزینه ۴ پاسخ صحیح است. ۱۹۵

$$\text{ارزش سهام خریداری شده توسط فرد} = \frac{\text{ارزش اسمی (قیمت اولیه) هر سهم}}{\text{تعداد سهم خریداری شده}}$$

$$\text{ارزش اسمی (قیمت اولیه) هر سهم} = \frac{۱۵۰,۰۰۰,۰۰۰}{۷۵۰} = ۲۰۰,۰۰۰ \text{ تومان}$$

$$\text{ارزش بازاری (قیمت ثانویه) هر سهم} = \text{قیمت اسمی} \left(\frac{۱۰}{۱۰۰} \times \text{قیمت اسمی} \right)$$

$$= ۲۰۰,۰۰۰ + \left(۲۰۰,۰۰۰ \times \frac{۱۰}{۱۰۰} \right) = ۲۰۰,۰۰۰ + ۲۰,۰۰۰ = ۲۲۰,۰۰۰ \text{ تومان}$$

$$\text{الف) قیمت هر ورقه} = \frac{۸/۰۰۰/۰۰۰}{۴۰۰} = ۲/۰۰۰$$

گزینه ۱ پاسخ صحیح است. ۱۹۶

$$\text{ب) سود هر سهم} = ۵۵۰۰ - ۲۰۰۰ = ۳۵۰۰$$

$$\text{ج) ارزش بازاری} = ۵۵۰۰ \times ۴۰۰۰ = ۲۲/۰۰۰/۰۰۰$$

گزینه ۴ پاسخ صحیح است. طبق قوانین بانک‌ها برداشت سپرده از حساب‌های سرمایه‌گذاری بلندمدت مشمول جریمه می‌شود و بانک بخشی از سود پرداختی به شما را به عنوان جریمه کسر می‌کند. ۱۹۷

گزینه ۲ پاسخ صحیح است. ۱۹۸

- به ازای مدت زمان سپرده‌گذاری، به مشتری امتیاز دریافت وام تعلق می‌گیرد: مزایای حساب‌های بانک‌های قرض‌الحسنه «و»
- نرخ سود این سپرده‌ها تا پایان دوره قرارداد تغییر نمی‌کند: مزایای حساب‌های سپرده سرمایه‌گذاری بلندمدت «ب»
- نرخ سود این سپرده‌ها می‌تواند همزمان با افزایش نرخ سود عمومی بانک‌ها افزایش یابد: مزایای حساب‌های سپرده سرمایه‌گذاری کوتاه‌مدت «د»
- معمولاً مقدار حداقلی باید در این حساب‌ها باشد تا مشمول بستن قرارداد و دریافت سود گردد: معایب حساب‌های سپرده سرمایه‌گذاری بلندمدت «ه»

گزینه ۳ پاسخ صحیح است. ۱۹۹

میزان - ارزش سهام فروخته شده در پایان سال = میزان سرمایه اولیه فرد (الف)

$$\Rightarrow \text{میلیون تومان } ۱۲۰ = ۱۶۰ - ۴۰ = \text{میزان سرمایه اولیه فرد}$$

$$\text{تومان } ۴۸,۰۰۰ = \frac{۱۲۰,۰۰۰,۰۰۰}{۲,۵۰۰} = \frac{\text{میزان سرمایه اولیه فرد}}{\text{تعداد سهم خریداری شده}}$$

$$\text{ج) ارزش سهام فروخته شده توسط فرد در پایان سال} = \frac{\text{ارزش بازاری هر سهم}}{\text{تعداد سهم خریداری شده}}$$

$$= \frac{۱۶۰,۰۰۰,۰۰۰}{۲,۵۰۰} = \text{تومان } ۶۴,۰۰۰$$

گزینه ۳ پاسخ صحیح است. بررسی گزینه‌ها: ۲۰۰

گزینه ۱: نادرست است؛ سود سرمایه‌گذاری در سهام معمولاً از سپرده‌های بلندمدت در بانک هم بیشتر است؛ اما قطعی نیست.

گزینه ۲: نادرست است؛ در حساب‌های سرمایه‌گذاری بلندمدت هر چقدر زمان طولانی‌تری پول سپرده‌گذاری شود، سود بیشتری به آن تعلق می‌گیرد. (در خرید سهام ممکن است در بلندمدت شرکت سهامی زیان‌ده باشد و دارنده سهام آنها نیز متحمل ضرر و زیان شود).
گزینه ۳: درست است.

گزینه ۴: نادرست است؛ به اوراق مشارکت منتشر شده برحسب فعالیت اقتصادی مرتبط، سودی تعلق می‌گیرد، همچنین خرید و فروش سهام نیز ممکن است با محدودیت‌هایی مواجه باشد.

گزینه ۱ پاسخ صحیح است. ۲۰۱

الف) به دلیل حضور بانک‌ها در سرمایه‌گذاری غیرمستقیم از طریق استفاده از عقود اسلامی مجاز برای اعطای تسهیلات مالی به مشتریان خود، که در بخش واقعی اقتصاد است، سود بانکی (علی‌الحساب یا قطعی) اعطایی به سپرده‌گذاران در قانون، ربا تلقی نشده است.

ب) بورس با تشویق مردم به پس‌انداز و به‌کارگیری پس‌اندازها در فعالیت‌های مفید اقتصادی در کاهش نرخ تورم است.
ج) بخش دولتی شامل کلیه صنایع بزرگ، صنایع مادر، بازرگانی خارجی، معادن بزرگ، بانکداری، بیمه، تأمین نیرو، سدها و شبکه‌های بزرگ آبرسانی، رادیو و تلویزیون، پست و تلگراف و تلفن، هواپیمایی، کشتیرانی، راه و راه‌آهن و مانند این‌ها است که به صورت مالکیت عمومی و در اختیار دولت است.

گزینه ۲ پاسخ صحیح است. ۲۰۲

الف) بانک‌های مسکن یا کشاورزی بانک‌های تخصصی هستند که در ایران بیش‌تر نقش بانک تجاری را ایفا می‌کنند.
 ب) حيازت: برداشت مستقیم محصول آماده‌ی طبیعت و مالکیت آن (بدون این‌که کاری روی آن انجام شود). مثال: بهره‌برداری از علف مراتع، چوب جنگل‌ها، معادن و یا ماهی دریاها
 ج) برخی کشورها و سازمان‌های بین‌المللی از معیارها و شاخص‌های توسعه برای تحمیل الگوهای غربی سوءاستفاده می‌کنند، به طوری‌که گاهی توسعه‌یافتگی معادل غربی شدن تلقی شده است. از سوی دیگر الگوهای توسعه به طور معمول به تفاوت‌های بومی و محلی کشورها و هم‌چنین به تاریخ، فرهنگ، باورها و ارزش‌های اجتماعی آن‌ها توجه لازم را ندارد.
 د) درآمدها گاهی قابل ثبت نیست، به همین دلیل اقتصاددانان برای به دست آوردن شکاف درآمدی، شکاف هزینه‌ای را محاسبه می‌کنند. در این حالت هزینه‌ی خانوار نماینده‌ای از درآمد آن است.

۱	۱	۲	۳	۴
۲	۱	۲	۳	۴
۳	۱	۲	۳	۴
۴	۱	۲	۳	۴
۵	۱	۲	۳	۴
۶	۱	۲	۳	۴
۷	۱	۲	۳	۴
۸	۱	۲	۳	۴
۹	۱	۲	۳	۴
۱۰	۱	۲	۳	۴
۱۱	۱	۲	۳	۴
۱۲	۱	۲	۳	۴
۱۳	۱	۲	۳	۴
۱۴	۱	۲	۳	۴
۱۵	۱	۲	۳	۴
۱۶	۱	۲	۳	۴
۱۷	۱	۲	۳	۴
۱۸	۱	۲	۳	۴
۱۹	۱	۲	۳	۴
۲۰	۱	۲	۳	۴
۲۱	۱	۲	۳	۴
۲۲	۱	۲	۳	۴
۲۳	۱	۲	۳	۴
۲۴	۱	۲	۳	۴
۲۵	۱	۲	۳	۴
۲۶	۱	۲	۳	۴
۲۷	۱	۲	۳	۴
۲۸	۱	۲	۳	۴
۲۹	۱	۲	۳	۴
۳۰	۱	۲	۳	۴
۳۱	۱	۲	۳	۴
۳۲	۱	۲	۳	۴

۳۳	۱	۲	۳	۴
۳۴	۱	۲	۳	۴
۳۵	۱	۲	۳	۴
۳۶	۱	۲	۳	۴
۳۷	۱	۲	۳	۴
۳۸	۱	۲	۳	۴
۳۹	۱	۲	۳	۴
۴۰	۱	۲	۳	۴
۴۱	۱	۲	۳	۴
۴۲	۱	۲	۳	۴
۴۳	۱	۲	۳	۴
۴۴	۱	۲	۳	۴
۴۵	۱	۲	۳	۴
۴۶	۱	۲	۳	۴
۴۷	۱	۲	۳	۴
۴۸	۱	۲	۳	۴
۴۹	۱	۲	۳	۴
۵۰	۱	۲	۳	۴
۵۱	۱	۲	۳	۴
۵۲	۱	۲	۳	۴
۵۳	۱	۲	۳	۴
۵۴	۱	۲	۳	۴
۵۵	۱	۲	۳	۴
۵۶	۱	۲	۳	۴
۵۷	۱	۲	۳	۴
۵۸	۱	۲	۳	۴
۵۹	۱	۲	۳	۴
۶۰	۱	۲	۳	۴
۶۱	۱	۲	۳	۴
۶۲	۱	۲	۳	۴
۶۳	۱	۲	۳	۴
۶۴	۱	۲	۳	۴


۶۵	۱	۲	۳	۴
۶۶	۱	۲	۳	۴
۶۷	۱	۲	۳	۴
۶۸	۱	۲	۳	۴
۶۹	۱	۲	۳	۴
۷۰	۱	۲	۳	۴
۷۱	۱	۲	۳	۴
۷۲	۱	۲	۳	۴
۷۳	۱	۲	۳	۴
۷۴	۱	۲	۳	۴
۷۵	۱	۲	۳	۴
۷۶	۱	۲	۳	۴
۷۷	۱	۲	۳	۴
۷۸	۱	۲	۳	۴
۷۹	۱	۲	۳	۴
۸۰	۱	۲	۳	۴
۸۱	۱	۲	۳	۴
۸۲	۱	۲	۳	۴
۸۳	۱	۲	۳	۴
۸۴	۱	۲	۳	۴
۸۵	۱	۲	۳	۴
۸۶	۱	۲	۳	۴
۸۷	۱	۲	۳	۴
۸۸	۱	۲	۳	۴
۸۹	۱	۲	۳	۴
۹۰	۱	۲	۳	۴
۹۱	۱	۲	۳	۴
۹۲	۱	۲	۳	۴
۹۳	۱	۲	۳	۴
۹۴	۱	۲	۳	۴
۹۵	۱	۲	۳	۴
۹۶	۱	۲	۳	۴

۹۷	۱	۲	۳	۴
۹۸	۱	۲	۳	۴
۹۹	۱	۲	۳	۴
۱۰۰	۱	۲	۳	۴
۱۰۱	۱	۲	۳	۴
۱۰۲	۱	۲	۳	۴
۱۰۳	۱	۲	۳	۴
۱۰۴	۱	۲	۳	۴
۱۰۵	۱	۲	۳	۴
۱۰۶	۱	۲	۳	۴
۱۰۷	۱	۲	۳	۴
۱۰۸	۱	۲	۳	۴
۱۰۹	۱	۲	۳	۴
۱۱۰	۱	۲	۳	۴
۱۱۱	۱	۲	۳	۴
۱۱۲	۱	۲	۳	۴
۱۱۳	۱	۲	۳	۴
۱۱۴	۱	۲	۳	۴
۱۱۵	۱	۲	۳	۴
۱۱۶	۱	۲	۳	۴
۱۱۷	۱	۲	۳	۴
۱۱۸	۱	۲	۳	۴
۱۱۹	۱	۲	۳	۴
۱۲۰	۱	۲	۳	۴
۱۲۱	۱	۲	۳	۴
۱۲۲	۱	۲	۳	۴
۱۲۳	۱	۲	۳	۴
۱۲۴	۱	۲	۳	۴
۱۲۵	۱	۲	۳	۴
۱۲۶	۱	۲	۳	۴
۱۲۷	۱	۲	۳	۴
۱۲۸	۱	۲	۳	۴

۱۲۹	۱	۲	۳	۴
۱۳۰	۱	۲	۳	۴
۱۳۱	۱	۲	۳	۴
۱۳۲	۱	۲	۳	۴
۱۳۳	۱	۲	۳	۴
۱۳۴	۱	۲	۳	۴
۱۳۵	۱	۲	۳	۴
۱۳۶	۱	۲	۳	۴
۱۳۷	۱	۲	۳	۴
۱۳۸	۱	۲	۳	۴
۱۳۹	۱	۲	۳	۴
۱۴۰	۱	۲	۳	۴
۱۴۱	۱	۲	۳	۴
۱۴۲	۱	۲	۳	۴
۱۴۳	۱	۲	۳	۴
۱۴۴	۱	۲	۳	۴
۱۴۵	۱	۲	۳	۴
۱۴۶	۱	۲	۳	۴
۱۴۷	۱	۲	۳	۴
۱۴۸	۱	۲	۳	۴
۱۴۹	۱	۲	۳	۴
۱۵۰	۱	۲	۳	۴
۱۵۱	۱	۲	۳	۴
۱۵۲	۱	۲	۳	۴
۱۵۳	۱	۲	۳	۴
۱۵۴	۱	۲	۳	۴
۱۵۵	۱	۲	۳	۴
۱۵۶	۱	۲	۳	۴
۱۵۷	۱	۲	۳	۴
۱۵۸	۱	۲	۳	۴
۱۵۹	۱	۲	۳	۴
۱۶۰	۱	۲	۳	۴


۱۶۱	۱	۲	۳	۴
۱۶۲	۱	۲	۳	۴
۱۶۳	۱	۲	۳	۴
۱۶۴	۱	۲	۳	۴
۱۶۵	۱	۲	۳	۴
۱۶۶	۱	۲	۳	۴
۱۶۷	۱	۲	۳	۴
۱۶۸	۱	۲	۳	۴
۱۶۹	۱	۲	۳	۴
۱۷۰	۱	۲	۳	۴
۱۷۱	۱	۲	۳	۴
۱۷۲	۱	۲	۳	۴
۱۷۳	۱	۲	۳	۴
۱۷۴	۱	۲	۳	۴
۱۷۵	۱	۲	۳	۴
۱۷۶	۱	۲	۳	۴
۱۷۷	۱	۲	۳	۴
۱۷۸	۱	۲	۳	۴
۱۷۹	۱	۲	۳	۴
۱۸۰	۱	۲	۳	۴
۱۸۱	۱	۲	۳	۴
۱۸۲	۱	۲	۳	۴
۱۸۳	۱	۲	۳	۴
۱۸۴	۱	۲	۳	۴
۱۸۵	۱	۲	۳	۴
۱۸۶	۱	۲	۳	۴
۱۸۷	۱	۲	۳	۴
۱۸۸	۱	۲	۳	۴
۱۸۹	۱	۲	۳	۴
۱۹۰	۱	۲	۳	۴
۱۹۱	۱	۲	۳	۴
۱۹۲	۱	۲	۳	۴

۱۹۳	۱	۲	۳	۴
۱۹۴	۱	۲	۳	۴
۱۹۵	۱	۲	۳	۴
۱۹۶	۱	۲	۳	۴
۱۹۷	۱	۲	۳	۴
۱۹۸	۱	۲	۳	۴
۱۹۹	۱	۲	۳	۴
۲۰۰	۱	۲	۳	۴
۲۰۱	۱	۲	۳	۴
۲۰۲	۱	۲	۳	۴



مهديس ريفعي

اعضای مصنوعی و وسایل کمکی
علوم پزشکی ایران



شایان جعفري

دندانپزشکی
علوم پزشکی بندرعباس



نرگس مرداني

پرستاری
علوم پزشکی ایران




ياسمين نوروزي

پزشکی
جندی شاپور



هانیه مصدق

پرستاری
آزاد نیشابور



مهشيد فاطمي

پزشکی
علوم پزشکی کاشان



مبینا گودرزی

تکنولوژی اتاق عمل
علوم پزشکی سبزوار



مأده نظري

تکنولوژی اتاق عمل
علوم پزشکی گرگان



ابوالفضل حسيني

دندانپزشکی
علوم پزشکی رشت



محمدحسين نظري

پزشکی
علوم پزشکی همدان



زهرا حمدي

علوم آزمایشگاهی
علوم پزشکی دزفول



ابراهيم هناره

دندانپزشکی
علوم پزشکی ارومیه



هستي عباسلو

هوشبری
علوم پزشکی رفسنجان




سارا مرادي

پرستاری
دانشگاه آزاد واحد شهرکرد



شنتيا زماني

دندانپزشکی
علوم پزشکی شهید بهشتی



نگار دلاوري

پرستاری
آزاد رشت



سحر درخشان

پزشکی
آزاد نجف آباد



پريسا سادات موسوي

زیست شناسی سلولی و مولکولی
دانشگاه تهران



سوغند تیموري

پزشکی
علوم پزشکی کرمانشاه




محدثه خان محمدي

تکنولوژی اتاق عمل
علوم پزشکی زنجان



محمدصفا مارمائی

پزشکی
علوم پزشکی گرگان




ملیکا ابراهیمی نژاد

دندانپزشکی
آزاد بروجرد




الینا بصیری

تکنولوژی اتاق عمل
علوم پزشکی همدان




فاطمه حبیبی

پزشکی
علوم پزشکی سمنان




فاطمه محمد رحيمي

پرستاری
دانشگاه آزاد اسلامی واحد مرند



زينب رنجبر

پرستاری
آزاد اسلامی واحد ساری




بهار اسلامي

پزشکی
علوم پزشکی رشت



محمدامين متين

پزشکی
علوم پزشکی دزفول



فاطمه شريفی پيرکوهی

فیزیوتراپی
دانشگاه علوم پزشکی جندی شاپور




محمدفرحان کرمي

پرستاری
علوم پزشکی بابل



نرگس کليج

پزشکی
علوم پزشکی سمنان




شایان جعفري

کار درمانی
علوم توانبخشی و سلامت اجتماعی تهران



فاطمه ميرزايي

پزشکی
علوم پزشکی زنجان



محمدرضا اسپرچانی

پزشکی
دانشگاه آزاد اسلامی واحد زاهدان



مینو رسولی

پزشکی
علوم پزشکی شیراز



ساناز جعفري

علوم تغذیه
علوم پزشکی اصفهان



فاطمه علی پناه

پزشکی
علوم پزشکی مازندران



الهه غلامپور

پزشکی
علوم پزشکی مازندران



عرشیا نادری

پزشکی
آزاد اسلامی واحد نجف آباد



هانیه اعتمادی

پرستاری
دانشگاه آزاد اسلامی واحد ساری



زهرا حمدی

پزشکی
علوم پزشکی زنجان



سحر قنبری

داروسازی
علوم پزشکی کرمان



سجاد قویدل

مهندسی صنایع
دانشگاه صنعتی اصفهان



نرگس دهاقین

داروسازی
علوم پزشکی همدان




امیرعلی جهانشاهی

داروسازی
علوم پزشکی مازندران




فاطمه رحمانی

دندانپزشکی
علوم پزشکی زنجان



پارمیس یوسفی

پرستاری
دانشگاه آزاد اسلامی واحد مرند



فرناز اقایبی

پرستاری
علوم پزشکی کاشان



محمد اکبری

مهندسی برق
دانشگاه صنعتی اصفهان




ثنا شریفی

آمار
دانشگاه علامه طباطبایی تهران




سوگند احمدی

مهندسی نفت
دانشگاه شیراز



علی فتاح

مهندسی صنایع
دانشگاه یزد



مهتاب سلیمی

ریاضیات و کاربرد ها
دانشگاه الزهراء(س)



عرشیا شفیع زاده

مهندسی برق
شهید باهنر کرمان



مهسا یاری

بیم سنجی
دانشگاه شهید بهشتی تهران



محمد شیرزایی

مهندسی مکانیک
دانشگاه فردوسی مشهد



ماهان استرکی

مهندسی شیمی
دانشگاه صنعت نفت آبادان



یاس سنجرانی

مهندسی مکانیک
دانشگاه کاشان



کوثر صحتی

مهندسی معماری
دانشگاه خوارزمی تهران



حمید رضا بهزادی

مهندسی مکانیک
دانشگاه صنعتی شریف



مهلا الهی

مهندسی علم و مواد
دانشگاه صنعتی نوشیروانی بابل



محمد هادی تاجیکی

مهندسی مکانیک
دانشگاه شهید رجایی



آرمن دارابی

مهندسی مکانیک
دانشگاه قم




حامد لاوی

مهندسی شیمی
صنعتی نوشیروانی بابل



مبینا مروتی

حسابداری
دانشگاه تهران




محمد حسن نوابی

مهندسی مکانیک
دانشگاه بوعلی همدان



ساره کریمی

اقتصاد
دانشگاه خوارزمی تهران




مبینا رودنی

حسابداری
دانشگاه زاهدان



زینب میرزائی

حسابداری
دانشگاه اراک




ایلید پورمهدی

سینما
دانشگاه دامغان



فهیمه امیری مقدم

نوازندگی موسیقی جهانی
دانشگاه تهران



نگار مشهدی

عکاسی
دانشگاه سمنان